

Mời các em học sinh và quý thầy cô tham khảo hướng dẫn Giải Toán lớp 3 VNEN Bài 84: Tiền Việt Nam được đội ngũ chuyên gia biên soạn đầy đủ và ngắn gọn dưới đây. Hi vọng sẽ giúp các em học sinh nắm tốt kiến thức bài học, bổ sung cho mình các kỹ năng thực hành giải bài tập một cách chính xác nhất.

### ***Hoạt động cơ bản Tiền Việt Nam***

**1. Hãy kể tên các tờ giấy bạc mà chúng mình đã được học? Hãy kể cho bạn nghe em đã dùng tiền vào các việc gì có ích cho bản thân**

**Trả lời:**

Tên các tờ giấy bạc mà chúng mình đã được học là: một trăm đồng, hai trăm đồng, năm trăm đồng, một nghìn đồng, hai nghìn đồng, năm nghìn đồng và 10 nghìn đồng.

Những việc em dùng tiền có ích cho bản thân là:

Mua đồ dùng học tập

Mua đồ chơi cho em gái

Quyên góp mua tấm ủng hộ người mù

Ủng hộ đồng bào lũ lụt

.....

**2. Quan sát các tờ tiền dưới đây và trả lời câu hỏi:**



- Hình trên có các tờ giấy bạc loại nào?
- Trên bề mặt của mỗi tờ giấy bạc có ghi những gì?

**Trả lời:**

- Hình trên có các tờ giấy bạc loại: Hai mươi nghìn, năm mươi nghìn và một trăm nghìn.
- Trên bề mặt của mỗi tờ giấy bạc có ghi mệnh giá tờ tiền cả bằng chữ và bằng số, ghi quốc hiệu của nước Việt Nam và số seri của tờ tiền...

**3. Chơi trò chơi "đố bạn":**

Muốn có 100 000 đồng thì cần lấy:

- Mấy tờ 50 000 đồng?
- Mấy tờ 20 000 đồng?
- Mấy tờ 10 000 đồng?

**Trả lời:**

Muốn có 100 000 đồng thì cần lấy:

- 2 tờ 50 000 đồng.

b. 5 từ 20 000 đồng.


c. 10 từ 10 000 đồng.

**Hoạt động thực hành Tiên Việt Nam**

Dưới đây sẽ hướng dẫn trả lời và giải đáp các câu hỏi trong bài học một cách chi tiết, dễ hiểu.

**Câu 1 Trang 85 Toán VNEN 3 tập 2**

Quan sát tranh rồi thực hiện các hoạt động sau:



Trả lời câu hỏi:

Trong các đồ vật trên, đồ vật nào có giá cao nhất, đồ vật nào có giá thấp nhất?

Mua quyển truyện và con lợn tiết kiệm hết bao nhiêu tiền?

Quyển truyện đắt hơn cái ê ke bao nhiêu tiền?

**Trả lời:**

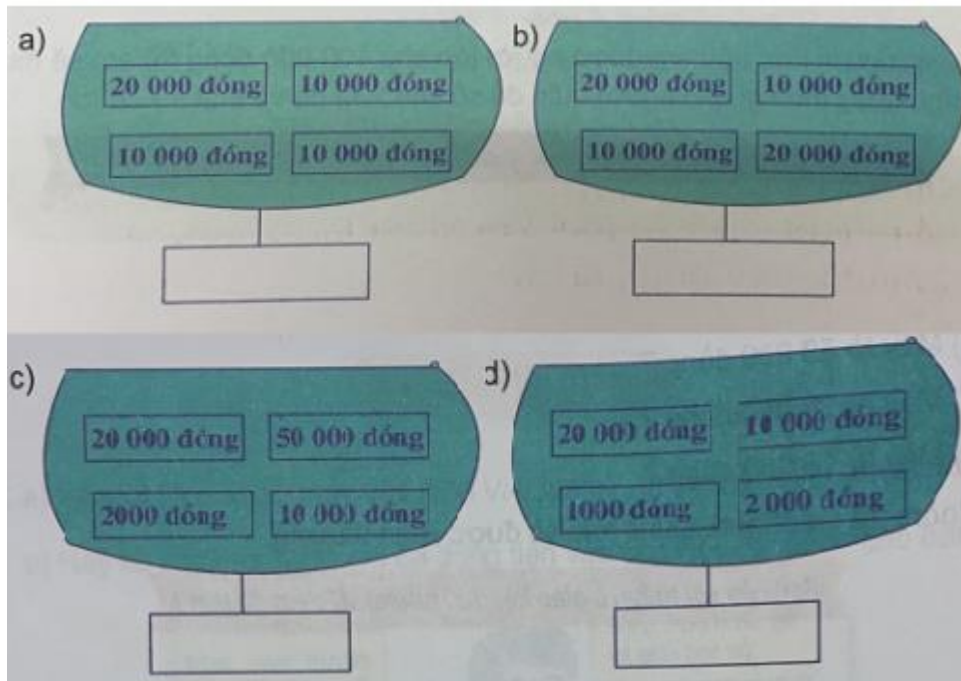
Trong các đồ vật trên, bình hoa có giá cao nhất (100 000 đồng), chiếc ê ke có giá thấp nhất (15 000 đồng).

Mua quyển truyện và con lợn tiết kiệm hết số tiền là:  $42\ 000 + 36\ 000 = 78\ 000$  (đồng)

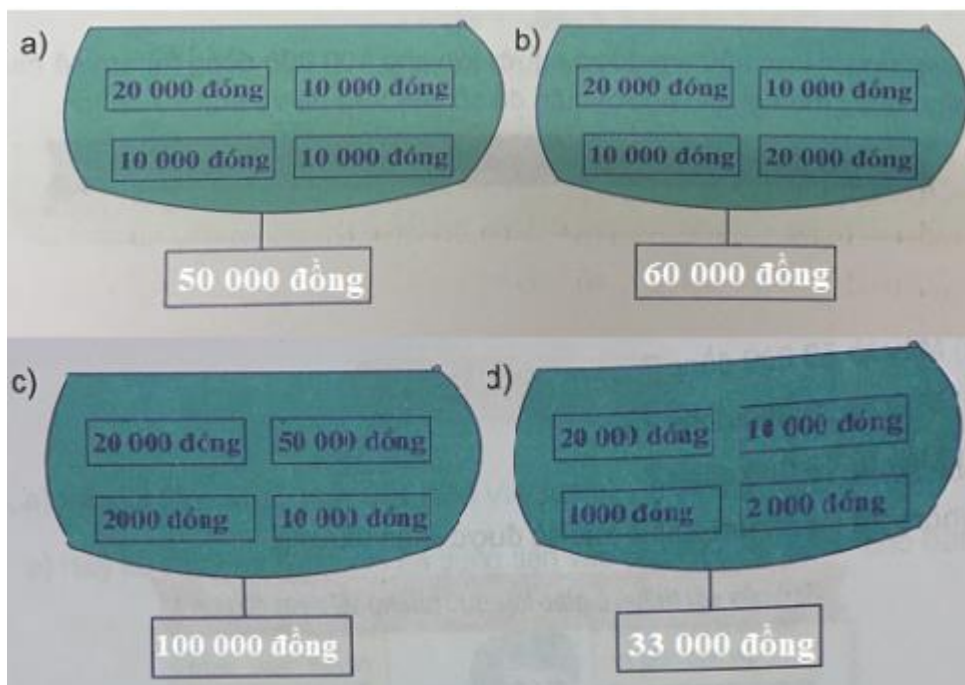
Quyển truyện đắt hơn cái ê ke số tiền là:  $42\ 000 - 15\ 000 = 27\ 000$  (đồng)

**Câu 2 Trang 85 Toán VNEN lớp 3 tập 2**

Mỗi ví đựng bao nhiêu tiền?



**Trả lời:**



**Câu 3 Trang 86 Toán 3 VNEN tập 2**

Viết số thích hợp vào ô trống (theo mẫu):

Tổng số tiền phải trả	Các cách trả	Số các tờ giấy bạc		
		10 000 đồng	20 000 đồng	50 000 đồng
80 000 đồng	Cách 1	1	1	1
	Cách 2	3	0	1
70 000 đồng	Cách 1			
	Cách 2			
100 000 đồng	Cách 1			
	Cách 2			

**Trả lời:**

Tổng số tiền phải trả	Các cách trả	Số các tờ giấy bạc		
		10 000 đồng	20 000 đồng	50 000 đồng
80 000 đồng	Cách 1	1	1	1
	Cách 2	3	0	1
70 000 đồng	Cách 1	0	1	1
	Cách 2	3	2	0
100 000 đồng	Cách 1	3	1	1
	Cách 2	0	0	2

**Câu 4 Trang 86 Toán lớp 3 VNEN tập 2**

Mẹ mua cho Mai một chiếc cặp sách hết 25 000 đồng, một bộ quần áo hết 45 000 đồng. Mẹ đưa cho cô bán hàng một tờ giấy bạc loại 100 000 đồng. Hỏi cô bán hàng phải trả lại mẹ bao nhiêu tiền?

**Trả lời:**

Mẹ mua chiếc cặp và bộ quần áo hết số tiền là:

$$25\ 000 + 45\ 000 = 70\ 000 \text{ (đồng)}$$

Cô bán hàng phải trả lại mẹ số tiền là:

$$100\ 000 - 70\ 000 = 30\ 000 \text{ (đồng)}$$

Đáp số: 30 000 đồng

**Hoạt động ứng dụng Tiền Việt Nam**

Cùng xem gợi ý đáp án

**Câu 1 Trang 86 Toán VNEN 3 tập 2**

Nói với người lớn, nếu em được người lớn cho 100 000 đồng thì em sẽ mua gì cho mình hoặc mua gì cho người thân để số tiền vừa đủ và thật sự có ích

**Trả lời:**

Ví dụ mẫu:

Nếu em được người lớn cho 100 000 đồng, em sẽ mua:

Mua tặng mẹ một chiếc khăn: 45 000 đồng

Mua tặng bố hai đôi tất chân: 20 000 đồng

Mua tặng bà nội coi ăn trà: 15 000 đồng

Mua cho e 5 tập vở mới : 20 000 đồng