

Hướng dẫn giải bài tập Toán lớp 3 VNEN Bài 77: So sánh các số trong phạm vi 100000 chi tiết, dễ hiểu được biên soạn bởi đội ngũ chuyên gia giàu kinh nghiệm chia sẻ. Hy vọng đây sẽ là tài liệu hữu ích hỗ trợ học sinh trong quá trình học tập. Mời các em tham khảo tại đây.

Hoạt động cơ bản So sánh các số trong phạm vi 100000**1. Thực hiện các hoạt động sau:**

Điền dấu $< = >$ vào chỗ chấm:

$$996 \dots 1000 \quad 5000 \dots 498$$

$$6702 \dots 6699 \quad 7251 \dots 7250 + 1$$


Trả lời:

$$996 < 1000 \quad 5000 > 498$$

$$6702 > 6699 \quad 7251 = 7250 + 1$$

2. Đọc kĩ nội dung sau: (sgk)**3. Điền dấu $< >$: (sgk)**

Trả lời:

**Hoạt động thực hành So sánh các số trong phạm vi 100000**

Dưới đây sẽ hướng dẫn trả lời các câu hỏi trong bài học mời các em cùng tham khảo

Câu 1 Trang 67 Toán VNEN 3 tập 2

Điền dấu $< = >$ vào chỗ chấm thích hợp:

100 000 99 999

16 780 21 130

42 130 39 976

73 005 71 896

65 785 65 801

20 110 20 119

89 324 89 327

75 630 75 629 + 1

Trả lời:

100 000 $>$ 99 999

16 780 $<$ 21 130

42 130 $>$ 39 976

73 005 $>$ 71 896

65 785 $<$ 65 801

20 110 $<$ 20 119

89 324 $<$ 89 327

75 630 = 75 629 + 1

Câu 2 Trang 67 Toán VNEN lớp 3 tập 2

a. Tìm số lớn nhất trong các số: 32 574, 54 732, 42 375, 25 374

b. Tìm số bé nhất trong các số: 86 092, 89 620, 68 290, 92 806

Trả lời:

a. Số lớn nhất trong các số: 32 574, 54 732, 42 375, 25 374 là: 54 372

b. Số bé nhất trong các số: 86 092, 89 620, 68 290, 92 806 là: 68 920

Câu 3 Trang 67 Toán 3 VNEN tập 2

Viết các số 69 257, 79 625, 57 962, 29 756:

a. Theo thứ tự từ lớn đến bé

b. Theo thứ tự từ bé đến lớn

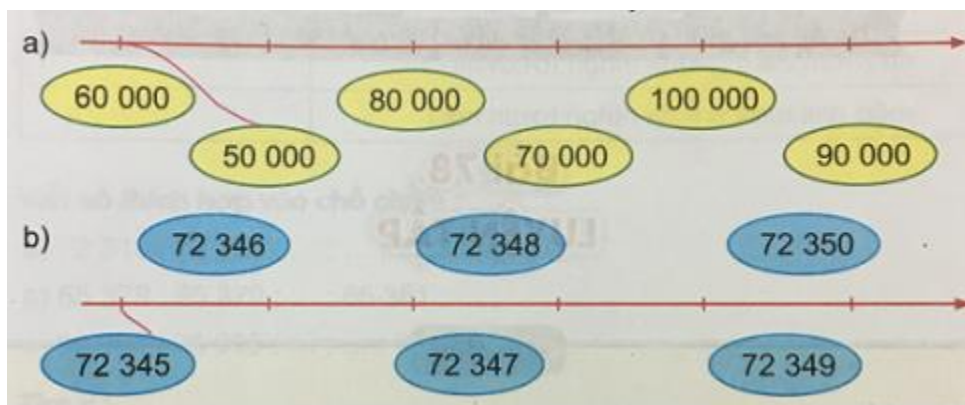
Trả lời:

a. Theo thứ tự từ lớn đến bé: 79 625, 69 257, 57 962, 29 756

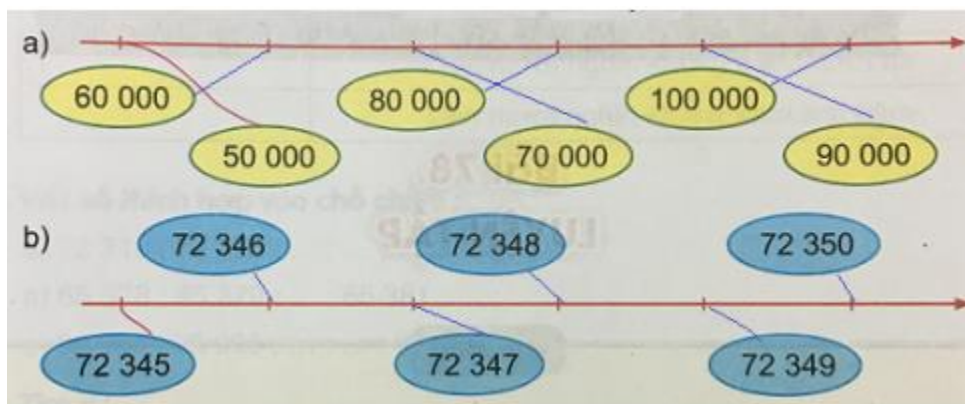
b. Theo thứ tự từ bé đến lớn: 29 756, 57 962, 69 257, 79 625

Câu 4 Trang 67 Toán lớp 3 VNEN tập 2

Nói với mỗi vạch chia thích hợp (theo mẫu):



Trả lời:



Câu 5 Trang 67 tập 2 Toán VNEN 3

Tính nhẩm:

$2000 + 5000 =$

$2000 \times 2 =$

$7000 - 5000 =$

$9500 - 200 =$

$5000 + 200 =$

$20 + 3000 \times 2 =$

$$3000 + 200 + 10 =$$

$$700 + 9000 : 3 =$$

Trả lời:

$$2000 + 5000 = 7000$$

$$2000 \times 2 = 4000$$

$$7000 - 5000 = 2000$$

$$9500 - 200 = 9300$$

$$5000 + 200 = 5200$$

$$20 + 3000 \times 2 = 20 + 6000 = 6020$$

$$3000 + 200 + 10 = 3210$$

$$700 + 9000 : 3 = 700 + 3000 = 3700$$

Câu 6 Trang 67 Toán VNEN 3 tập 2

Đặt tính rồi tính:

$$6729 + 2180 \quad 3216 \times 2$$

$$7296 - 5038 \quad 5680 : 4$$

Trả lời:

$$\begin{array}{r}
 6729 + 2180 \\
 \hline
 8909
 \end{array}
 \qquad
 \begin{array}{r}
 3216 \times 2 \\
 \hline
 6432
 \end{array}
 \qquad
 \begin{array}{r}
 7296 - 5038 \\
 \hline
 2258
 \end{array}
 \qquad
 \begin{array}{r}
 5680 : 4 \\
 \hline
 1420
 \end{array}$$

Hoạt động ứng dụng So sánh các số trong phạm vi 100000

Cùng xem gợi ý đáp án

Câu 1 Trang 68 Toán 3 VNEN tập 2

Bảng dưới đây cho biết chiều dài một số con sông lớn trên thế giới, hãy chỉ ra con sông nào dài nhất, con sông nào ngắn nhất. Viết tên các con sông theo thứ tự tăng dần về chiều dài.

Tên sông	Chiều dài
A-ma-dôn	6800km
Nin	6650km
Dương Tử	6211km
Mê-kông (Cửu Long)	4023km

Trả lời:

Con sông dài nhất đó là sông A-ma-dôn dài 6800km

Con sông ngắn nhất là sông Mê-kông dài 4023km.

Sắp xếp các con sông theo thứ tự tăng dần về chiều dài là:

Mê-kông (4023km) → Dương Tử (6211km) → Nin (6650km) → A-ma-dôn (6800km).