

Nội dung hướng dẫn giải Bài 70: Tiền Việt Nam được chúng tôi biên soạn bám sát bộ sách giáo khoa Toán lớp 3 chương trình mới (VNEN). Là tài liệu tham khảo hữu ích giúp các em học tốt môn Toán lớp 3.

Hoạt động cơ bản Tiền Việt Nam

1. Hãy kể tên một số tờ giấy bạc (tiền Việt Nam) mà em biết

Em đã dùng tiền vào việc có ích, hãy kể tên cho bạn nghe tên các việc đó.

Trả lời:

Tên một số tờ giấy bạc (tiền Việt Nam) mà em biết là: 2 trăm đồng, 5 trăm đồng, 1 nghìn đồng, 2 nghìn đồng, 5 nghìn đồng, 10 nghìn đồng...

Em đã dùng tiền vào những việc có ích:

Ủng hộ các bạn nhỏ ở vùng lũ lụt

Mua đồ dùng học tập

Mua quà sinh nhật cho bố mẹ

Mua đồ chơi cho em gái

2. Quan sát các tờ giấy bạc (tiền Việt Nam) dưới đây và trả lời câu hỏi:



- a. Hình trên có các tờ giấy bạc loại nào?
- b. Trên bề mặt của mỗi tờ giấy có ghi những gì?

Trả lời:

- a. Trên hình trên có các tờ giấy bạc loại: một trăm đồng, hai trăm đồng, năm trăm đồng, một nghìn đồng, hai nghìn đồng, năm nghìn đồng và mười nghìn đồng
- b. Trên bề mặt của mỗi tờ giấy có ghi:

Cộng hòa xã hội chủ nghĩa Việt Nam

Ghi tờ tiền bằng chữ

Ghi tờ tiền bằng số....

3. Chơi trò chơi "đố bạn":

Muốn có 1000 đồng, cần lấy:

- a. Mấy tờ 500 đồng?
- b. Mấy tờ 200 đồng?
- c. Mấy tờ 100 đồng?

Muốn có 10000 đồng, cần lấy:

- a. Mấy tờ 5000 đồng?
- b. Mấy tờ 2000 đồng?
- d. Mấy tờ 1000 đồng?

Trả lời:

Muốn có 1000 đồng, cần lấy:

- a. Hai tờ 500 đồng.
- b. Năm tờ 200 đồng.
- c. Mười tờ 100 đồng.

Muốn có 10000 đồng, cần lấy:

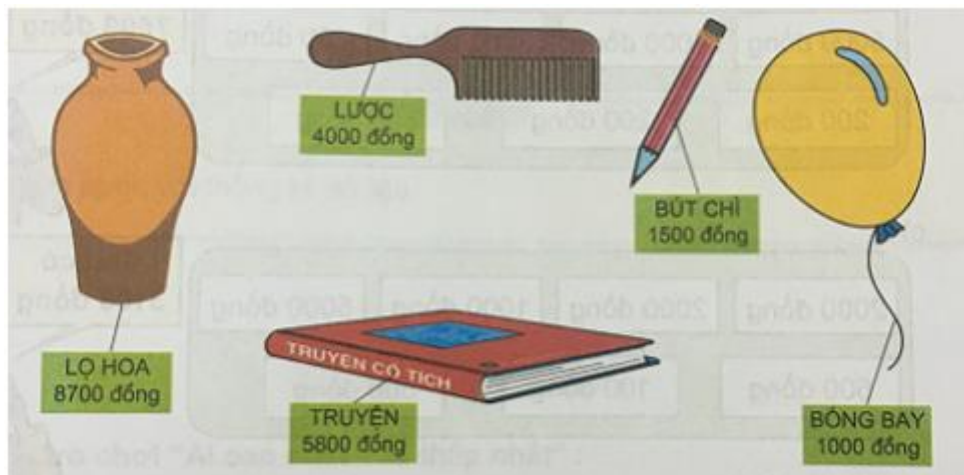
- a. Hai tờ 5000 đồng
- b. Năm tờ 2000 đồng.
- d. Mười tờ 1000 đồng

Hoạt động thực hành Tiên Việt Nam

Dưới đây sẽ hướng dẫn trả lời các câu hỏi trong bài học mời các em cùng tham khảo

Câu 1 Trang 49 Toán VNEN 3 tập 2

Quan sát tranh rồi thực hiện lần lượt các hoạt động:



a. Đọc cho nhau nghe giá tiền của mỗi vật trong tranh:

b. Trả lời câu hỏi:

Trong các đồ vật trên, đồ vật nào có giá tiền ít nhất? Đồ vật nào có giá tiền nhiều nhất?

Mua một cái lược và một cái bút chì thì hết bao nhiêu tiền?

Giá tiền một lọ hoa nhiều hơn giá tiền một quyển truyện là bao nhiêu?

Trả lời:

Trả lời câu hỏi:


Trong các đồ vật trên, chiếc bút chì có giá tiền ít nhất (1500 đồng). Lọ hoa có giá tiền nhiều nhất (8700 đồng)

Mua một cái lược và một cái bút chì thì hết 5500 đồng.

Giá tiền một lọ hoa nhiều hơn giá tiền một quyển truyện là 2900 đồng.

Câu 2 Trang 49 Toán VNEN lớp 3 tập 2

Trong mỗi chú lợn có những tờ giấy bạc có ghi rõ số tiền. Mỗi chú lợn có bao nhiêu tiền?



Trả lời:

Con lợn A có:

Một tờ 5000 đồng

Một tờ 1000 đồng

Một tờ 200 đồng

⇒ Vậy con lợn A có số tiền là: $5000 + 1000 + 200 = 6200$ (đồng)

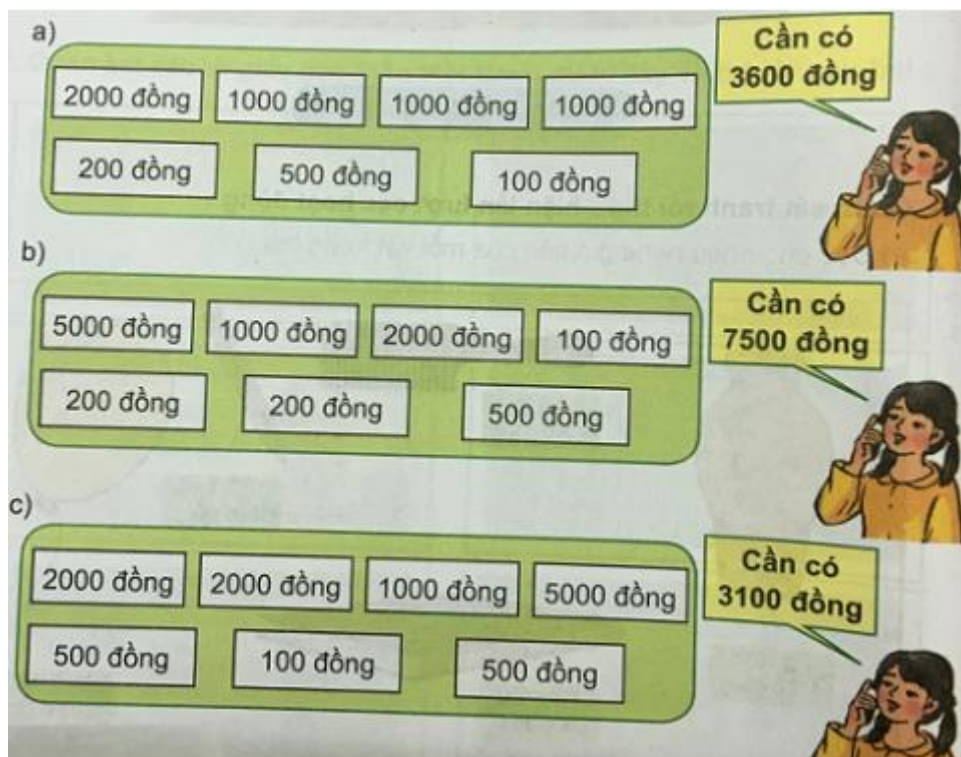
Con lợn B có:

Bốn tờ 1000 đồng

⇒ Vậy con lợn B có số tiền là: $1000 \times 4 = 4000$ (đồng)

Câu 3 Trang 50 Toán 3 VNEN tập 2

Phải lấy các tờ giấy bạc nào để có số tiền cần thiết?



Trả lời:

a. Cần có 3600 đồng ta rút:

Một tờ 2000 đồng

Một tờ 1000 đồng

Một tờ 500 đồng

Một tờ 100 đồng

b. Cần có 7500 đồng ta rút:

Một tờ 5000 đồng

Một tờ 2000 đồng

Một tờ 500 đồng

c. Cần có 3100 đồng ta rút:

Một tờ 2000 đồng

Một tờ 1000 đồng

Một tờ 100 đồng

Câu 4 Trang 50 Toán lớp 3 VNEN tập 2

Mẹ mua đậu hết 6500 đồng, mua rau hết 2500 đồng. Mẹ đưa có bán hàng 10000 đồng. Hỏi cô gái bán hàng phải trả lại mẹ bao nhiêu tiền?

Trả lời:

Mẹ mua hết số tiền là:

$$6500 + 2500 = 9000 \text{ (đồng)}$$

Vậy số tiền cô bán hàng trả lại mẹ số tiền là:

$$10000 - 9000 = 1000 \text{ (đồng)}$$

Đáp số: 1000 đồng


Hoạt động ứng dụng Tiền Việt Nam

Cùng xem gợi ý đáp án

Câu 1 Trang 50 tập 2 Toán VNEN 3

a. Em muốn mua đồ dùng học tập với giá các đồ dùng ghi trong hình vẽ. Mẹ cho em hai tờ 5000 đồng thì sẽ đủ tiền mua ba thứ đồ dùng nào?

b. Nếu em muốn mua tất cả thì có được không? vì sao?



Trả lời:

a. Mẹ cho 2 tờ 5000 đồng thì em có tất cả số tiền là: $5000 \times 2 = 10\ 000$ đồng

Với 10 000 đồng em mua được ba đồ dùng là:

Hộp sáp màu: 5000 đồng

Một chiếc kéo: 3000 đồng

Một chiếc thước: 2000 đồng

b. Em không thể mua tất cả đồ trong hình vẽ được. Vì tất cả những đồ vật trong hình có giá lớn hơn 10 000 đồng.