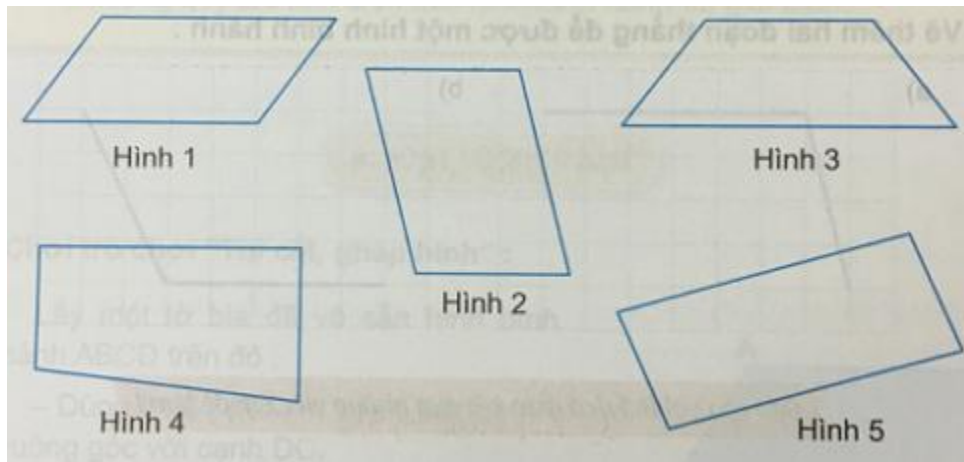


A. Hoạt động cơ bản bài 60 Toán lớp 4 VNEN**1. Chơi trò chơi "ghép hình" (sgk)****2. Quan sát hình vẽ và nghe thầy/ cô giáo hướng dẫn:**

Hình bình hành có hai cặp cạnh đối diện song song và bằng nhau.

3. Trong các hình sau, hình nào là hình bình hành

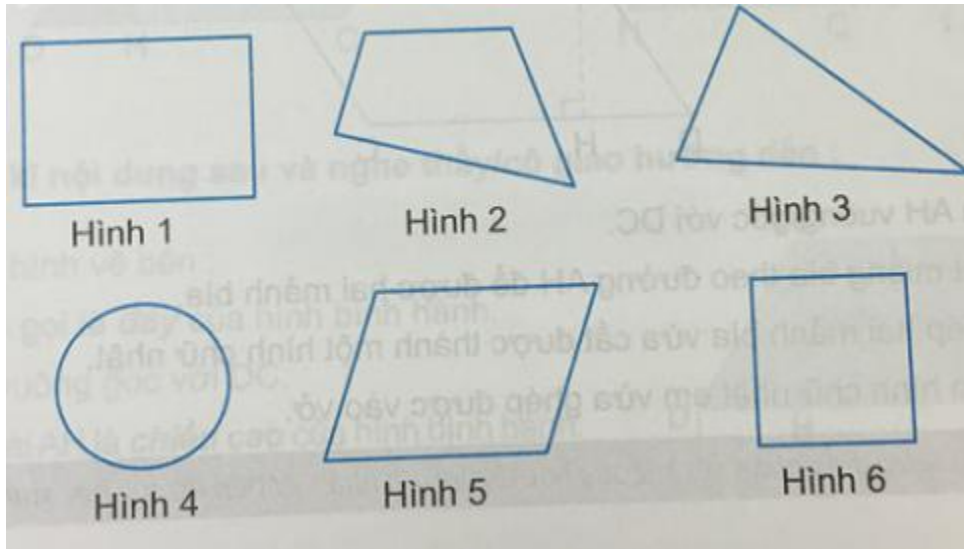
Trả lời:

Hình bình hành là:

- Hình 1
- Hình 2
- Hình 5

B. Hoạt động thực hành bài 60 Toán lớp 4 VNEN**Câu 1: Trang 7 sách VNEN toán 4**

Quan sát các hình dưới đây và nêu tên gọi của mỗi hình đó:



Đáp án

Tên gọi của mỗi hình trên là:

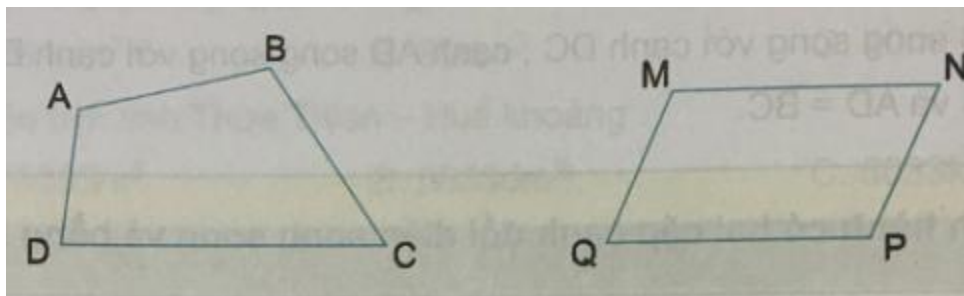
Hình 1: hình chữ nhật Hình 2: Hình tứ giác

Hình 3: hình tam giác Hình 4: Hình tròn

Hình 5: hình bình hành Hình 6: Hình vuông

Câu 2: Trang 8 sách VNEN toán 4

Cho biết trong tứ giác ABCD: AB và DC là hai cạnh đối diện, AD và BC là hai cạnh đối diện



Trong hai hình trên, hình nào có cặp cạnh song song và bằng nhau?

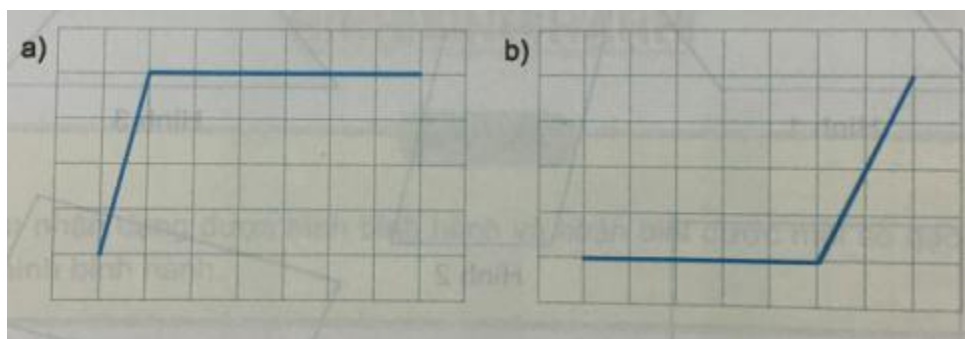
Đáp án

Trong hai hình trên, hình MNPQ là hình có cặp cạnh đối diện song song và bằng nhau. Đó là:

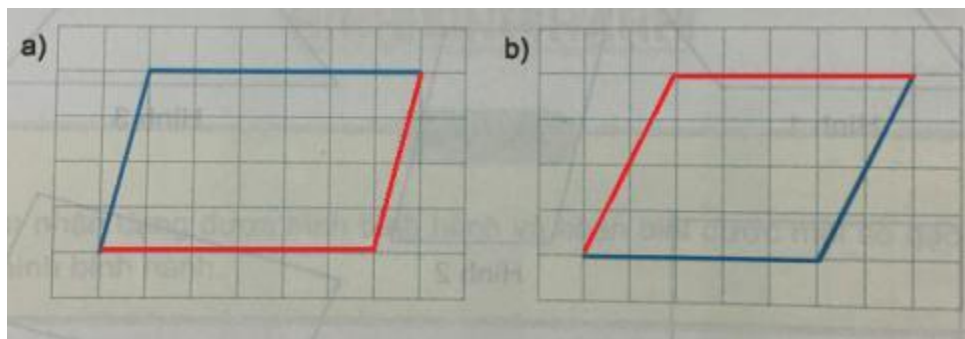
- MN và PQ
- MQ và NP

Câu 3: Trang 8 sách VNEN toán 4

Vẽ thêm hai đoạn thẳng để được một hình bình hành



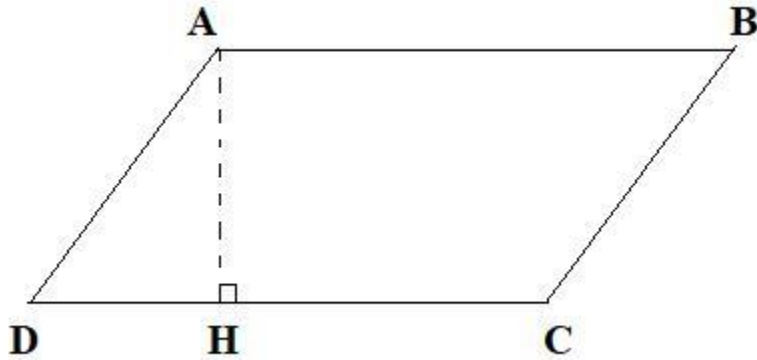
Đáp án



C. Hoạt động ứng dụng bài 60 Toán lớp 4 VNEN

Câu 1: Trang 8 sách VNEN toán 4

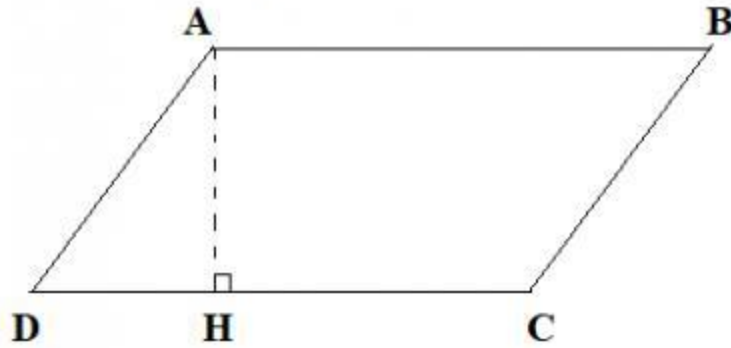
Lấy một miếng bìa có dạng hình bình hành như hình vẽ



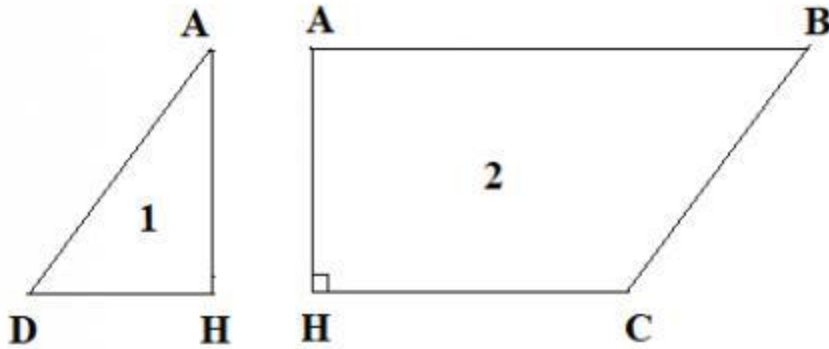
- Kẻ AH vuông góc với DC
- Cắt miếng bìa theo đường AH để được hai mảnh bìa
- Ghép hai mảnh bìa vừa cắt được thành một hình chữ nhật
- Dán hình chữ nhật em vừa ghép được vào vở.

Đáp án

a. Kẻ AH vuông góc với DC



b. Cắt miếng bìa theo đường AH để được hai mảnh bìa



c. Ghép hai mảnh bìa vừa cắt được thành một hình chữ nhật và dán vào vở.

