


Mời các em học sinh và quý thầy cô tham khảo hướng dẫn Giải Toán lớp 3 VNEN Bài 65: Làm quen với chữ số La Mã được đội ngũ chuyên gia biên soạn đầy đủ và ngắn gọn dưới đây. Hi vọng sẽ giúp các em học sinh nắm tốt kiến thức bài học, bổ sung cho mình các kỹ năng thực hành giải bài tập một cách chính xác nhất.

Hoạt động cơ bản Làm quen với chữ số La Mã

1. Chơi trò chơi "Cách viết số của người La Mã"

a. Quan sát hình vẽ đồng hồ dưới đây, các số ở mặt đồng hồ bên phải, em hãy phát hiện cách sử dụng các chữ số La Mã để viết số.



b. Nêu số cần viết vào ô trống:

I	III	V	VI	IX	X	XII

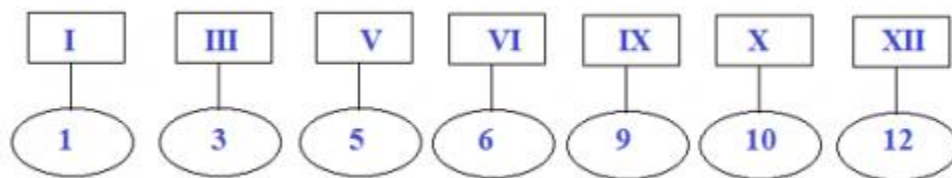
Trả lời:

a. Cách sử dụng số La Mã để viết số là:

Số La Mã I II III IV V VI VII VIII IX X XI XII

Số 1 2 3 4 5 6 7 8 9 10 11 12

b. Viết số vào ô trống:



2. Nghe thầy cô hướng dẫn (sgk)

3. Đọc các số viết bằng chữ La Mã dưới đây:

I, II, V, VI, VIII, X, IX, XII, XX, XXI

Trả lời:

I: Một II: Hai

IX: Chín XII: Mười hai

VI : Sáu VIII: Tám

XX: Hai mươi XXI: Hai mươi mốt


V: Mười

Hoạt động thực hành Làm quen với chữ số La Mã

Dưới đây sẽ hướng dẫn trả lời và giải đáp các câu hỏi trong bài học một cách chi tiết, dễ hiểu.

Câu 1 Trang 38 Toán VNEN 3 tập 2

Đồng hồ chỉ mấy giờ?



Trả lời:

Hình a: Kim ngắn chỉ số 4, kim dài chỉ số 12 → đồng hồ chỉ 4 giờ

Hình b: Kim ngắn chỉ giữa số 8 và số 9, kim dài chỉ số 3 → đồng hồ chỉ 8 giờ 15 phút

Hình c: Kim ngắn chỉ giữa số 9 và số 10, kim dài chỉ số 6 → đồng hồ chỉ 9 giờ 30 phút

Câu 2 Trang 38 Toán VNEN lớp 3 tập 2

Hai bạn đổ nhau:

Một bạn nêu một số (chẳng hạn mười một), bạn kia phải viết số bằng chữ số La Mã?

Trả lời:

Ví dụ:

Bảy: VII

Tám: VIII

Mười hai: XII

Bốn: IV

Chín: IX

Năm: V

Câu 3 Trang 38 Toán 3 VNEN tập 2

Đúng ghi Đ, sai ghi S:

II: Hai III: Ba VII: Bảy VIII: Chín

IV: Bốn VI: Sáu VIII: Tám XII: Mười hai

Trả lời:

II: Hai Đ III: Bốn Đ VII: Bảy Đ VIII: Chín S
IV: Bốn Đ VI: Sáu Đ VIII: Tám Đ XII: Mười hai Đ

Câu 4 Trang 38 Toán lớp 3 VNEN tập 2

Dùng que tính xếp các số dưới đây bằng số La Mã: 8, 9, 19, 21

Trả lời:



Câu 5 Trang 38 tập 2 Toán VNEN 3

Có 3 que tính xếp thành số 6 như hình bên

Hãy nhấc một que tính và xếp lại để được số 4.



Trả lời:



Hoạt động ứng dụng Làm quen với chữ số La Mã

Cùng xem gợi ý đáp án

Câu 1 Trang 38 Toán VNEN 3 tập 2

Dùng que tính xếp số chỉ tuổi của em (bằng chữ số la mã)

Trả lời:

Em năm nay 8 tuổi và số tuổi đó được xếp như sau:

