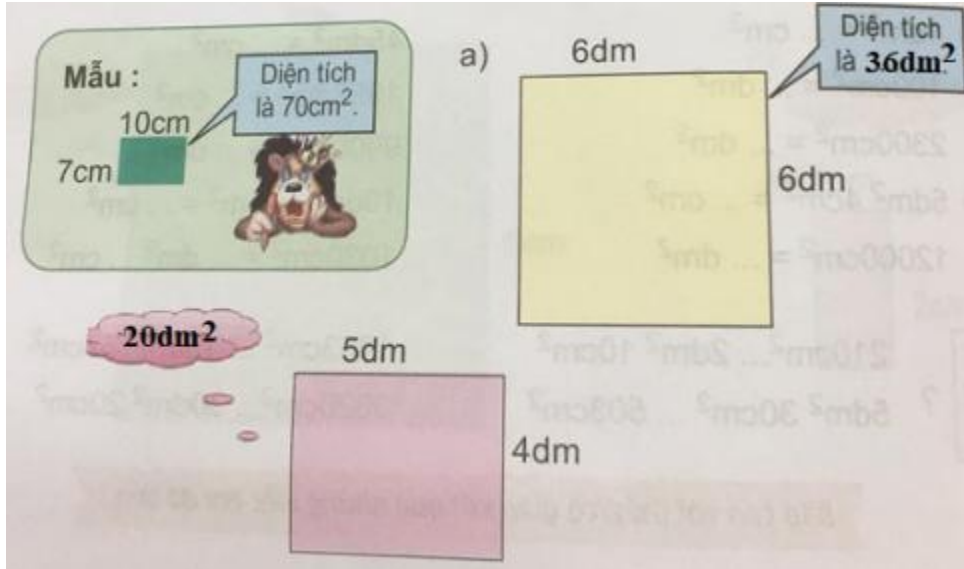


**A. Hoạt động cơ bản bài 36 Toán lớp 4 VNEN**

**1. Điền số thích hợp vào chỗ chấm:**

Trả lời:



**2. Quan sát hình trên và cho biết hình vuông  $1m^2$  gồm bao nhiêu hình vuông  $1dm^2$ ?**

Trả lời:

Quan sát hình trên ta thấy hình vuông  $1m^2$  gồm có tất cả 100 hình vuông  $1dm^2$

**B. Hoạt động thực hành bài 36 Toán lớp 4 VNEN**

**Câu 1 trang 89 sách VNEN toán 4**

Viết số thích hợp vào chỗ chấm:

$1m^2 = \dots\dots dm^2$

$4500dm^2 = \dots\dots m^2$

$100dm^2 = \dots m^2$

$$2300\text{m}^2 = \dots\text{dm}^2$$

$$1\text{m}^2 = \dots\text{cm}^2$$

$$12\text{m}^2 = \dots\text{cm}^2$$

$$10000\text{cm}^2 = \dots\text{m}^2$$

$$4030\text{cm}^2 = \dots\text{dm}^2 \dots\text{cm}^2$$

$$10\text{dm}^2 39\text{cm}^2 = \dots\text{cm}^2$$

$$5\text{m}^2 4\text{cm}^2 = \dots\text{cm}^2$$

**Đáp án và hướng dẫn giải**

$$1\text{m}^2 = 100 \text{ dm}^2$$

$$4500\text{dm}^2 = 45 \text{ m}^2$$

$$100\text{dm}^2 = 1 \text{ m}^2$$

$$2300\text{m}^2 = 23 \text{ dm}^2$$

$$1\text{m}^2 = 10000 \text{ cm}^2$$

$$12\text{m}^2 = 120000 \text{ cm}^2$$

$$10000\text{cm}^2 = 1 \text{ m}^2$$


$$4030\text{cm}^2 = 40\text{dm}^2 30\text{cm}^2$$

$$10\text{dm}^2 39\text{cm}^2 = 1039 \text{ cm}^2$$

$$5\text{m}^2 4\text{cm}^2 = 50004 \text{ cm}^2$$

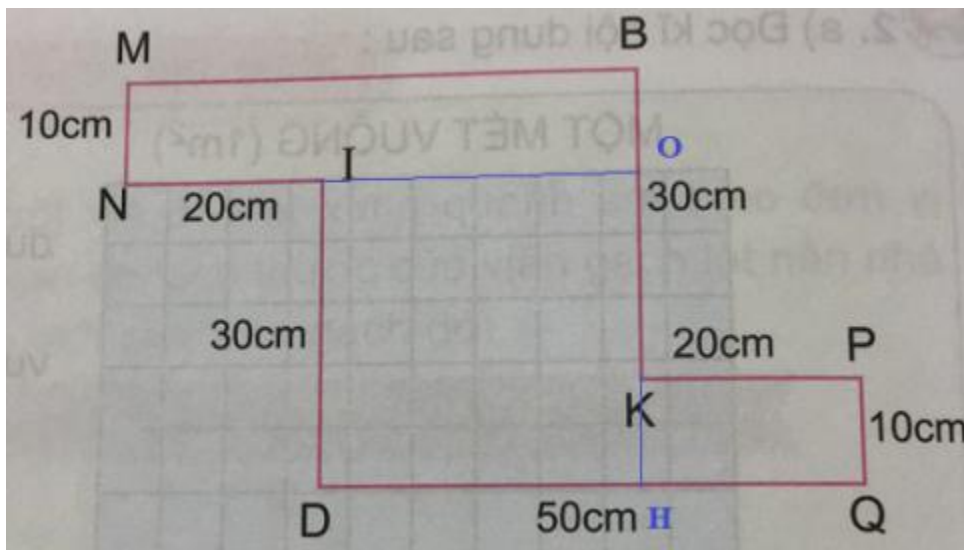
**Câu 2 trang 90 sách VNEN toán 4**

Tính diện tích của miếng bìa có các kích thước như hình vẽ



**Đáp án và hướng dẫn giải**

Ta vẽ hai đường thẳng như hình sau:



Bài giải:

Diện tích hình chữ nhật KPQH là:  $20 \times 10 = 200 \text{ (cm}^2\text{)}$

Diện tích hình vuông IOHD là:  $30 \times 30 = 900 \text{ (cm}^2\text{)}$

Diện tích chữ nhật MBON là:  $10 \times 50 = 500 \text{ (cm}^2\text{)}$

Diện tích của miếng bìa là:

$$200 + 900 + 500 = 1600 \text{ (cm}^2\text{)}$$

Đáp số: 1600 cm<sup>2</sup>

### **Câu 3 trang 90 sách VNEN toán 4**

Giải bài toán: Để lát một căn phòng, người ta dùng hết 200 viên gạch hình vuông có cạnh dài 40cm. Hỏi căn phòng đó có diện tích bao nhiêu mét vuông, biết diện tích phần mạch vữa không đáng kể?

Đáp án và hướng dẫn giải

Diện tích của viên gạch vuông là:

$$40 \times 40 = 1600 \text{ (cm}^2\text{)}$$

Diện tích căn phòng là:

$$200 \times 1600 = 320000 \text{ (cm}^2\text{)} = 32 \text{ m}^2$$

Đáp số: 32 m<sup>2</sup>

### **C. Hoạt động ứng dụng bài 36 Toán lớp 4 VNEN**

#### **Câu 1 trang 90 sách VNEN toán 4**

a. Hỏi người lớn để biết: Diện tích nhà em khoảng bao nhiêu mét vuông?

b. Hỏi thầy cô giáo để biết: Diện tích lớp học của em khoảng bao nhiêu mét vuông?

Đáp án và hướng dẫn giải

Ví dụ mẫu:

a. Nhà em có chiều rộng 4 mét, chiều dài 15 mét

Vậy diện tích của nhà em là:  $4 \times 15 = 60 \text{ (m}^2\text{)}$

b. Lớp học em có chiều rộng 3 mét, chiều dài 5 mét.

Vậy diện tích của nhà em là:  $3 \times 5 = 15 \text{ (m}^2\text{)}$