


Hướng dẫn giải bài tập Toán lớp 3 VNEN Bài 47: Hình chữ nhật, hình vuông chi tiết, dễ hiểu được biên soạn bởi đội ngũ chuyên gia giàu kinh nghiệm chia sẻ. Hy vọng đây sẽ là tài liệu hữu ích hỗ trợ học sinh trong quá trình học tập. Mời các em tham khảo tại đây.

Hoạt động cơ bản Hình chữ nhật, hình vuông

Dưới đây sẽ hướng dẫn trả lời các câu hỏi trong bài học mời các em cùng tham khảo

Câu 1. Chơi trò chơi "ai nhanh, ai đúng"

Đếm xem có bao nhiêu hình vuông, bao nhiêu hình chữ nhật




Trả lời:

Trong hình trên có:

2 hình vuông

4 hình chữ nhật

Câu 2. Cho hình chữ nhật ABCD



- a. Dùng Ê ke kiểm tra các góc của hình trên rồi đánh dấu x vào bảng sau
- b. Đo độ dài của các cạnh của hình chữ nhật ABCD rồi ghi kết quả vào chỗ chấm

Trả lời:

- a. Kiểm tra các góc hình chữ nhật

	Vuông	Không vuông
Góc đỉnh A	X	
Góc đỉnh B	X	
Góc đỉnh C	X	
Góc đỉnh D	X	

- b. Độ dài các cạnh hình chữ nhật ABCD:

$AB = 4 \text{ cm} \quad AD = 3 \text{ cm}$


$CD = 4 \text{ cm} \quad BC = 3 \text{ cm}$

Như vậy:

Các góc của hình chữ nhật đều là góc vuông

Hình chữ nhật có hai cạnh dài bằng nhau và hai cạnh ngắn bằng nhau

Câu 3. Cho hình vuông ABCD



- a. Dùng Ê ke kiểm tra 4 góc của hình trên rồi đánh dấu x vào bảng sau
- b. Đo độ dài của các cạnh của hình vuông ABCD rồi ghi kết quả vào chỗ chấm

Trả lời:

- a. Kiểm tra các góc hình vuông

	Vuông	Không vuông
Góc đỉnh A	X	
Góc đỉnh B	X	
Góc đỉnh C	X	
Góc đỉnh D	X	

- b. Độ dài các cạnh hình chữ nhật ABCD:

$$AB = 3 \text{ cm} \quad AD = 3 \text{ cm}$$

$$CD = 3 \text{ cm} \quad BC = 3 \text{ cm}$$

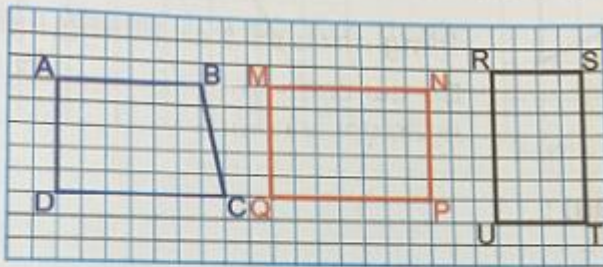
Như vậy:

Các góc của hình vuông đều là góc vuông

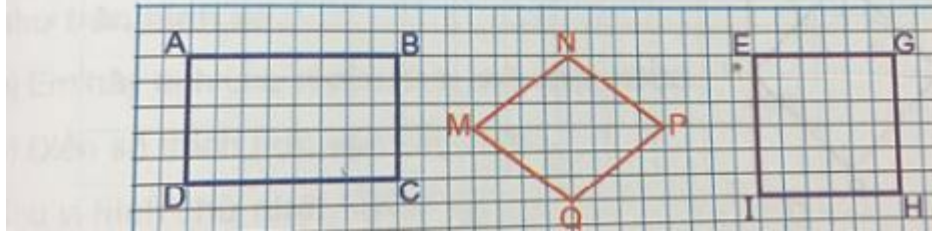
Hình vuông có độ dài bốn cạnh bằng nhau

Câu 4. Trong các hình dưới đây, hình nào là hình chữ nhật, hình nào là hình vuông

a) Trong các hình dưới đây, hình nào là hình chữ nhật ?



b) Trong các hình dưới đây, hình nào là hình vuông ?



Trả lời:

a. Trong các hình trên, hình MNPQ là hình chữ nhật

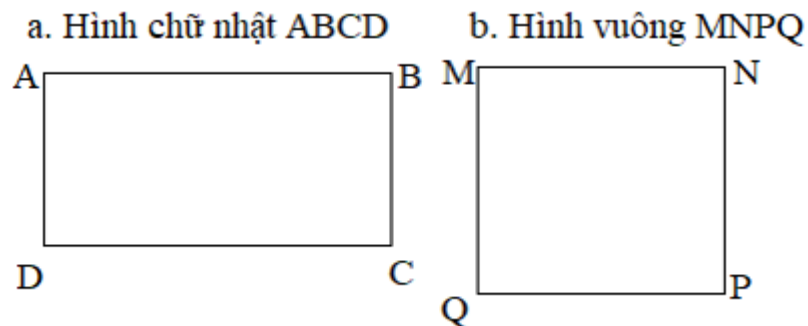
b. Trong các hình trên, hình EFGH là hình vuông

Hoạt động thực hành Hình chữ nhật, hình vuông

Cùng xem gợi ý đáp án

Câu 1 Trang 106 Toán VNEN 3 tập 1

Đo rồi cho biết độ dài các cạnh của mỗi hình sau:



Trả lời:

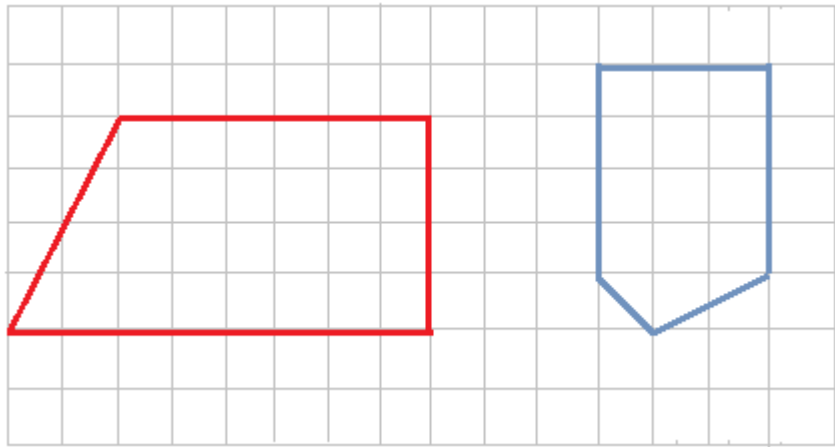
Đo độ dài trên ta thấy:

Hình a: cạnh $AB = DC = 4$ cm, cạnh $AD = BC = 2$ cm

Hình 2: cạnh $MN = NP = PQ = QM = 3$ cm

Câu 2 Trang 106 Toán VNEN lớp 3 tập 1

a. Kẻ thêm một đoạn thẳng để được hình chữ nhật

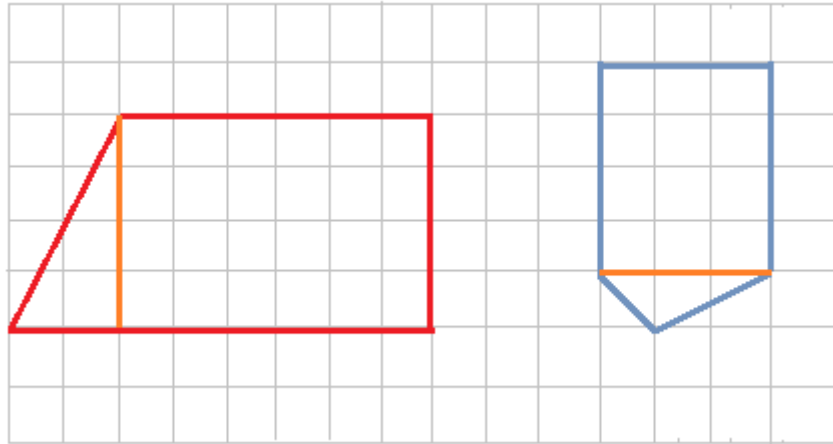


b. Kẻ thêm một đoạn thẳng để được hình vuông

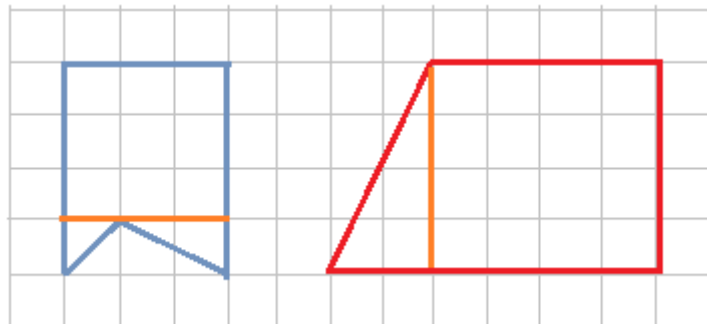


Trả lời:

a. Kẻ đường thẳng để được hình chữ nhật

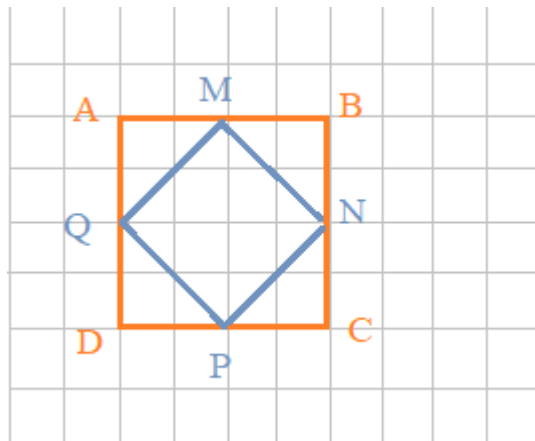


b. Kẻ đường thẳng để được hình vuông

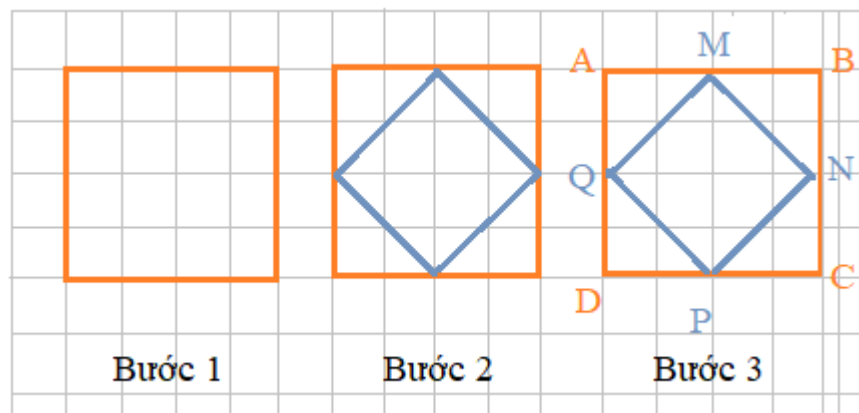


Câu 3 Trang 107 Toán 3 VNEN tập 1

Vẽ hình (theo mẫu):



Trả lời:



Hoạt động ứng dụng Hình chữ nhật, hình vuông

Cùng xem gợi ý đáp án

Câu 1 Trang 107 Toán lớp 3 VNEN tập 1

Quan sát các đồ vật trong nhà của em và kể tên các đồ vật có dạng hình vuông, các đồ vật có dạng hình chữ nhật

Trả lời:

Các đồ vật có dạng hình vuông là: Viên gạch lát nền, mặt đồng hồ treo tường, mặt hộp giấy,...

Các đồ vật có dạng hình chữ nhật là: Mặt tivi, mặt loa thùng, tranh treo tường, bàn ghế,....