

Hướng dẫn giải bài tập Toán lớp 3 VNEN Bài 27: Bài toán giải bằng hai phép tính chi tiết, dễ hiểu được biên soạn bởi đội ngũ chuyên gia giàu kinh nghiệm chia sẻ. Hy vọng đây sẽ là tài liệu hữu ích hỗ trợ học sinh trong quá trình học tập. Mời các em tham khảo tại đây.

Hoạt động cơ bản

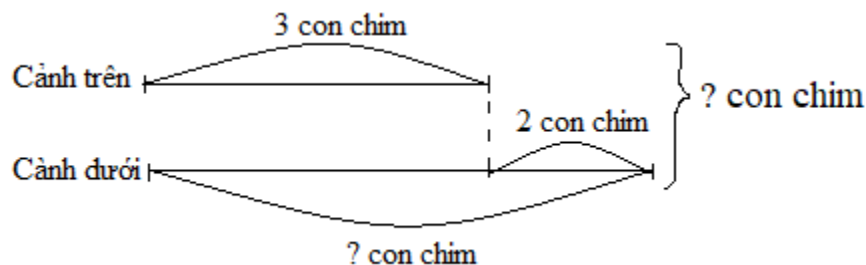
1. Giải bài toán 1

Đọc bài toán 1: Trên cành có 3 con chim, cành dưới có nhiều hơn cành trên hai con chim. Hỏi:

- a. Cành dưới có mấy con chim?
- b. Cả hai cành có mấy con chim?

Viết số thích hợp vào chỗ chấm:

Tóm tắt:



Trả lời:

- a. Số chim ở cành dưới là:

$3 + 2 = 5$ (con chim)

- b. Số chim ở cả hai cành là:

$3 + 5 = 8$ (con chim)

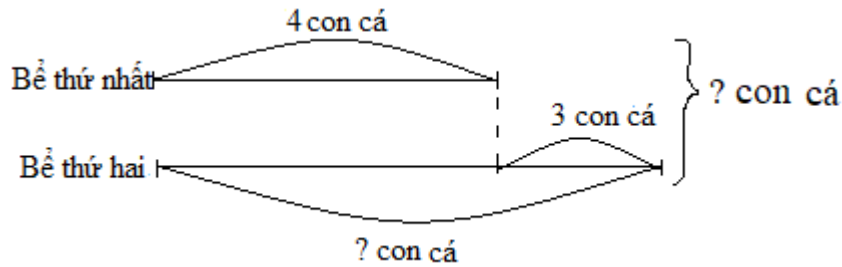
Đáp số: a. 5 con chim

b. 8 con chim

2. Giải bài toán 2

Bể thứ nhất có 4 con cá. Bể thứ hai có nhiều hơn bể thứ nhất 3 con cá. Hỏi cả hai bể có bao nhiêu con cá?

Tóm tắt:



Trả lời:

Số cá ở bể thứ hai là: $4 + 3 = 7$ (con cá)

Số cá ở hai bể là: $4 + 7 = 11$ (con cá)

Đáp số: 11 con cá

Hoạt động thực hành

Dưới đây sẽ hướng dẫn trả lời và giải đáp các câu hỏi trong bài học một cách chi tiết, dễ hiểu.

Câu 1 Trang 60 Toán VNEN 3 tập 1

Giải các bài toán:

- a. Một cửa hàng ngày thứ bảy bán được 9 quạt máy, ngày chủ nhật bán được nhiều hơn ngày thứ bảy 3 quạt máy. Hỏi cả hai ngày cửa hàng đó bán được bao nhiêu quạt máy?
- b. Bao gạo thứ nhất cân nặng 25kg, bao gạo thứ hai nhẹ hơn bao gạo thứ nhất 10kg. Hỏi cả hai bao gạo cân nặng bao nhiêu kg?

Trả lời:

a. Ngày chủ nhật cửa hàng đó bán được số quạt là:

$$9 + 3 = 12 \text{ (cái quạt)}$$

Cả hai ngày cửa hàng đó bán được số quạt là:

$$12 + 9 = 21 \text{ (cái quạt)}$$

Đáp số: 21 cái quạt

b. Bao gạo thứ hai cân nặng số kg là:

$$25 - 10 = 15 \text{ (kg)}$$

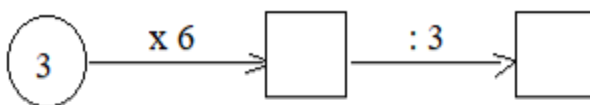
Cả hai bao gạo cân nặng số kg là:

$$25 + 15 = 40 \text{ (kg)}$$

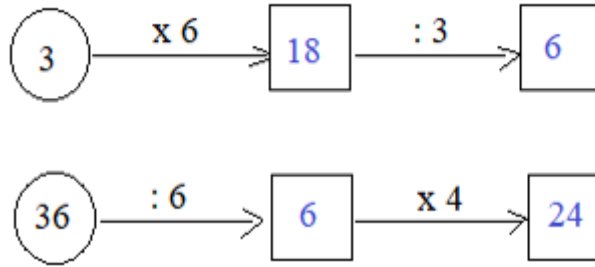
Đáp số: 40 kg

Câu 2 Trang 60 Toán VNEN lớp 3 tập 1

Viết số thích hợp vào ô trống:



Trả lời:



Câu 3 Trang 61 Toán 3 VNEN tập 1

Viết số thích hợp vào chỗ chấm:

1m 5dm = dm

2m 34cm = cm

6dm 2cm = cm

3m 5cm = cm

Trả lời:

1m 5dm = 15 dm

2m 34cm = 234 cm

6dm 2cm = 62 cm

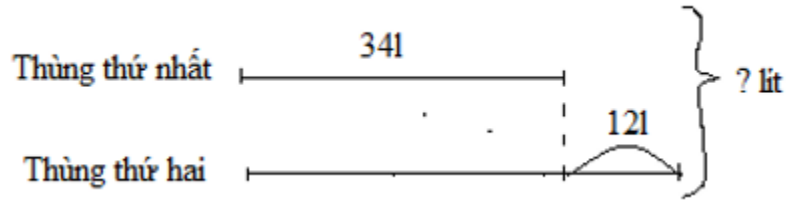
3m 5cm = 305 cm

Hoạt động ứng dụng

Cùng xem gợi ý đáp án

Câu 1 Trang 61 Toán lớp 3 VNEN tập 1

Nêu bài toán theo tóm tắt rồi giải bài toán đó:



Trả lời:

Nêu bài toán:

Có hai thùng đựng nước, thùng thứ nhất đựng 34l nước. Thùng thứ hai đựng nhiều hơn thùng thứ nhất 12l nước. Hỏi cả hai thùng đựng bao nhiêu lít nước?

Bài giải:

Thùng thứ hai đựng được số lít nước là:

$$34 + 12 = 46 \text{ (lít)}$$

Cả hai thùng đựng được số lít nước là:

$$34 + 46 = 80 \text{ (lít)}$$

Đáp số: 80 lít