

Nội dung hướng dẫn giải Bài 23: Góc vuông, góc không vuông được chúng tôi biên soạn bám sát bộ sách giáo khoa Toán lớp 3 chương trình mới (VNEN). Là tài liệu tham khảo hữu ích giúp các em học tốt môn Toán lớp 3.

Hoạt động cơ bản

2. Quan sát hình vẽ và nghe thầy/ cô giáo hướng dẫn rồi đọc kĩ nội dung sau: (sgk)

3. Quan sát mẫu rồi thảo luận cách dùng eke để vẽ góc vuông

a. Đỉnh O, cạnh OA, OB

b. Đỉnh M, cạnh MQ, MP

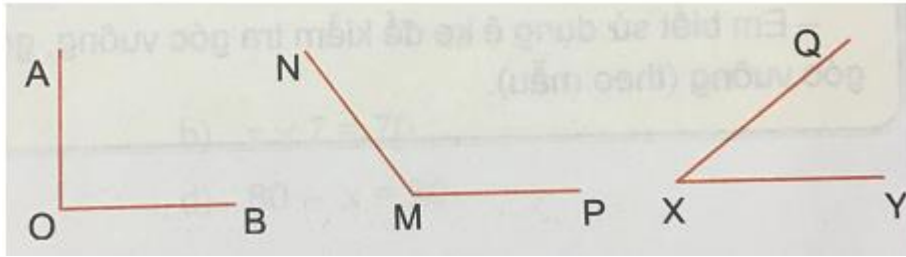


Trả lời:



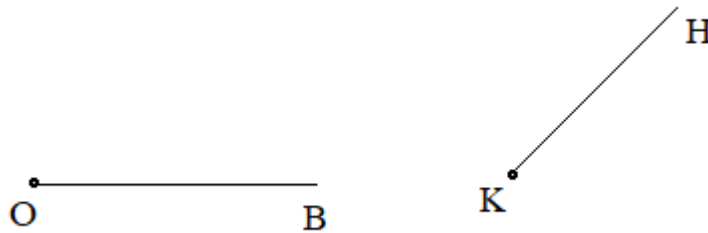
4.

a. Quan sát hình vẽ bên rồi chỉ cho các bạn góc vuông, góc không vuông:




b. Nêu tên đỉnh và các cạnh của góc vuông trong hình vẽ trên

c. Dùng ê ke vẽ góc vuông biết đỉnh và một cạnh cho trước.



Trả lời:

a. Chỉ ra góc vuông và góc không vuông:



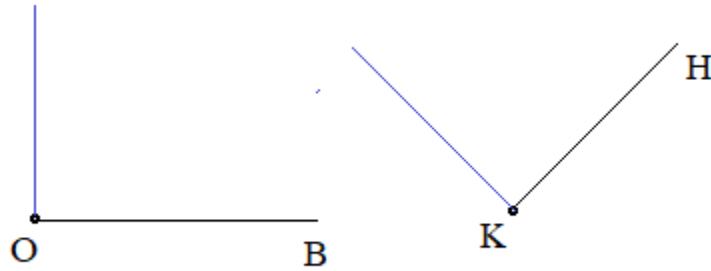
b. Tên đỉnh và các cạnh của góc vuông:

Hình 1: Đỉnh O, cạnh OA, OB

Hình 2: Đỉnh M, cạnh MN, MP

Hình 3: Đỉnh X, cạnh XQ, XY

c. Vẽ góc vuông từ đỉnh và cạnh cho trước

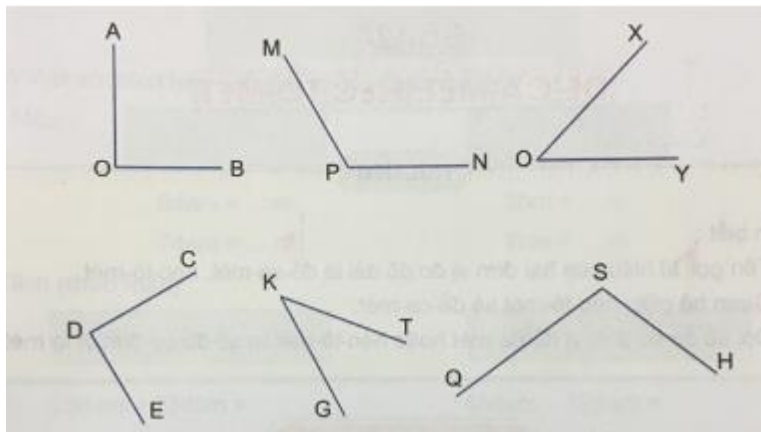


Hoạt động thực hành

Dưới đây sẽ hướng dẫn trả lời và giải đáp các câu hỏi trong bài học một cách chi tiết, dễ hiểu.

Câu 1 Trang 51 Toán VNEN 3 tập 1

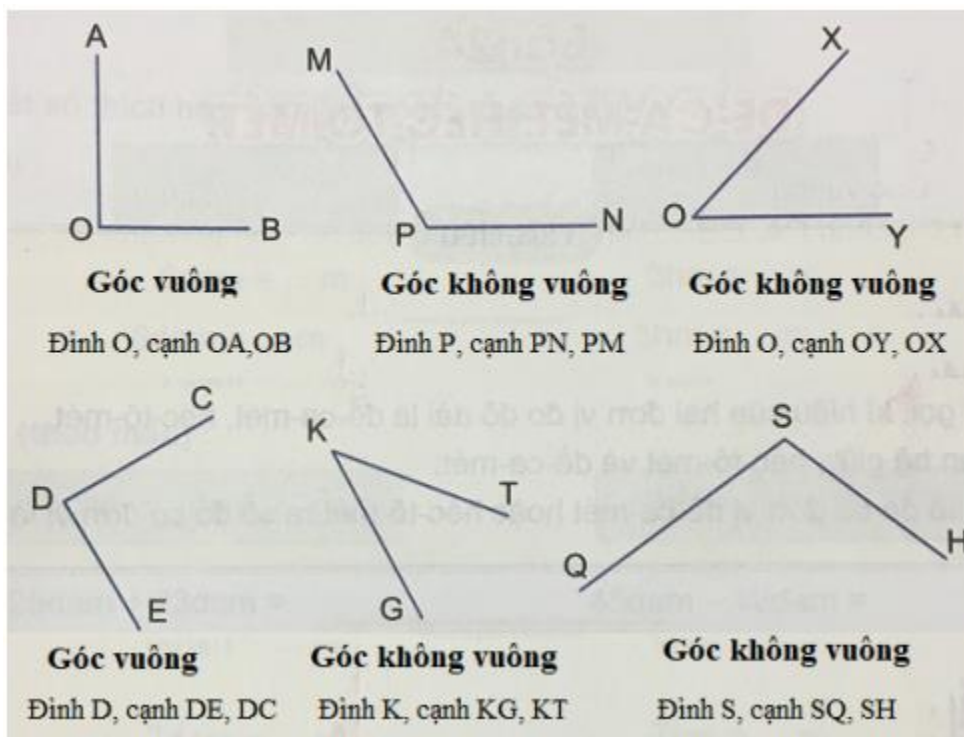
a. Dùng ê ke nhận biết góc vuông, góc không vuông trong hình vẽ dưới đây:



b. Nêu tên đỉnh và các cạnh của góc vuông trong hình vẽ trên

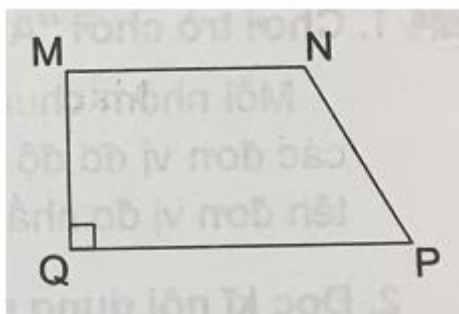
c. Nêu tên đỉnh và các cạnh của góc không vuông trong hình vẽ trên.

Trả lời:

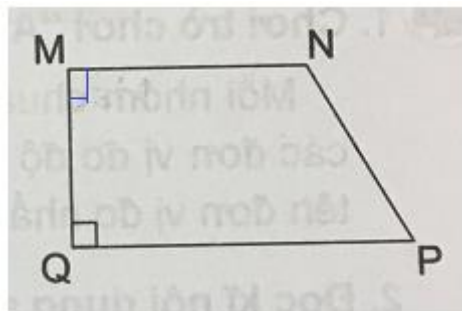


Câu 2 Trang 51 Toán VNEN lớp 3 tập 1

Trong tứ giác MNPQ, góc nào là góc vuông, góc nào là góc không vuông (đánh dấu góc vuông theo mẫu)



Trả lời:



Trong tứ giác MNPQ có:

Góc M và góc Q là góc vuông

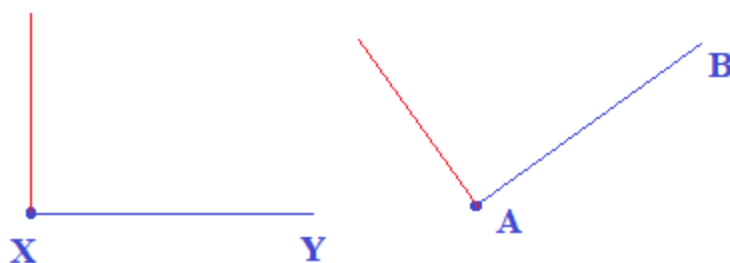
Góc N và góc P là góc không vuông

Câu 3 Trang 51 Toán 3 VNEN tập 1

Dùng Ê ke vẽ góc vuông biết đỉnh và một cạnh cho trước:



Trả lời:



Hoạt động ứng dụng

Cùng xem gợi ý đáp án

Câu 1 Trang 52 Toán lớp 3 VNEN tập 1

Em chỉ ra góc vuông trong các đồ dùng học toán hoặc đồ vật trong nhà

Trả lời:

Ví dụ: Một số đồ dùng học toán và đồ vật trong nhà có góc vuông là:

Đồ dùng học toán: Cạnh thước kẻ dài, quyển vở, quyển sách, cạnh thước ê ke...

Đồ vật trong nhà: cạnh mặt ti vi, cạnh mặt loa thùng, cạnh mặt bàn, cạnh mặt ghế, cạnh mặt đồng hồ treo tường...