


Hướng dẫn giải bài tập Toán lớp 3 VNEN Bài 19 Gấp một số lên nhiều lần chi tiết, dễ hiểu được biên soạn bởi đội ngũ chuyên gia giàu kinh nghiệm chia sẻ. Hy vọng đây sẽ là tài liệu hữu ích hỗ trợ học sinh trong quá trình học tập. Mời các em tham khảo tại đây.

**Hoạt động cơ bản Gấp một số lên nhiều lần**

1. Quan sát tranh, đọc kĩ nội dung sau: (Sgk)

2. Viết tiếp vào chỗ chấm:



Đoạn thẳng CD có độ dài bằng .... lần độ dài đoạn thẳng AB. Ta nói đoạn thẳng CD dài gấp .... lần đoạn thẳng AB.

**Trả lời:**

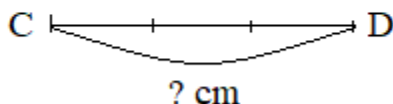
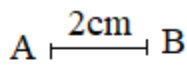
Đoạn thẳng CD có độ dài bằng 3 lần độ dài đoạn thẳng AB. Ta nói đoạn thẳng CD dài gấp 3 lần đoạn thẳng AB.

3.

a. Đọc bài toán và tóm tắt của bài toán

Bài toán: Đoạn đường AB dài 2cm, đoạn thẳng CD dài gấp 3 lần đoạn thẳng AB. Hỏi đoạn thẳng CD dài mấy xăng-ti-mét?

Tóm tắt:



b. Điền số thích hợp vào chỗ chấm trong bài giải:

**Bài giải:**

Độ dài đoạn thẳng AB là:

$$2 \times \dots = \dots \text{ (cm)}$$

Đáp số: .... cm

**Trả lời:**

Độ dài đoạn thẳng AB là:

$$2 \times 3 = 6 \text{ (cm)}$$

Đáp số: 6 cm

**4.** Em đọc kĩ nội dung sau:

Muốn gấp một số lên nhiều lần, ta lấy số đó nhân với số lần

**5.** Viết số thích hợp vào chỗ chấm:

a. Gấp 3 lên 4 lần, ta được:  $3 \times \dots = \dots$

b. Gấp 5 lên 6 lần, ta được:  $\dots \times \dots = \dots$

**Trả lời:**

a. Gấp 3 lên 4 lần, ta được:  $3 \times 4 = 12$

b. Gấp 5 lên 6 lần, ta được:  $5 \times 6 = 30$

***Hoạt động thực hành Gấp một số lên nhiều lần***

Dưới đây sẽ hướng dẫn trả lời và giải đáp các câu hỏi trong bài học một cách chi tiết, dễ hiểu.

**Câu 1 Trang 42 Toán VNEN 3 tập 1**

Viết số thích hợp vào ô trống (theo mẫu):

<b>Số đã cho</b>	<b>2</b>	<b>3</b>	<b>7</b>	<b>5</b>	<b>4</b>
<b>Gấp 2 lần số đã cho</b>	<b>4</b>				
<b>Gấp 5 lần số đã cho</b>	<b>10</b>				

**Trả lời:**

<b>Số đã cho</b>	<b>2</b>	<b>3</b>	<b>7</b>	<b>5</b>	<b>4</b>
<b>Gấp 2 lần số đã cho</b>	<b>4</b>	<b>6</b>	<b>14</b>	<b>10</b>	<b>8</b>
<b>Gấp 5 lần số đã cho</b>	<b>10</b>	<b>15</b>	<b>35</b>	<b>25</b>	<b>20</b>

**Câu 2 Trang 42 Toán VNEN lớp 3 tập 1**

Giải các bài toán:

- a. Năm nay bé Hoa 5 tuổi, tuổi của mẹ gấp 6 lần tuổi của bé Hoa. Hỏi năm nay mẹ bao nhiêu tuổi?
- b. Con thỏ cân nặng 2kg, con chó cân nặng gấp 7 lần con thỏ. Hỏi con chó cân nặng bao nhiêu kg?

**Trả lời:**

- a. Năm nay mẹ của Hoa có số tuổi là:

$$5 \times 6 = 30 \text{ (tuổi)}$$

Đáp số: 30 tuổi

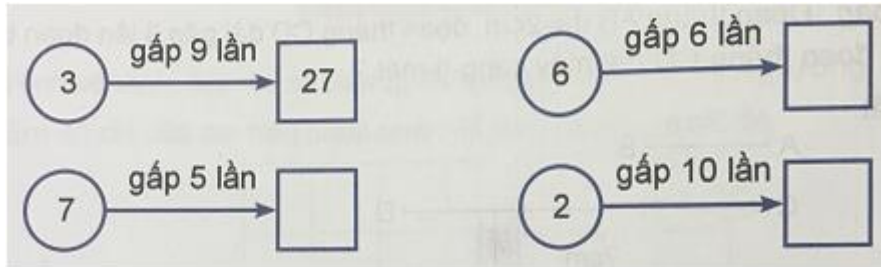
- b. Con chó cân nặng số kg là:

$2 \times 7 = 14$  (kg)

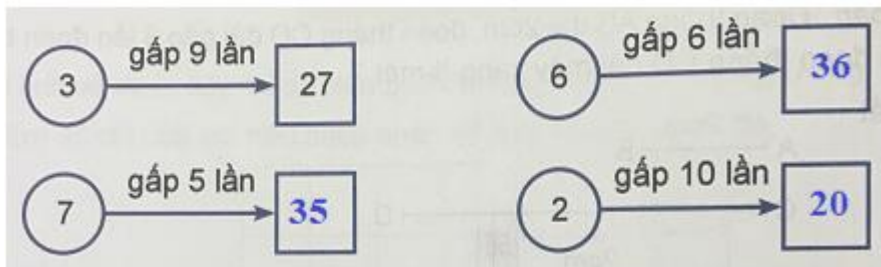
Đáp số: 14 kg

**Câu 3 Trang 42 Toán 3 VNEN tập 1**

Viết (theo mẫu):



Trả lời:



**Câu 4 Trang 42 Toán lớp 3 VNEN tập 1**

13	15	32	46
x	x	x	x
6	7	5	4
_____	_____	_____	_____

Trả lời:

13	15	32	46
x	x	x	x
6	7	5	4
78	105	160	184

**Câu 5 Trang 42 tập 1 Toán VNEN 3**

Viết số thích hợp vào ô trống (theo mẫu):

Số đã cho	5	2	7	3	4
Gấp 4 lần số đã cho	20				
Nhiều hơn số đã cho 4 đơn vị	9				

Trả lời:

Số đã cho	5	2	7	3	4
Gấp 4 lần số đã cho	20	8	28	12	16
Nhiều hơn số đã cho 4 đơn vị	9	6	11	7	8

*Hoạt động ứng dụng Gấp một số lên nhiều lần*

Cùng xem gợi ý đáp án

**Câu 1 Trang 42 Toán VNEN 3 tập 1**

Em thực hiện các hoạt động sau:

- a. Vẽ đoạn thẳng AB dài 4cm
- b. Vẽ đoạn thẳng CD dài gấp đôi đoạn thẳng AB
- c. Vẽ đoạn thẳng PQ dài bằng một nửa đoạn thẳng AB

**Trả lời:**

- a. Vẽ đoạn thẳng AB dài 4cm
- b. Vẽ đoạn thẳng CD dài gấp đôi đoạn thẳng AB
- c. Vẽ đoạn thẳng PQ dài bằng một nửa đoạn thẳng AB

