

Nội dung hướng dẫn giải Bài 18: Bảng nhân 7 được chúng tôi biên soạn bám sát bộ sách giáo khoa Toán lớp 3 chương trình mới (VNEN). Là tài liệu tham khảo hữu ích giúp các em học tốt môn Toán lớp 3.

Hoạt động cơ bản Bảng nhân 7

1. Chơi trò chơi "Đố bạn": Ôn lại bảng nhân 5, nhân 6

Trả lời:

Bảng nhân 5	Bảng nhân 6
$5 \times 1 = 5$	$6 \times 1 = 6$
$5 \times 2 = 10$	$6 \times 2 = 12$
$5 \times 3 = 15$	$6 \times 3 = 18$
$5 \times 4 = 20$	$6 \times 4 = 24$
$5 \times 5 = 25$	$6 \times 5 = 30$
$5 \times 6 = 30$	$6 \times 6 = 36$
$5 \times 7 = 35$	$6 \times 7 = 42$
$5 \times 8 = 40$	$6 \times 8 = 48$
$5 \times 9 = 45$	$6 \times 9 = 54$
$5 \times 10 = 50$	$6 \times 10 = 60$

2.

a. Thực hiện lần lượt các hoạt động (sgk)

b. Em thực hiện tương tự như trên và viết các phép nhân vào vở:

$7 \times 4 = \dots \quad 7 \times 6 = \dots$

$7 \times 5 = \dots \quad 7 \times 7 = \dots$

$7 \times 8 = \dots \quad 7 \times 9 = \dots$

$7 \times 10 = \dots$

Trả lời:

$7 \times 4 = 28 \quad 7 \times 6 = 42$

$7 \times 5 = 35 \quad 7 \times 7 = 49$

$7 \times 8 = 56 \quad 7 \times 9 = 63$

$7 \times 10 = 70$

3.

a. Chơi trò chơi : "Đếm thêm 7": 7, 14, ... , ... , ... , ... , ... , ... , ... , 70.

b. Nêu tiếp các số thích hợp vào ô trống:

7 14 35 63

Trả lời:

a. Chơi trò chơi : "Đếm thêm 7": 7, 14, 21 , 28 , 35 , 42 , 49 , 56 , 63 , 70.

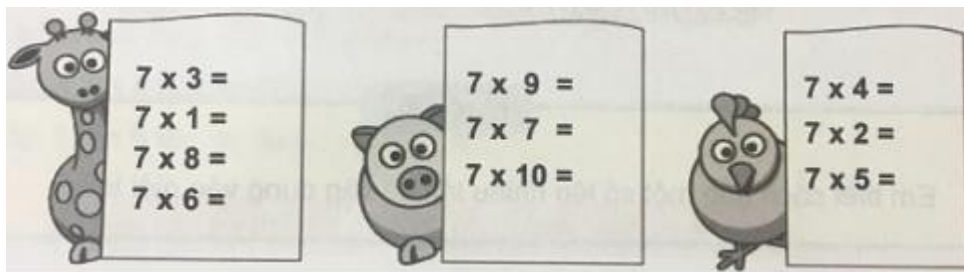
b. Điền số thích hợp vào ô trống:

7 14 21 28 35 42 49 56 63 70

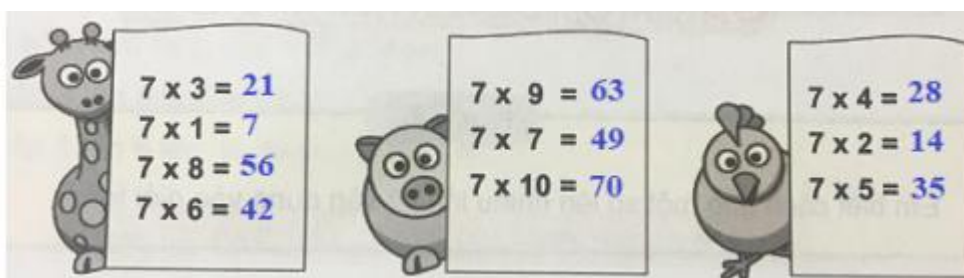
Hoạt động thực hành Bảng nhân 7

Dưới đây sẽ hướng dẫn trả lời và giải đáp các câu hỏi trong bài học một cách chi tiết, dễ hiểu.

Câu 1 Trang 39 Toán VNEN 3 tập 1



Trả lời:



Câu 2 Trang 40 Toán VNEN lớp 3 tập 1

Mỗi xe ô tô chở được 7 người. Hỏi 4 xe ô tô như thế chở được bao nhiêu người?

Trả lời:

Bốn xe ô tô chở được số người là:

$$7 \times 4 = 28 \text{ (người)}$$

Đáp số: 28 người

Câu 3 trang 40 Toán 3 VNEN tập 1

Tính nhẩm:

$$7 \times 4 = \quad 6 \times 7 =$$

$$4 \times 7 = \quad 7 \times 6 =$$

$$7 \times 2 = \quad 2 \times 7 =$$

Trả lời:

$$7 \times 4 = 28 \quad 6 \times 7 = 42$$

$$4 \times 7 = 28 \quad 7 \times 6 = 42$$

$$7 \times 2 = 14 \quad 2 \times 7 = 14$$

Câu 4 Trang 40 Toán lớp 3 VNEN tập 1

Tính:

a. $7 \times 6 + 28$

b. $7 \times 9 - 45$

c. $7 \times 5 + 19$

Trả lời:

a. $7 \times 6 + 28 = 42 + 28 = 70$

b. $7 \times 9 - 45 = 63 - 45 = 18$

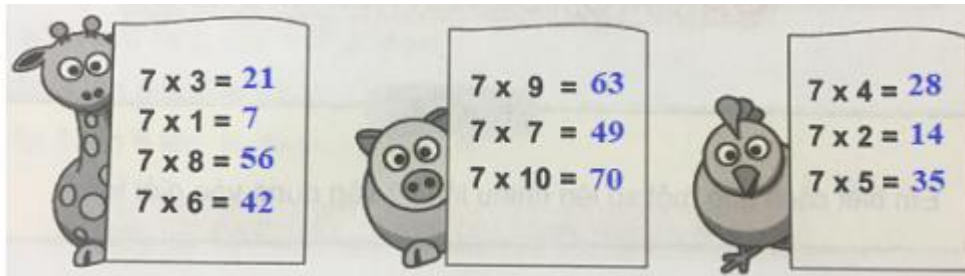
c. $7 \times 5 + 19 = 35 + 19 = 54$

Hoạt động ứng dụng Bảng nhân 7

Cùng xem gợi ý đáp án

Câu 1 Trang 40 Toán VNEN 3 tập 1

Hình vẽ dưới đây chỉ số viên gạch vuông để lát một mảng tường. Em đồ chị của em nêu phép nhân để tính số viên gạch đó.



Trả lời:

Cách tính viên gạch trên tường:

Cách 1: Có hai hàng ngang, mỗi hàng có 7 viên gạch \Rightarrow Có tất cả số viên gạch là: $2 \times 7 = 14$ (viên)

Cách 2: Có 7 hàng dọc, mỗi hàng có 2 viên gạch \Rightarrow Có tất cả số viên gạch là: $7 \times 2 = 14$ (viên)

Câu 2 Trang 40 Toán 3 VNEN tập 1

Em nói cho chị của em biết:

Một tuần lễ có mấy ngày?

5 tuần lễ có mấy ngày?

Trả lời:

Một tuần lễ có 7 ngày

5 tuần lễ có số ngày là: $5 \times 7 = 35$ (ngày)