

**Hoạt động cơ bản Biểu đồ tranh lớp 4**

Đọc kĩ và giải thích trong nhóm đoạn viết về biểu đồ tranh dưới đây và viết tiếp vào chỗ chấm cho thích hợp.

Trả lời:

Biểu đồ này có 2 cột:

- Cột bên trái ghi tên các gia đình
- Cột bên phải cho biết số con, số con trai, số con gái của mỗi gia đình.

Nhìn vào biểu đồ, ta biết:








Năm gia đình được ghi tên trên biểu đồ là:

Gia đình cô Diệp, gia đình cô Chi, gia đình cô Vân, gia đình cô Đào, gia đình cô Mận.

- Gia đình cô Diệp có 2 con
- Gia đình cô Chi có 1 con trai
- Gia đình cô Vân có 2 con
- Gia đình cô Đào có 1 con gái
- Gia đình cô Mận có 2 con

**B. Hoạt động thực hành Biểu đồ tranh Toán lớp 4****Câu 1: Trang 36 toán VNEN 4 tập 1**

Nhìn vào biểu đồ và trả lời các câu hỏi:

CÁC MÔN THỂ THAO KHỐI LỚP 4 THAM GIA				
LỚP 4A				
LỚP 4B				
LỚP 4C				

- Những lớp nào được nêu tên trong biểu đồ?
- Lớp 4A tham gia những môn thể thao nào?
- Có những lớp nào tham gia môn cầu lông?
- Các lớp khối 4 tham gia mấy môn thể thao, là những môn thể thao nào?
- Môn thể thao nào ít lớp tham gia nhất?

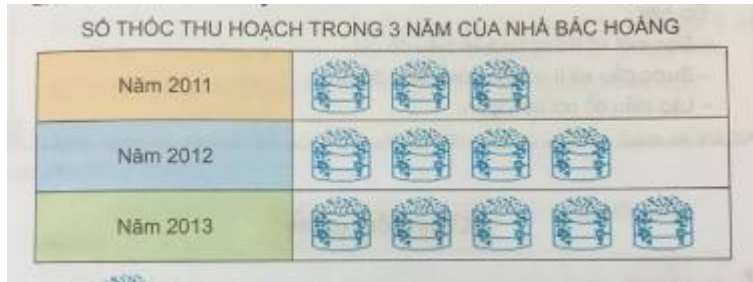
### Đáp án và hướng dẫn giải

Quan sát biểu đồ em thấy:

- Những lớp được nêu tên trong biểu đồ là: lớp 4A, lớp 4B và lớp 4C
- Lớp 4A tham gia những môn thể thao: bơi lội, nhảy dây và đánh cờ
- Có lớp 4B và lớp 4C tham gia môn cầu lông.
- Các lớp khối 4 tham gia 4 môn thể thao, đó là các môn: bơi lội, nhảy dây, đánh cờ và cầu lông.
- Môn thể thao ít lớp tham gia nhất đó là đánh cờ.

### Câu 2: Trang 37 toán VNEN 4 tập 1

Nhìn biểu đồ dưới đây và trả lời câu hỏi:



Mỗi túi thóc chỉ 10 tạ thóc

- Số thóc nhà bác Hoàng thu hoạch được trong năm 2013 là bao nhiêu tạ thóc?
- Năm nào nhà bác Hoàng thu hoạch được nhiều thóc nhất?
- Tính số thóc thu hoạch trong cả ba năm của nhà bác Hoàng

### Đáp án và hướng dẫn giải

Quan sát biểu đồ, em thấy:

- Số thóc nhà bác Hoàng thu hoạch được trong năm 2013 là  $5 \times 10 = 50$  (tạ thóc)
- Năm 2013 nhà bác Hoàng thu hoạch được nhiều thóc nhất.
- Số thóc thu hoạch trong cả ba năm của nhà bác Hoàng là:  $30 + 40 + 50 = 120$  (tạ thóc)




### Câu 3: trang 37 toán VNEN 4 tập 1

Mỗi nhóm thảo luận và lập biểu đồ tranh về chủ đề nào đó (chẳng hạn thu hoạch hoa quả, số người trong gia đình, số thuyền, số máy bay gấp được).

### Đáp án và hướng dẫn giải

Ví dụ mẫu: Số dâu tây thu hoạch được của các tổ

SỐ DÂY TÂY THU HOẠCH ĐƯỢC CỦA CÁC TỔ

TỔ 1	
TỔ 2	
TỔ 3	

**C. Hoạt động ứng dụng Biểu đồ tranh**





**Câu 1: Trang 37 toán VNEN 4 tập 1**

Em lập biểu đồ tranh về chủ đề nào đó (các con vật nuôi trong nhà, các đồ vật trong nhà hoặc thu hoạch trong gia đình....). Giải thích biểu đồ cho người lớn.

Ví dụ mẫu: Lập biểu đồ tranh về con vật trong gia đình.

**Đáp án và hướng dẫn giải**

## CÁC CON VẬT NUÔI TRONG GIA ĐÌNH

Gia đình bác Tám			
Gia đình chú Nam			
Gia đình cô Tâm			

Biểu đồ trên ta thấy:

Số con vật được nuôi trong các gia đình là 3 con, đó là: con mèo, con chó và con chim

Nhà bác Tám nuôi nhiều nhất

Nhà chú Nam nuôi ít nhất

Con vật được nuôi nhiều nhất trong các gia đình là con chó và con mèo.