

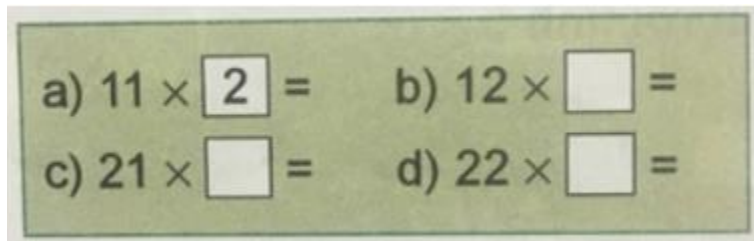
Nội dung hướng dẫn giải Bài 13: Nhân số có hai chữ số với số có một chữ số (có nhớ) được chúng tôi biên soạn bám sát bộ sách giáo khoa Toán lớp 3 chương trình mới (VNEN). Là tài liệu tham khảo hữu ích giúp các em học tốt môn Toán lớp 3.

Hoạt động cơ bản về Nhân số có hai chữ số với số có một chữ số (có nhớ)

1. Chơi trò chơi "Ai nhanh, ai đúng"

Quay kim trên vòng tròn số để nhận được một số, chẳng hạn số 2

Viết số nhận được vào ô trống:



Trả lời:

Ví dụ:

a. $11 \times 2 = 22$ b. $12 \times 3 = 36$

c. $21 \times 4 = 84$ d. $22 \times 3 = 66$

2.

a. Thảo luận cách đặt tính và cách tính (sgk)

b. Đặt tính rồi tính: 26×3 48×2

Trả lời:

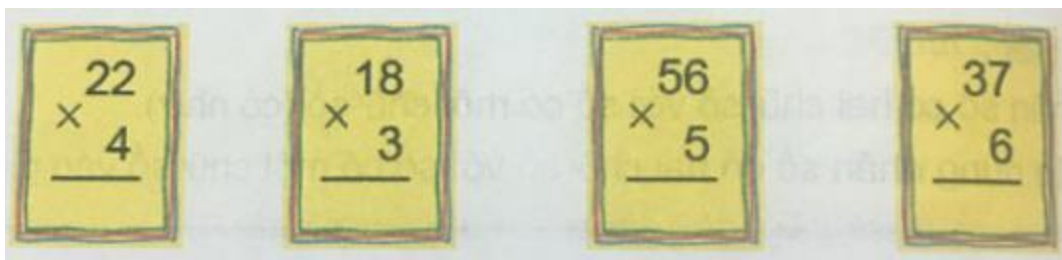
$$\begin{array}{r} 26 \\ \times 3 \\ \hline 78 \end{array} \quad \begin{array}{r} 48 \\ \times 2 \\ \hline 96 \end{array}$$

Hoạt động thực hành về Nhân số có hai chữ số với số có một chữ số (có nhớ)

Dưới đây sẽ hướng dẫn trả lời các câu hỏi trong bài học mời các em cùng tham khảo

Câu 1 Trang 28 Toán VNEN 3 tập 1

a. Tính:



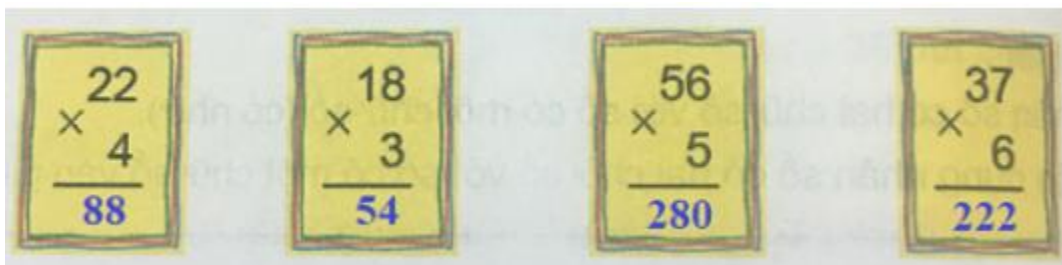
b. Đặt tính rồi tính:

49×2 64×3 45×5

83×4 27×6 32×4

Trả lời:

a.



b.

$$\begin{array}{r} 49 \\ \times 2 \\ \hline 98 \end{array} \quad \begin{array}{r} 64 \\ \times 3 \\ \hline 192 \end{array} \quad \begin{array}{r} 45 \\ \times 5 \\ \hline 225 \end{array} \quad \begin{array}{r} 83 \\ \times 4 \\ \hline 332 \end{array} \quad \begin{array}{r} 27 \\ \times 6 \\ \hline 162 \end{array} \quad \begin{array}{r} 32 \\ \times 4 \\ \hline 128 \end{array}$$

Câu 2 Trang 29 Toán VNEN lớp 3 tập 1

Một ngày có 24 giờ. Hỏi 3 ngày có tất cả bao nhiêu giờ?

Trả lời:

Ba ngày có tất cả số giờ là:

$$24 \times 3 = 72 \text{ (giờ)}$$

Đáp số: 72 giờ

Câu 3 Trang 29 Toán 3 VNEN tập 1

Tìm x:

a. $x : 4 = 16$

b. $x : 3 = 64$

Trả lời:

a. $x : 4 = 16$

$$x = 16 \times 4$$

$$x = 64$$

b. $x : 3 = 64$

$$x = 64 \times 3$$

$$x = 192$$


Câu 4 Trang 29 Toán lớp 3 VNEN tập 1

Quay kim đồng hồ để đồng hồ chỉ:

a. 3 giờ 10 phút b. 8 giờ 20 phút

c. 6 giờ 45 phút d. 10 giờ 35 phút

Trả lời:



Hoạt động ứng dụng về Nhân số có hai chữ số với số có một chữ số (có nhớ)

Cùng xem gợi ý đáp án

Câu 1 Trang 29 Toán VNEN 3 tập 1

Em hỏi người lớn trong gia đình và ghi vào vở số kg gạo gia đình ăn trong một tháng. Tính xem trong 3 tháng gia đình em ăn hết khoảng bao nhiêu kg gạo?

Trả lời:

Ví dụ mẫu:

Mỗi tháng, gia đình em 6 người (cả lớn và bé) ăn hết 18 kg gạo.

Vậy ba tháng gia đình em ăn hết số kg gạo là:

$$18 \times 3 = 54 \text{ (kg)}$$

Đáp số: 54 kg