

Mời các em học sinh và quý thầy cô tham khảo hướng dẫn Giải Toán lớp 3 VNEN Bài 9: Em ôn lại những gì đã học được đội ngũ chuyên gia biên soạn đầy đủ và ngắn gọn dưới đây. Hi vọng sẽ giúp các em học sinh nắm tốt kiến thức bài học, bổ sung cho mình các kỹ năng thực hành giải bài tập một cách chính xác nhất.

### ***Hoạt động thực hành***

Dưới đây sẽ hướng dẫn trả lời và giải đáp các câu hỏi trong bài học một cách chi tiết, dễ hiểu.

#### **Câu 1 Trang 20 Toán VNEN 3 tập 1**

Chơi trò chơi " Đọc giờ trên mặt đồng hồ"

Dùng mô hình đồng hồ, mỗi bạn trong nhóm quay kim đồng hồ để các kim chỉ vào một số nào đó trên mặt đồng hồ, đó bạn đó trong nhóm được đọc đúng giờ và phút trên mặt đồng hồ

**Trả lời:**

Ví dụ mẫu:



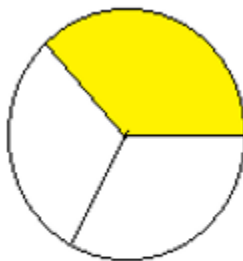
⇒ Đồng hồ chỉ 3 giờ 15 phút

Các em thay nhau quay và đọc bạn.

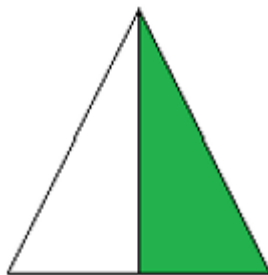
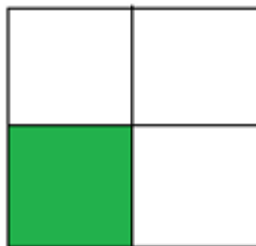
**Câu 2 Trang 20 Toán VNEN lớp 3 tập 1**

Quan sát các hình vẽ rồi trả lời:

a. Đã tô màu vào  $\frac{1}{3}$  hình nào?

**A****B**

b. Đã tô màu vào  $\frac{1}{2}$  hình nào?

**C****D**

**Trả lời:**

a. Đã tô màu vào  $\frac{1}{3}$  hình B.

b. Đã tô màu vào  $\frac{1}{2}$  hình C.

**Câu 3 tập 1 Trang 20 Toán VNEN 3**

Đặt tính rồi tính:

$$415 + 124 \quad 235 + 382$$

346 - 126    565 - 171

**Trả lời:**

415	346	235	565
+	-	+	-
124	126	382	171
<hr/>	<hr/>	<hr/>	<hr/>
539	220	617	394

**Câu 4 Toán 3 VNEN Trang 20 tập 1**

Tính:

$$3 \times 8 + 39 \quad 60 : 2 - 17$$

**Trả lời:**

Thực hiện phép tính:

$$3 \times 8 + 39 = 24 + 39 = 63$$

$$60 : 2 - 17 = 30 - 17 = 13$$

**Câu 5 Toán 3 tập 1 trang 21 VNEN**

a. Giải bài toán: Thùng thứ nhất có 150l dầu, thùng thứ hai có 175l dầu. Hỏi thùng thứ hai có nhiều hơn thùng thứ nhất bao nhiêu lít dầu?

b. Giải bài toán theo tóm tắt sau:

Có: 4 thuyền

Mỗi thuyền: 5 người

Tất cả: ? người

**Trả lời:**

a. Thùng thứ hai nhiều hơn thùng thứ nhất số lít dầu là:

$$175 - 150 = 25 \text{ (lít dầu)}$$

Đáp số: 25 lít dầu

b. Có tất cả số người là:

$$4 \times 5 = 20 \text{ (người)}$$

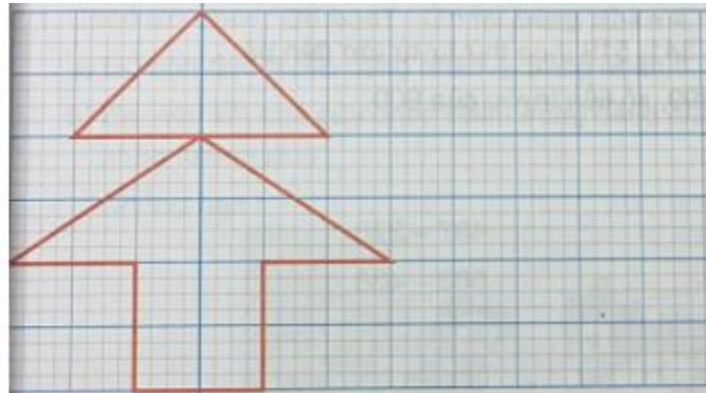
Đáp số: 20 người

### ***Hoạt động ứng dụng***

Cùng xem gợi ý đáp án

### **Câu 1 Trang 21 Toán VNEN 3 tập 1**

a. Em lấy giấy kẻ ô li, vẽ hình theo mẫu



b. Em tô màu đúng 1/2 hình vừa vẽ

**Trả lời:**

