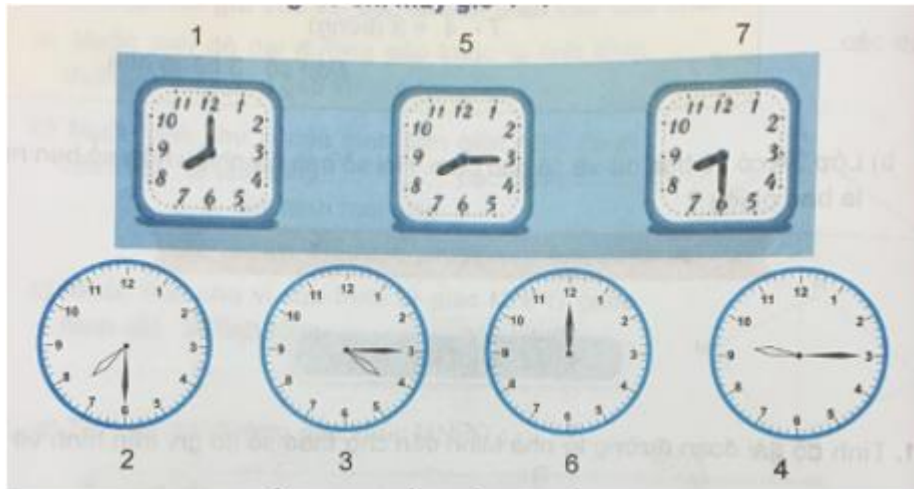


Mời các em học sinh và quý thầy cô tham khảo hướng dẫn Giải Toán lớp 3 VNEN Bài 8: Xem đồng hồ được đội ngũ chuyên gia biên soạn đầy đủ và ngắn gọn dưới đây. Hi vọng sẽ giúp các em học sinh nắm tốt kiến thức bài học, bổ sung cho mình các kỹ năng thực hành giải bài tập một cách chính xác nhất.

Hoạt động cơ bản về Xem đồng hồ

1. Chơi trò chơi "đồng hồ chỉ mấy giờ"



Trả lời:

Hình 1: 8 giờ

Hình 2: 7 giờ 30 phút

Hình 3: 4 giờ 15 phút

Hình 4: 9 giờ 15 phút


Hình 5: 8 giờ 15 phút

Hình 6: 12 giờ

Hình 7: 8 giờ 30 phút

2. Em nghe thầy/ cô giáo hướng dẫn đọc giờ trên mặt đồng hồ (SGK)

3. Em chỉ vào một mặt đồng hồ trong hình vẽ sau rồi đọc giờ và phút.



Trả lời:

Hình A: 4 giờ 5 phút

Hình B: 4 giờ 10 phút

Hình C: 4 giờ 25 phút

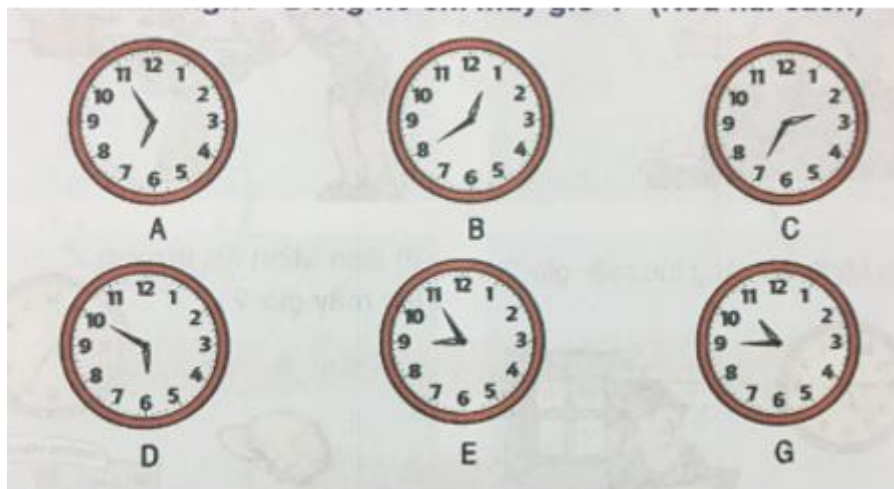
Hình D: 6 giờ 15 phút

Hình E: 7 giờ 30 phút

Hình G: 12 giờ 35 phút

4. Quan sát các mặt đồng hồ rồi đọc kĩ nội dung sau (SGK)

5. Nói cho nhau nghe " Đồng hồ chỉ mấy giờ?" (Nêu hai cách)



Trả lời:

Hình Cách 1 Cách 2

Hình A 6 giờ 55 phút 7 giờ kém 5 phút

Hình B 12 giờ 40 phút 1 giờ kém 20 phút

Hình C 2 giờ 35 phút 3 giờ kém 25 phút

Hình D 5 giờ 50 phút 6 giờ kém 10 phút

Hình E 8 giờ 55 phút 9 giờ kém 5 phút


Hình G 10 giờ 45 phút 11 giờ kém 15 phút

Hoạt động thực hành về Xem đồng hồ

Dưới đây sẽ hướng dẫn trả lời và giải đáp các câu hỏi trong bài học với cách làm chi tiết, dễ hiểu, hi vọng sẽ giúp các em học sinh nắm tốt kiến thức bài học.

Câu 1 Trang 17 Toán VNEN 3 tập 1

Đồng hồ chỉ mấy giờ?



Trả lời:

Đồng hồ chỉ:

Hình A: 6 giờ 15 phút

Hình B: 5 giờ 35 phút (hay 6 giờ kém 25 phút)

Hình C: 5 giờ 35 phút chiều (hay 6 giờ kém 25 phút chiều)

Hình D: 3 giờ 5 phút chiều

Hình E: 9 giờ 25 phút

Hình G: 9 giờ 30 phút tối

Câu 2 Trang 18 Toán VNEN lớp 3 tập 1

Quay kim đồng hồ để đồng hồ chỉ:

a. 3 giờ 15 phút

b. 7 giờ 5 phút

c. 4 giờ kém 25 phút

d. 9 giờ kém 10 phút

Trả lời:



3 giờ 15 phút 7 giờ 5 phút 4 giờ kém 25 phút 9 giờ kém 10 phút

Câu 3 Trang 18 tập 1 Toán 3 VNEN

Xem tranh rồi ghi câu trả lời vào vở

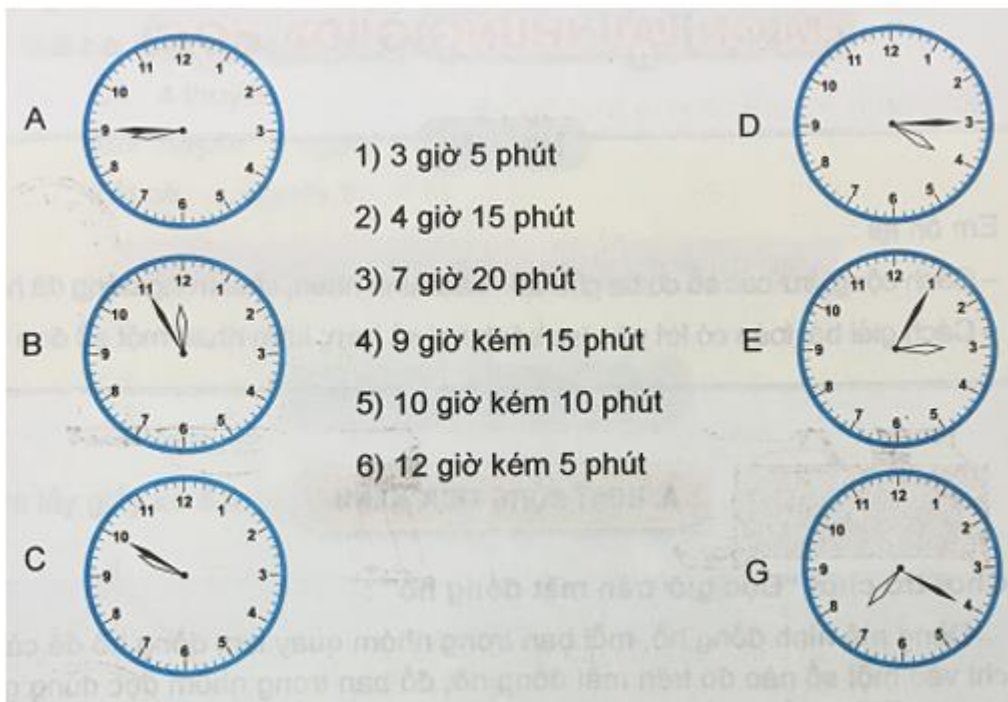


Trả lời:

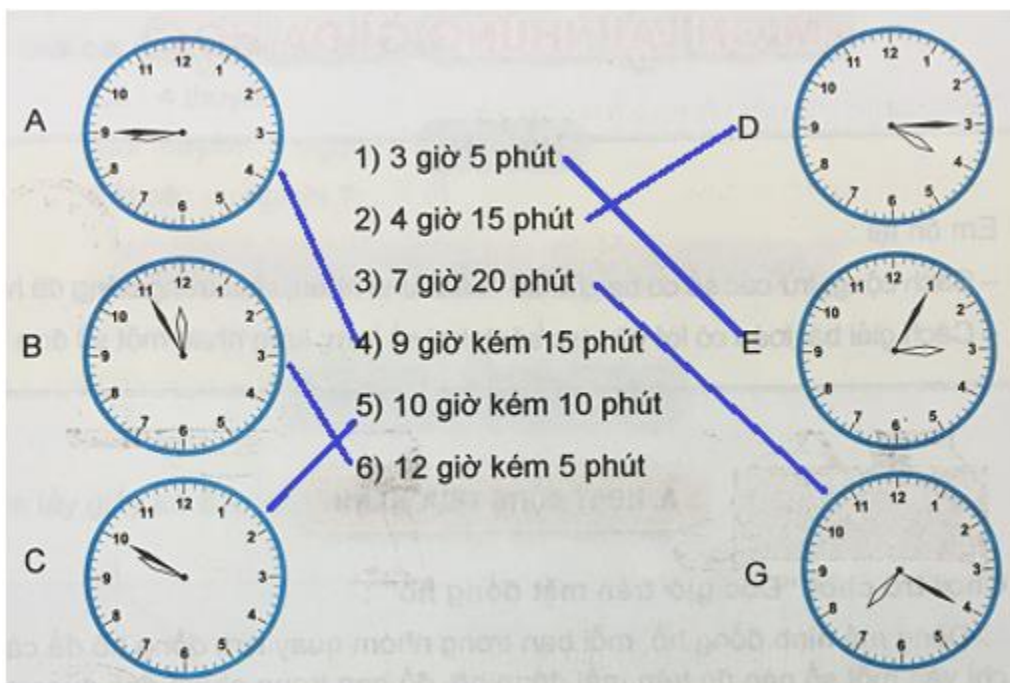
- a. Bạn Minh thức dậy lúc 6 giờ 15 phút
- b. Bạn Minh đánh răng, rửa mặt lúc 6 giờ 30 phút
- c. Bạn Minh ăn sáng lúc 7 giờ kém 15 phút
- d. Bạn Minh tới trường lúc 7 giờ 25 phút
- e. Bạn Minh bắt đầu từ trường về nhà lúc 11 giờ
- g. Bạn Minh về đến nhà lúc 11 giờ 20 phút.

Câu 4 Trang 19 SGK VNEN Toán 3 tập 1

Nói mỗi đồng hồ (A, B, C, D, E, G) với cách đọc (1, 2, 3, 4, 5, 6) tương ứng:




Trả lời:



Hoạt động ứng dụng về Xem đồng hồ

Câu 1 Trang 19 Toán VNEN SGK lớp 3 tập 1

Vào buổi chiều, hai đồng hồ nào chỉ cùng thời gian?



Trả lời:

