



Mời các bạn cùng tham khảo hướng dẫn giải bài tập Toán lớp 6 **Bài tập cuối Chương 5 trang 110** Kết Nối Tri Thức hay, ngắn gọn được chúng tôi chọn lọc và giới thiệu ngay dưới đây nhằm giúp các em học sinh tiếp thu kiến thức và củng cố bài học của mình trong quá trình học tập môn Toán.

*Giải bài tập SGK Toán 6 Kết Nối Tri Thức Bài tập cuối Chương 5 trang 110*


**Bài 5.17 trang 110 Toán lớp 6 Tập 1:** Em hãy vẽ các hình dưới đây vào giấy kẻ ô vuông rồi chỉ ra tất cả các trục đối xứng của chúng (nếu có)



a)



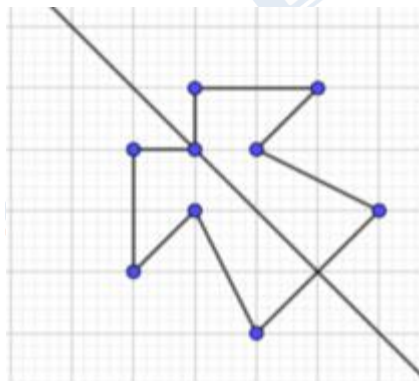
b)



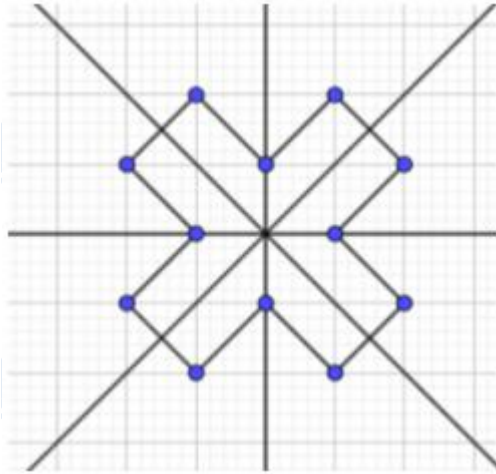
c)

**Lời giải:**

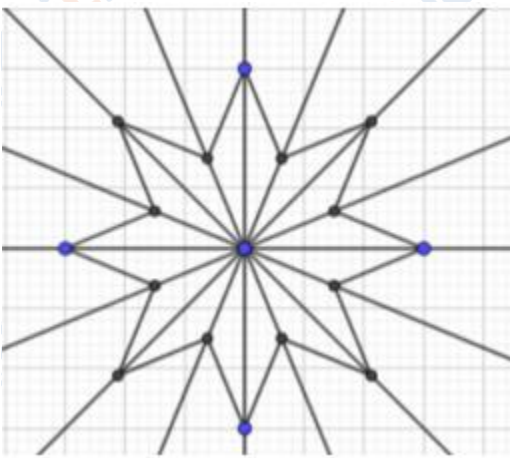
+) Hình a) có 1 trục đối xứng.



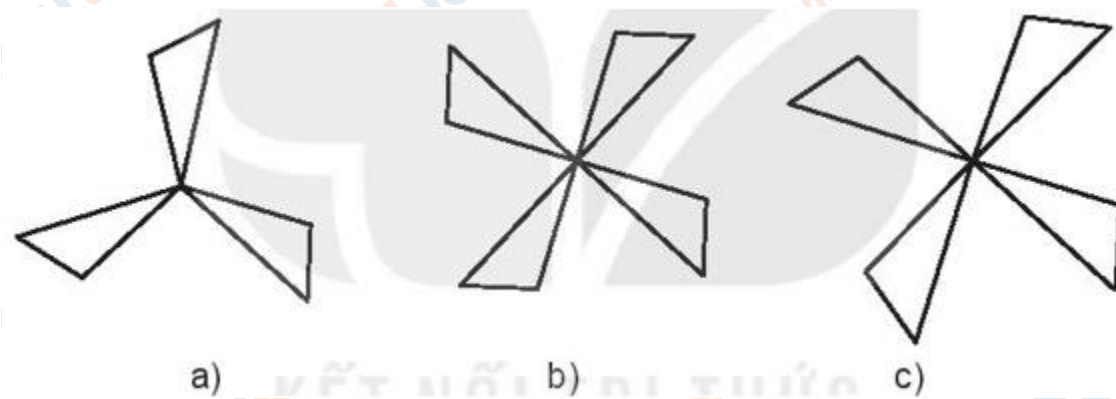
+) Hình b) có 4 trục đối xứng



+) Hình c) có 8 trục đối xứng

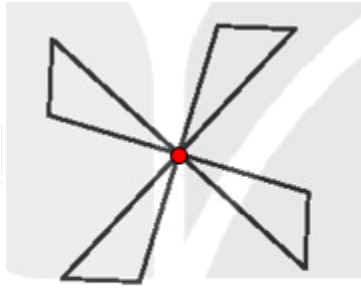


**Bài 5.18 trang 110 Toán lớp 6 Tập 1:** Hình nào dưới đây là hình có tâm đối xứng?



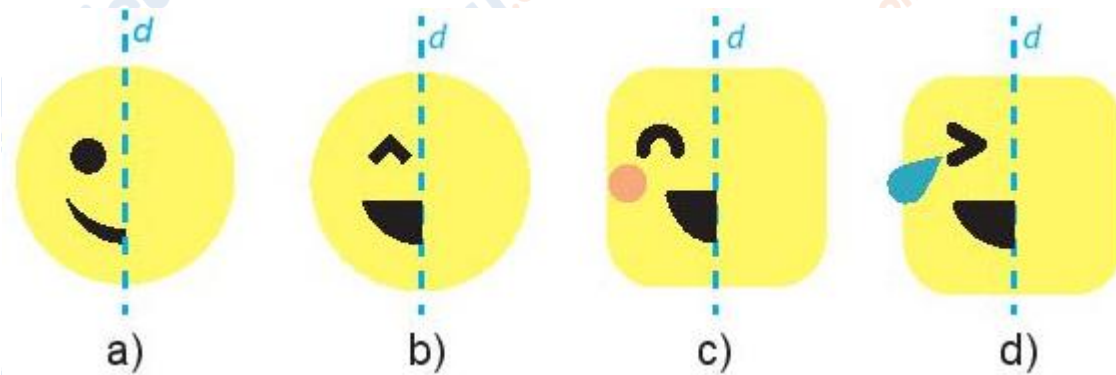
**Lời giải:**

Hình b) có tâm đối xứng



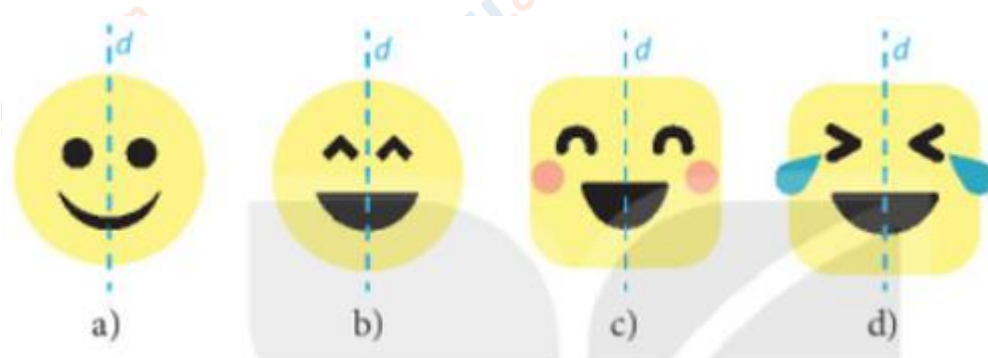
b)

**Bài 5.19 trang 110 Toán lớp 6 Tập 1:** Vẽ các hình sau vào vở và vẽ thêm họa tiết để được hình mặt cười nhận đường thẳng  $d$  cho trước là trục đối xứng



**Lời giải:**

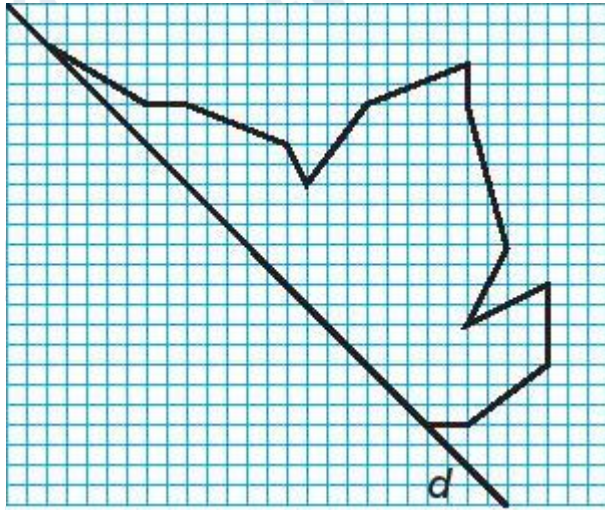
Vẽ thêm họa tiết để được hình mặt cười nhận đường thẳng  $d$  cho trước là trục đối xứng là:



**Bài 5.20 trang 110 Toán lớp 6 Tập 1:**

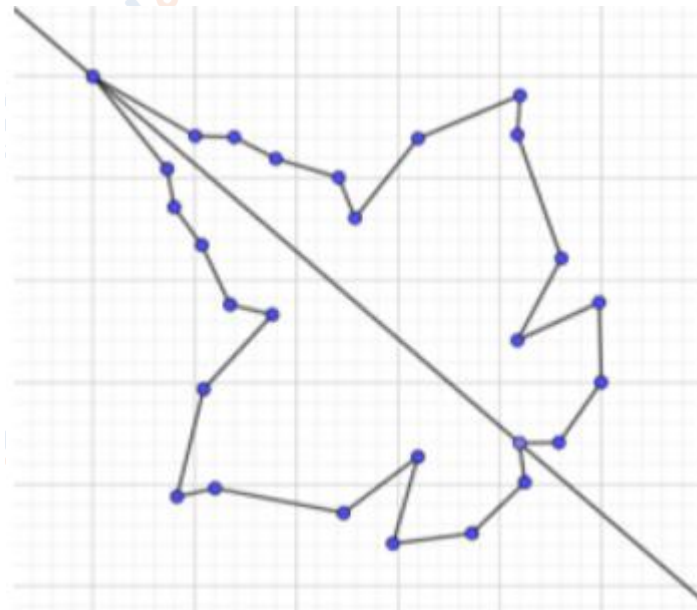
Vẽ chiếc lá

Vẽ hình bên vào giấy kẻ ô vuông rồi vẽ thêm và trang trí để được hình nhận đường thẳng  $d$  là trục đối xứng.



**Lời giải:**

Vẽ thêm và trang trí để được hình chiếc lá nhận đường thẳng  $d$  là trục đối xứng.



►► **CLICK NGAY** vào **TẢI VỀ** dưới đây để download giải Giải bài tập Toán 6 Bài tập cuối Chương 5 trang 110 Kết Nối Tri Thức ngắn gọn, hay nhất file pdf hoàn toàn miễn phí.