



Giải bài tập Toán lớp 2: Biểu đồ tranh - Có thể, chắc chắn, không thể - Chân trời sáng tạo

Luyện tập



Bài 1 (trang 111 SGK Toán 2 Tập 2)

Rau củ thu hoạch được trong một ngày ở vườn nhà bác Năm:



a) Đếm số rau củ mỗi loại. Đặt  vào bảng (mỗi  thể hiện một củ, quả, .....)

Rau củ thu hoạch ở vườn nhà bác Năm.









 Bắp cải	
 Cà tím	
 Cà chua	
 Su hào	

b) Cà tím và cà chua, loại nào thu hoạch được nhiều hơn và nhiều hơn bao nhiêu quả?

**Trả lời:**

Sau khi quan sát và đếm số rau củ mỗi loại ở vườn nhà bác Năm, em đặt số đồ vật tương ứng với số lượng mỗi loại rau củ, em được kết quả như sau:

a)

 Bắp cải	
 Cà tím	
 Cà chua	
 Su hào	

Cà chua thu hoạch được 7 quả, cà tím thu hoạch được 6 quả, em có  $7 > 6$  nên cà chua thu hoạch được nhiều hơn cà tím.

Muốn biết cà chua thu hoạch được nhiều hơn cà tím bao nhiêu quả, em lấy số quả cà chua thu hoạch được là 7 quả trừ đi số quả cà tím thu hoạch được là 6 quả, em có phép tính:  $7 - 6 = 1$  quả.

Vậy:

b) Cà chua được thu hoạch nhiều hơn cà tím và nhiều hơn:  $7 - 6 = 1$  quả.

**Bài 2 (trang 112 SGK Toán 2 Tập 2)**

Có thể, chắc chắn hay không thể?

a) Bạn ... lấy được một khối lập phương màu đỏ.



b) Bạn ..... lấy được một khối lập phương màu đỏ.



c) Bạn ..... lấy được một khối lập phương màu đỏ.

**Trả lời:**

Hình a: Trong hình có 2 khối lập phương màu đỏ nên khi bạn lấy 1 trong 2 khối thì chắc chắn bạn sẽ lấy được khối lập phương màu đỏ.

Hình b: Trong hình có 2 khối lập phương màu xanh nên khi bạn lấy 1 trong 2 khối thì không thể lấy được một khối lập phương màu đỏ.

Hình c: Trong hình có 1 khối lập phương màu đỏ và 1 khối lập phương màu xanh nên khi bạn lấy 1 trong 2 khối thì có thể bạn sẽ lấy được khối lập phương màu đỏ hoặc màu xanh.

Vậy em điền được như sau:

a) Bạn chắc chắn lấy được một khối lập phương màu đỏ.

b) Bạn không thể lấy được một khối lập phương màu đỏ.

c) Bạn có thể lấy được một khối lập phương màu đỏ.

**Đặt nước em:**

**Trang 112 SGK Toán lớp 2 Tập 2**

Trong tấm ảnh sau có bao nhiêu loại rau củ?



Tìm vị trí tỉnh Lâm Đồng trên bản đồ.

**Hoạt động thực tế:**

**Trang 112 SGK Toán lớp 2 Tập 2**

Em trao đổi với người thân: Vì sao cần phải ăn nhiều rau củ?