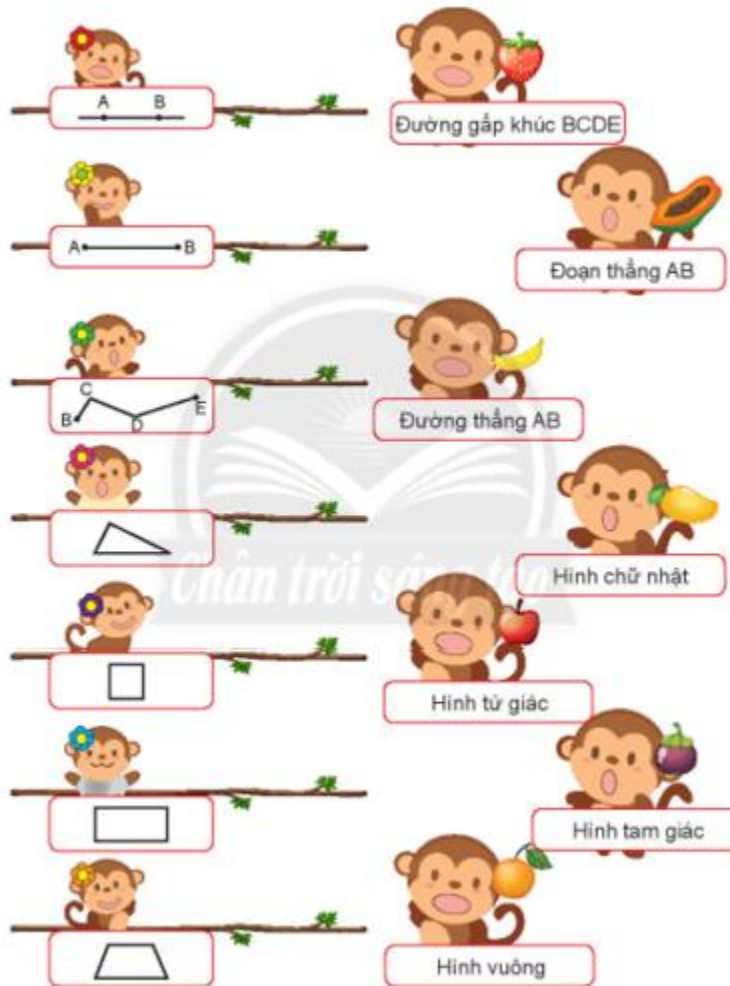


Giải bài tập Toán lớp 2: Ôn tập hình học và đo lường - Chân trời sáng tạo

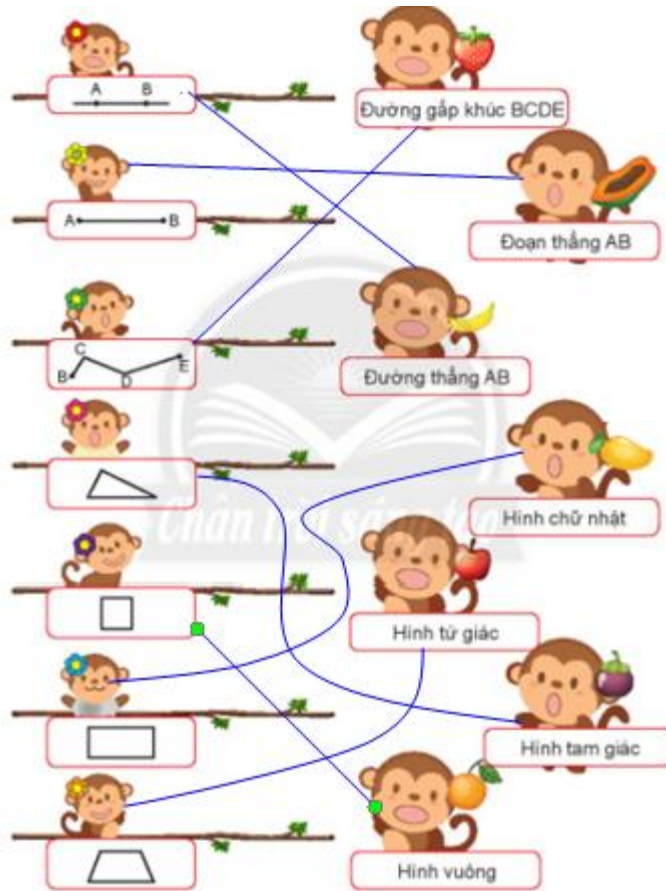
Luyện tập

Bài 1 (trang 108 SGK Toán 2 Tập 2)

Giúp mẹ tìm con.

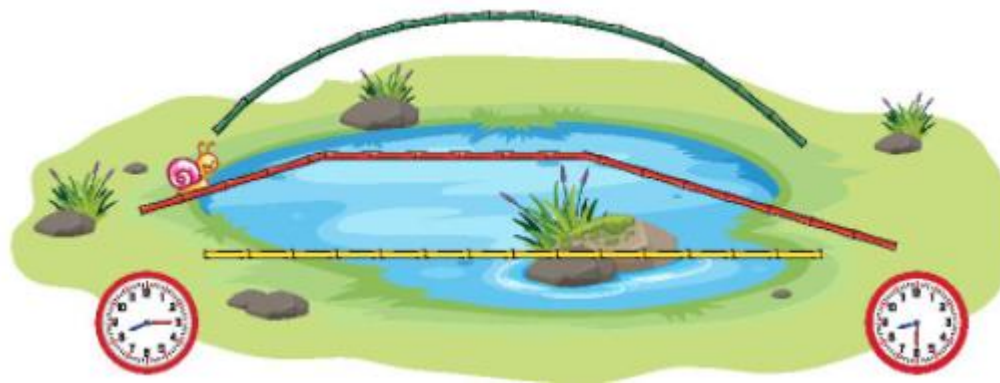


Trả lời:



Bài 2 (trang 109 SGK Toán 2 Tập 2)

Quan sát tranh, thực hiện các yêu cầu sau.



a) Đường thẳng, đường gấp khúc hay đường cong?

Cầu màu xanh lá cây có dạng

Cầu màu vàng có dạng

Cầu màu đỏ có dạng

b) Dùng thước đo độ dài mỗi đoạn thẳng rồi tính độ dài chiếc cầu màu đỏ.

... cm + ... cm + ... cm = ... cm

c) Số?

Sên bắt đầu lên cầu lúc ... giờ ... phút.

Sên qua khỏi cầu lúc ... giờ ... phút.

Trả lời:

Quan sát vào hình vẽ, em điền được như sau:

a) Cầu màu xanh lá cây có dạng đường cong.

Cầu màu vàng có dạng đường thẳng.

Cầu màu đỏ có dạng đường gấp khúc.

b) Dùng thước đo độ dài mỗi đoạn thẳng rồi tính độ dài chiếc cầu màu đỏ.

... cm + ... cm + ... cm = ... cm

c) Số?

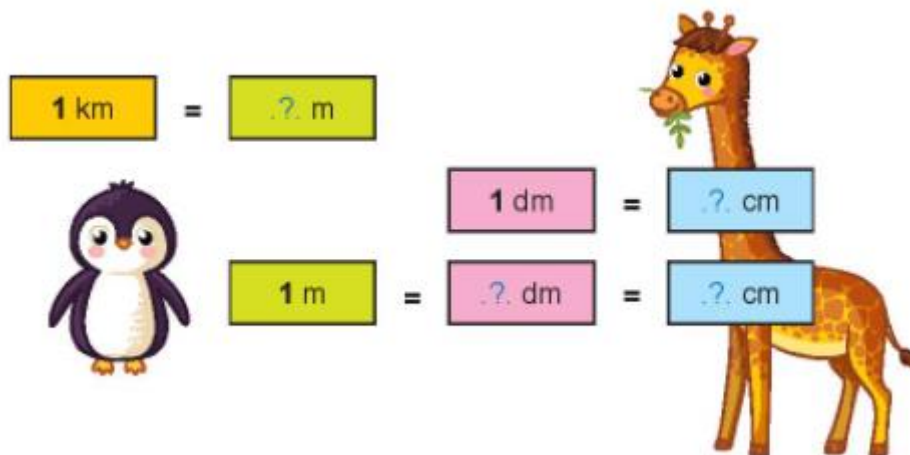
Nhìn vào đồng hồ trên hình vẽ, em điền được như sau:

Sên bắt đầu lên cầu lúc 8 giờ 15 phút.

Sên qua khỏi cầu lúc 8 giờ 30 phút.

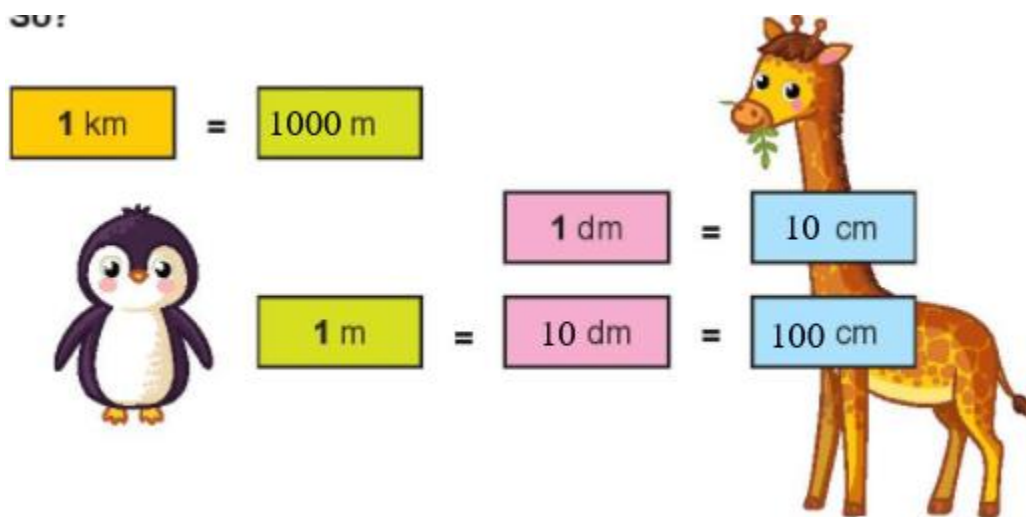
Bài 3 (trang 109 SGK Toán 2 Tập 2)

Số?



Trả lời:

Dựa vào kiến thức đã học về bảng đơn vị đo độ dài, em được kết quả như sau:



Bài 4 (trang 110 SGK Toán 2 Tập 2)

Ngày, giờ hay phút?



Em đánh răng:

Bố sơn nhà:

Gia đình ăn cơm tối:

khoảng 1

khoảng 1

khoảng 1

Trả lời:



Em đánh răng:

Bố sơn nhà:

Gia đình ăn cơm tối:

khoảng 1 phút

khoảng 1 ngày

khoảng 1 giờ

Thử thách:

Trang 110 SGK Toán lớp 2 Tập 2

Với mỗi độ tuổi, một người nếu thừa cân sẽ không tốt cho sức khỏe.

Một bạn đang cân để kiểm tra sức khỏe.

Số?

Bạn đó thừa kg?

Trả lời:

Để tính được bạn đó thừa bao nhiêu ki-lô-gam, em lấy số cân nặng của bạn là 35 kg trừ đi số cân nặng tiêu chuẩn ở độ tuổi của bạn là 29 kg, em có phép tính: $35 - 29 = 6$ kg. Vậy:

Bạn đó thừa $35 - 29 = 6$ kg.

Bài 5 (trang 110 SGK Toán 2 Tập 2)

Xếp hình.



Đất nước em:

Trang 110 SGK Toán lớp 2 Tập 2

Em có thấy các phiến đá dạng khối trụ?



Ghềnh đá đĩa (tỉnh Phú Yên)