


**Giải bài tập Toán lớp 2: Ôn tập phép cộng và phép trừ - Chân trời sáng tạo****Luyện tập****Bài 1 (trang 102 SGK Toán 2 Tập 2)**

Quan sát hình vẽ sau.



Hình A



Hình B

Tính:

a) Tổng số bút chì ở hình A và hình B.



b) Hiệu số bút chì ở hình A và hình B.



**Trả lời :**

Em đếm được hình A có 64 cái bút chì và hình B có 55 cái bút chì.

Tổng số bút chì ở hình A và hình B. Em có phép tính:  $64 + 55$

Em thực hiện cộng chữ số hàng đơn vị:  $4 + 5$  bằng 9, viết 9

Cộng chữ số hàng chục:  $6 + 5$  bằng 11, viết 11

Vậy:  $64 + 55 = 119$ .

Hiệu số bút chì ở hình A và hình B. Em có phép tính:  $64 - 55$

Em thực hiện trừ chữ số hàng đơn vị: 4 không trừ được 5 lấy  $14 - 5$  bằng 9, viết 9 nhớ 1 (nhớ 1 sang hàng chục)

Trừ chữ số hàng chục: 5 thêm 1 bằng 6,  $6 - 6$  bằng 0

Vậy:  $64 - 55 = 9$ .

Vậy em điền được như sau:

a) Tổng số bút chì ở hình A và hình B.

64	+	55	=	119
----	---	----	---	-----

b) Hiệu số bút chì ở hình A và hình B.

64	-	55	=	9
----	---	----	---	---

## Bài 2 (trang 103 SGK Toán 2 Tập 2)

Tính nhẩm.

a)  $80 + 20$

b)  $500 + 200$

$70 + 50$

$800 - 400$

$160 - 90$

$320 + 300$

$220 - 50$

$670 - 500$

**Trả lời:**

Em thực hiện tính nhẩm các phép tính:

$500 + 200 = ?$

Đổi  $500 = 50$  chục;  $200 = 20$  chục

$50 \text{ chục} + 20 \text{ chục} = 70 \text{ chục}$

Đổi  $70$  chục =  $700$

$\text{Nên } 500 + 200 = 700$

Tương tự, em thực hiện tính nhẩm và được kết quả như sau:

$a) 80 + 20 = 100$

$b) 500 + 200 = 700$

$70 + 50 = 120$

$800 - 400 = 400$

$160 - 90 = 70$

$320 + 300 = 620$

$220 - 50 = 170$

$670 - 500 = 170$

### **Bài 3 (trang 103 SGK Toán 2 Tập 2)**

Đặt tính rồi tính.

$356 + 127$

$762 - 237$

$450 - 248$

$84 + 520$

$948 - 64$

$139 + 670$

**Trả lời:**

Phép tính:  $356 + 127$

Em thực hiện cộng chữ số hàng đơn vị:  $6 + 7$  bằng  $13$ , viết  $3$  nhớ  $1$  (nhớ  $1$  sang hàng chục)

Cộng chữ số hàng chục:  $5 + 2$  bằng  $7$ , thêm  $1$  bằng  $8$ , viết  $8$

Cộng chữ số hàng trăm:  $3 + 1$  bằng  $4$ , viết  $4$

Vậy:  $356 + 127 = 483$

Phép tính:  $762 - 237$

Em thực hiện trừ chữ số hàng đơn vị: 2 không trừ được 7, lấy  $12 - 7$  bằng 5, viết 5 nhớ 1 (nhớ 1 sang hàng chục)

Trừ chữ số hàng chục: 3 thêm 1 bằng 4,  $6 - 4$  bằng 2, viết 2

Trừ chữ số hàng trăm:  $7 - 2$  bằng 5, viết 5

Vậy:  $762 - 237 = 525$ .

Em làm tương tự với các phép tính tiếp theo và được kết quả như sau:

$$\begin{array}{r} 356 + 127 \\ + 356 \\ \underline{127} \\ 483 \end{array}$$

$$\begin{array}{r} 762 - 237 \\ - 762 \\ \underline{237} \\ 525 \end{array}$$

$$\begin{array}{r} 450 - 248 \\ - 450 \\ \underline{248} \\ 202 \end{array}$$

$$\begin{array}{r} 84 + 520 \\ + 84 \\ \underline{520} \\ 604 \end{array}$$

$$\begin{array}{r} 948 - 64 \\ - 948 \\ \underline{64} \\ 884 \end{array}$$

$$\begin{array}{r} 139 + 670 \\ + 139 \\ \underline{670} \\ 709 \end{array}$$

#### **Bài 4 (trang 103 SGK Toán 2 Tập 2)**

Tìm xe cho các bạn.



Em thực hiện phép tính mà mỗi bạn đang cầm để tìm được xe cho các bạn:

$$324 + 231 = 555, 637 + 251 = 888, 221 + 334 = 555, 251 + 637 = 888$$

Vậy:

Bạn mèo và bạn sư tử sẽ đi xe có kết quả là 555

Bạn lợn và bạn chó sẽ đi xe có kết quả là 888.

Em nối được như sau:



**Bài 5 (trang 104 SGK Toán 2 Tập 2)**

Mỗi con vật che số nào?

$$300 + \text{🐙} = 700$$

$$\text{🌟} + 60 = 130$$

$$700 - \text{🦀} = 400$$

$$\text{🐠} - 70 = 60$$

**Trả lời:**

Để tìm được số mà bạch tuộc đã che, em lấy 700 trừ đi 300 bằng 400. Vậy bạch tuộc đã che số 400.

Để tìm được số mà cua đã che, em lấy 700 trừ đi 400 bằng 300. Vậy cua đã che số 300.

Để tìm được số mà sao biển đã che, em lấy 130 trừ đi 60 bằng 70. Vậy sao biển đã che số 70.


Để tìm được số mà cá ngựa đã che, em lấy 60 cộng 70 bằng 130. Vậy cá ngựa đã che số 130.

Vậy em được kết quả như sau:

 = 400

 = 70

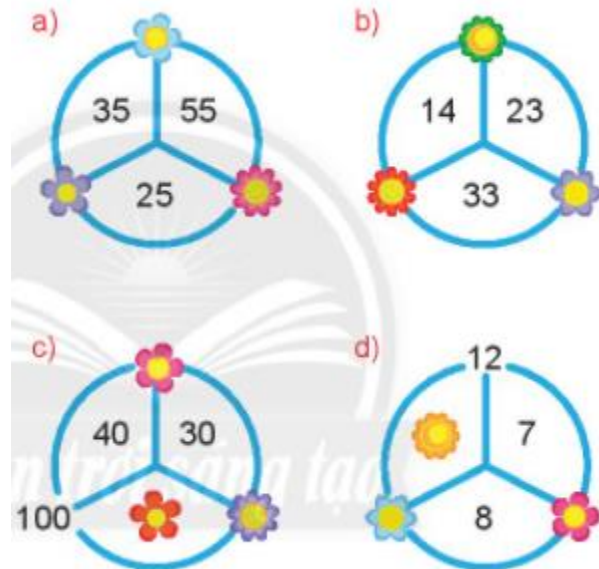
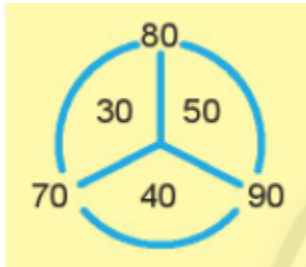
 = 300

 = 130

**Bài 6 (trang 104 SGK Toán 2 Tập 2)**

Mỗi bông hoa che số nào?

Mẫu



**Trả lời**

Nhìn vào hình mẫu em thấy số ở ngoài chính là tổng của hai số ở trong liền kề nhau cộng lại.

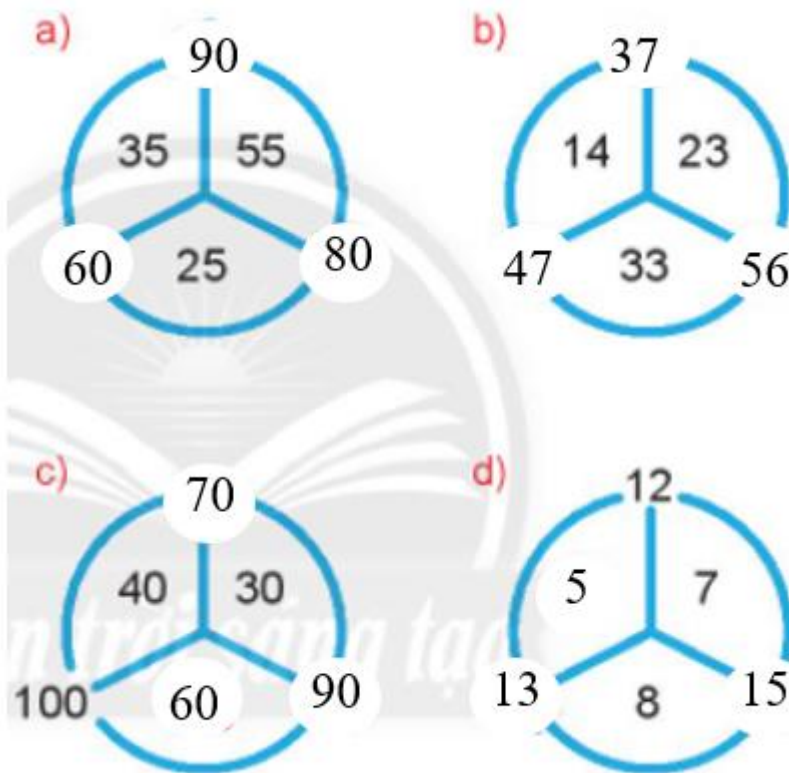
a)

Bông hoa tím: em có phép tính:  $25 + 35 = 60$ . Vậy bông hoa tím che số 60.

Bông hoa xanh dương: em có phép tính:  $35 + 55 = 90$ . Vậy bông hoa xanh dương che số 90.

Bông hoa đỏ: em có phép tính:  $55 + 25 = 80$ . Vậy bông hoa đỏ che số 80.

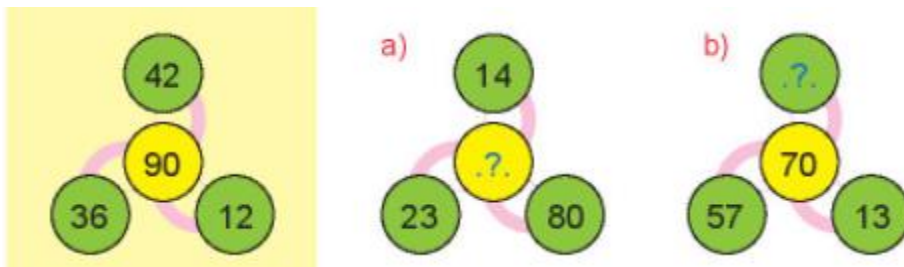
Em làm tương tự với các phần tiếp theo và được kết quả như sau:



**Bài 7 (trang 104 SGK Toán 2 Tập 2)**

Số?

Mẫu:



Nhìn vào hình mẫu em thấy số ở giữa là tổng của ba số ở ngoài:  $36 + 42 + 12 = 90$

a) Em có phép tính:  $23 + 14 + 80 = 117$ , nên em điền số 117 vào vị trí còn thiếu.

b) Em có phép tính:  $57 + 13 + ? = 70$

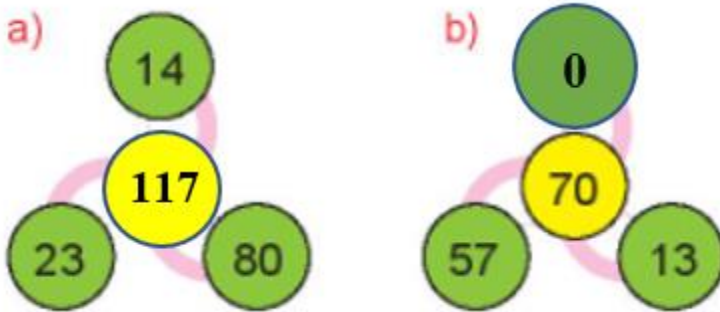


Em thực hiện phép tính:  $57 + 13 = 70$

$70 + ? = 70$ , em có  $70 + 0 = 70$

Nên:  $57 + 13 + 0 = 70$ , em điền số 0 vào vị trí còn thiếu.

Vậy em điền được như sau:



### Bài 8 (trang 105 SGK Toán 2 Tập 2)

Nam và Hà vào vườn hái dâu. Nam hái được 125 quả, Hà hái được 167 quả. Hỏi Nam hái được ít hơn Hà bao nhiêu quả dâu?



#### Trả lời:

Để tính số quả dâu Nam hái được ít hơn Hà, em lấy số quả dâu Hà hái được là 167 quả trừ đi số quả dâu Nam hái được là 125 quả. Em có phép tính:  $167 - 125 = 42$  quả dâu. Vậy:

Nam hái được ít hơn Hà  $167 - 125 = 42$  quả dâu.

### Bài 9 (trang 105 SGK Toán 2 Tập 2)

Giải bài toán theo tóm tắt sau.



Thửa ruộng thứ nhất: 216 cuộn rơm.

Thửa ruộng thứ hai: 328 cuộn rơm.

Cả hai thửa ruộng: ..... cuộn rơm?

**Trả lời:**

Để tính số cuộn rơm ở cả hai thửa ruộng, em lấy số cuộn rơm ở thửa ruộng thứ nhất là 216 cuộn cộng với số cuộn rơm ở thửa ruộng thứ hai là 328 cuộn. Em có phép tính:  $216 + 328 = 544$  cuộn rơm. Vậy:

Cả hai thửa ruộng có:  $216 + 328 = 544$  cuộn rơm.

**Đặt nước em: Trang 105 SGK Toán lớp 2 Tập 2**

Thu hoạch lúa ở Long An



Các cuộn rơm  
có dạng hình gì?

Tìm vị trí tỉnh Long An trên bản đồ.