

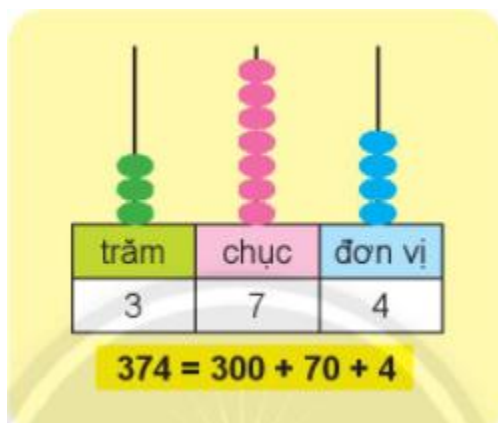
Giải bài tập Toán lớp 2: Ôn tập các số trong phạm vi 1000 - Chân trời sáng tạo

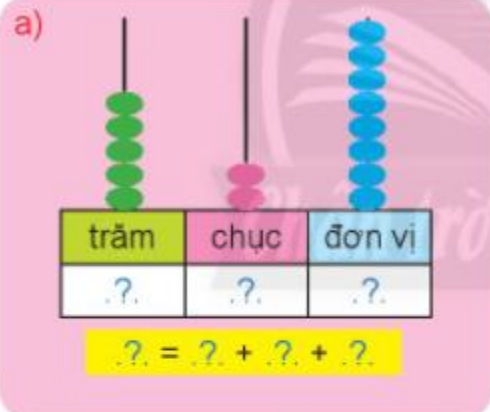
Luyện tập

Bài 1 (trang 99 SGK Toán 2 Tập 2)

Làm theo mẫu.

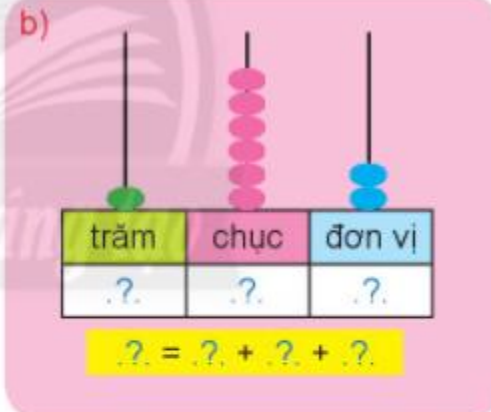
Mẫu:



a) 

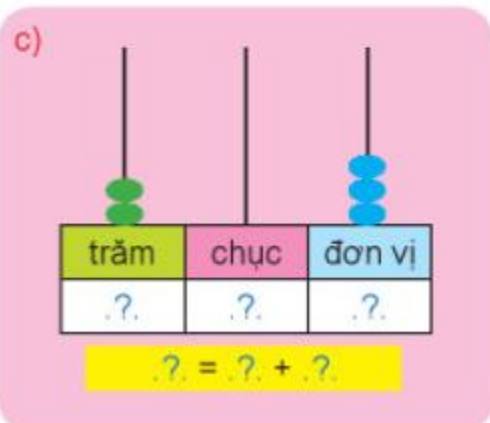
trăm	chục	đơn vị
.?	.?	.?

 $.? = .? + .? + .?$

b) 

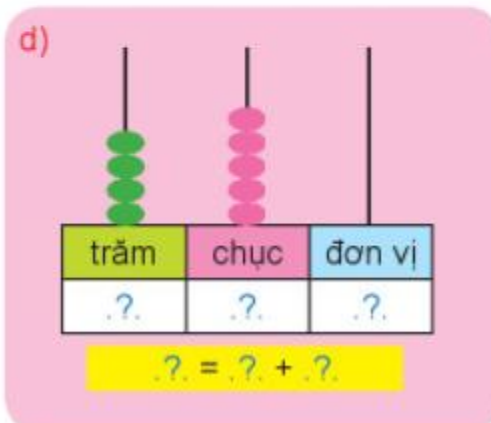
trăm	chục	đơn vị
.?	.?	.?

 $.? = .? + .? + .?$

c) 

trăm	chục	đơn vị
.?	.?	.?

 $.? = .? + .?$

d) 

trăm	chục	đơn vị
.?	.?	.?

 $.? = .? + .?$

Trả lời

a)

trăm	chục	đơn vị
5	2	8

$528 = 500 + 20 + 8$

b)

trăm	chục	đơn vị
1	6	2

$162 = 100 + 60 + 2$

c)

trăm	chục	đơn vị
2	0	3

$203 = 200 + 0 + 3$

d)

trăm	chục	đơn vị
4	5	0

$450 = 400 + 50 + 0$

Bài 2 (trang 100 SGK Toán 2 Tập 2)

Đọc và viết số.

Viết số	Đọc số
108	?
855	?
510	?
904	?
661	?

Đọc số	Viết số
Hai trăm bảy mươi tư	?
Bốn trăm mười lăm	?
Bảy trăm hai mươi chín	?
Ba trăm bốn mươi bảy	?
Một nghìn	?

Trả lời:

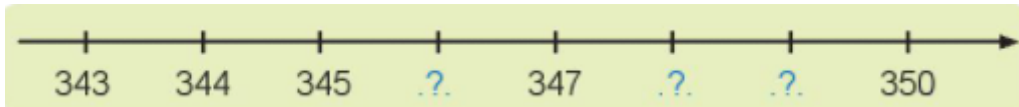
Viết số	Đọc số
108	Một trăm linh tám
855	Tám trăm năm mươi lăm
510	Năm trăm mười
904	Chín trăm linh bốn
661	Sáu trăm sáu mươi một

Đọc số	Viết số
Hai trăm bảy mươi tư	274
Bốn trăm mười lăm	415
Bảy trăm hai mươi chín	729
Ba trăm bốn mươi bảy	347
Một nghìn	1000

Bài 3 (trang 100 SGK Toán 2 Tập 2)

Số?


a)




b)



c)

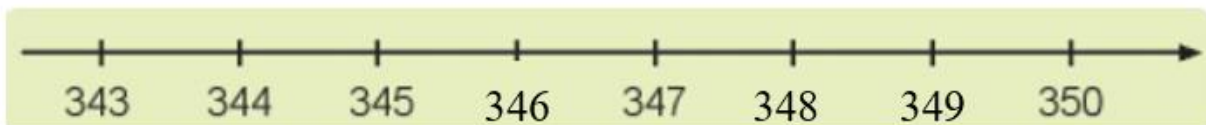


d)

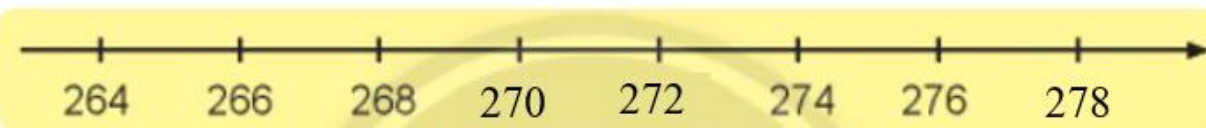


Trả lời


a) Hai số liền kề nhau hơn kém nhau 1 đơn vị, nên em điền được như sau:




b) Hai số liền kề nhau hơn kém nhau 2 đơn vị, nên em điền được như sau:



c) Hai số liền kề nhau hơn kém nhau 5 đơn vị, nên em điền được như sau:



d) Hai số liền kề nhau hơn kém nhau 10 đơn vị, nên em điền được như sau:



Bài 4 (trang 100 SGK Toán 2 Tập 2)

Bốn lớp 2A, 2B, 2C, 2D gấp hạc giấy để trang trí lớp.

Tìm số hạc giấy của mỗi lớp, biết rằng:

Số hạc giấy của lớp 2A là số tròn chục lớn nhất có hai chữ số.

Số hạc giấy của lớp 2B nhiều hơn lớp 2A là 5 con.

Số hạc giấy của lớp 2C là số liền trước của 110.

Số hạc giấy của lớp 2D là số liền sau của 110.



Trả lời:

Số tròn chục lớn nhất có hai chữ số là số 90. Mà số hạc giấy của lớp 2A là số tròn chục lớn nhất có hai chữ số. Vậy:

Số hạc giấy của lớp 2A là 90 con.

Để tính số hạc giấy của lớp 2B, em lấy số hạc giấy của lớp 2A là 90 con cộng với số hạc giấy mà lớp 2B nhiều hơn lớp 2A là 5 con. Em có phép tính: $90 + 5 = 95$ con. Vậy:

Số hạc giấy của lớp 2B là : $90 + 5 = 95$ con

Số liền trước của số 110 là số 109. Mà số hạc giấy của lớp 2C là số liền trước của 110. Vậy:

Số hạc giấy của lớp 2C là 109 con.

Số liền sau của số 110 là số 111. Mà số hạc giấy của lớp 2D là số liền sau của 110. Vậy:

Số học giầy của lớp 2D là 111 con.

Vậy em được kết quả như sau:

Số học giầy của lớp 2A là 90 con.

Số học giầy của lớp 2B là : $90 + 5 = 95$ con

Số học giầy của lớp 2C là 109 con.

Số học giầy của lớp 2D là 111 con.

Bài 5 (trang 101 SGK Toán 2 Tập 2)

(>, =, <)?

497 502

685 680

378 $300 + 70 + 8$

824 828

781 399

137 $300 + 10 + 7$

921 912

254 263

564 $500 + 64$

Trả lời:

Em so sánh các số ở mỗi phần và được kết quả như sau:

$497 < 502$

$685 > 680$

$378 = 300 + 70 + 8$

$824 < 828$

$781 > 399$

$137 < 300 + 10 + 7$

$921 > 912$

$254 < 263$

$564 = 500 + 64$


Bài 6 (trang 101 SGK Toán 2 Tập 2)

Đổi chỗ hai hình để các số được sắp xếp theo thứ tự:

a) Từ lớn đến bé.



b) Từ bé đến lớn.

**Trả lời**

a) Từ lớn đến bé.

Em sắp xếp các số ở mỗi hình theo thứ tự từ lớn đến bé, em có: 614, 594, 575, 570.

Vậy em đổi chỗ hình màu tím và màu xanh lá để các số được sắp xếp thứ tự từ lớn đến bé. Em được kết quả như sau:




b) Từ bé đến lớn.

Em sắp xếp các số ở mỗi hình theo thứ tự từ bé đến lớn, em có: 369, 407, 417, 419.

Vậy em đổi chỗ hình màu cam và màu hồng để các số được sắp xếp thứ tự từ bé đến lớn. Em được kết quả như sau:

**Bài 7 (trang 101 SGK Toán 2 Tập 2)**

Ước lượng.



Ước lượng: Có khoảng quả dâu.

Trả lời :

Em ước lượng có 11 nhóm quả dâu. Mỗi nhóm có 10 quả dâu tây. Vậy có (10 quả, 20 quả, 30 quả, 40 quả, 50 quả, 60 quả, 70 quả, 80 quả, 90 quả, 100 quả, 110 quả)

Em ước lượng có khoảng 110 quả dâu