

Giải bài tập Toán lớp 2: Phép trừ có nhớ trong phạm vi 1000 trang 92, 93, 94 - Chân trời sáng tạo

Thực hành

Bài 1 (trang 92 SGK Toán 2 Tập 2)

Đặt tính rồi tính.

$$182 - 127$$

$$209 - 145$$

$$350 - 18$$

$$518 - 324$$

$$670 - 346$$

$$409 - 55$$

Trả lời:

Phép tính: $182 - 127$

Em thực hiện trừ chữ số hàng đơn vị: 2 không trừ được 7, em lấy $12 - 7$ bằng 5, viết 5 (nhớ 1 sang hàng chục)

Trừ chữ số hàng chục: 2 thêm 1 bằng 3, $8 - 3$ bằng 5, viết 5.

Trừ chữ số hàng trăm: $1 - 1$ bằng 0.

Vậy: $182 - 127 = 55$.

Em làm tương tự với các phép tính tiếp theo và được kết quả như sau:

$$182 - 127$$

$$\begin{array}{r} 182 \\ - 127 \\ \hline 55 \end{array}$$

$$209 - 145$$

$$\begin{array}{r} 209 \\ - 145 \\ \hline 64 \end{array}$$

$$350 - 18$$

$$\begin{array}{r} 350 \\ - 18 \\ \hline 332 \end{array}$$

$$518 - 324$$

$$\begin{array}{r} 518 \\ - 324 \\ \hline 194 \end{array}$$

$$670 - 346$$

$$\begin{array}{r} 670 \\ - 346 \\ \hline 324 \end{array}$$

$$409 - 55$$

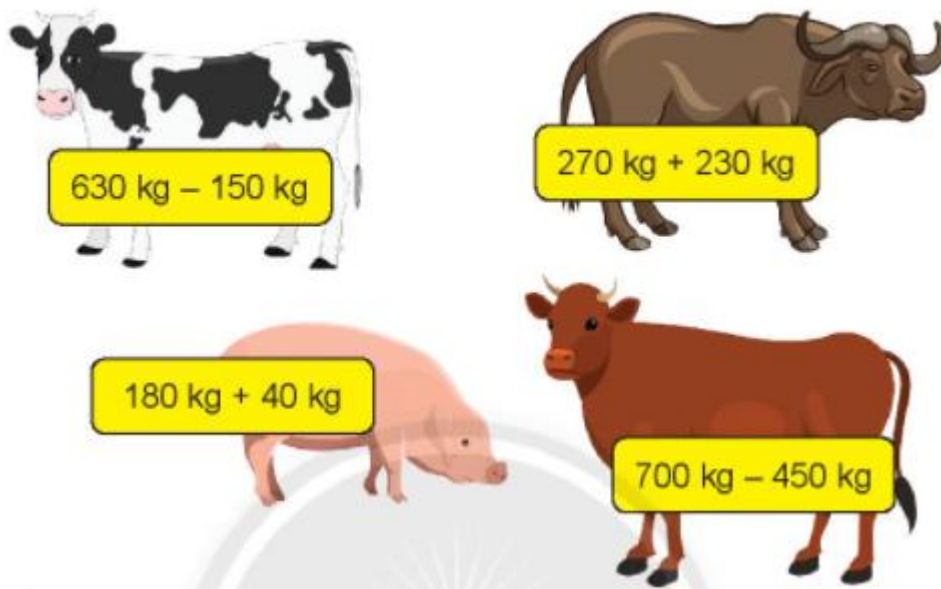
$$\begin{array}{r} 409 \\ - 55 \\ \hline 354 \end{array}$$

Luyện tập

Bài 1 (trang 93 SGK Toán 2 Tập 2)

a) Mỗi con vật nặng bao nhiêu ki-lô-gam?

b) Con vật nào nặng nhất, con vật nào nhẹ nhất?



Trả lời

Để tính mỗi con vật nặng bao nhiêu ki-lô-gam, em thực hiện phép tính ở mỗi con vật.

Con bò sữa: $630 \text{ kg} - 150 \text{ kg}$

Em thực hiện phép tính: $630 - 150$

Em thực hiện trừ chữ số hàng đơn vị: $0 - 0$ bằng 0 , viết 0 ; trừ chữ số hàng chục: 3 không trừ được 5 , em lấy $13 - 5$ bằng 8 , viết 8 nhớ 1 (nhớ 1 sang hàng trăm); trừ chữ số hàng trăm: 1 thêm 1 bằng 2 , $6 - 2$ bằng 4 , viết 4 . Nên: $630 - 150 = 480$.

Vậy con bò sữa nặng: $630 \text{ kg} - 150 \text{ kg} = 480 \text{ kg}$.

Em thực hiện các phép tính tiếp theo để tính cân nặng của mỗi con vật và được kết quả như sau:

$$630 \text{ kg} - 150 \text{ kg} = 480 \text{ kg}$$

$$270 \text{ kg} + 230 \text{ kg} = 500 \text{ kg}$$

$$180 \text{ kg} + 40 \text{ kg} = 220 \text{ kg}$$

$$700 \text{ kg} - 450 \text{ kg} = 250 \text{ kg}$$

Em có: $500 \text{ kg} > 480 \text{ kg} > 250 \text{ kg} > 220 \text{ kg}$.

Nên con trâu nặng nhất (500 kg) và con lợn nhẹ nhất (220 kg).

Vậy em có kết quả như sau:

- a) Con bò sữa nặng 480 kg, con trâu nặng 500 kg, con lợn nặng 220 kg, con bò nặng 250 kg
b) Con trâu nặng nhất, con lợn nhẹ nhất

Bài 2 (trang 93 SGK Toán 2 Tập 2)

Số?

Biết rằng ba số theo hàng hay theo cột đều có tổng là 500.

**Trả lời**

Ba số theo hàng hay theo cột đều có tổng là 500, nên để điền vào chỗ trống em thực hiện các phép tính theo hàng và cột.

$$200 + 150 + ? = 500$$

Em thực hiện phép tính: $200 + 150 = 350$

$350 + ? = 500$, để tính được số còn thiếu em lấy $500 - 350$ bằng 150.

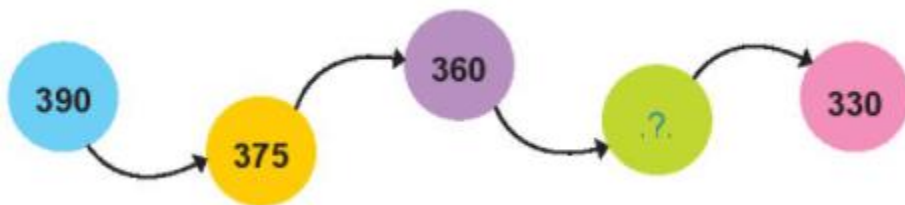
$$\text{Nên } 200 + 150 + 150 = 500$$

Em làm tương tự với các hàng hay cột còn lại để tính được số còn thiếu và được kết quả như sau:



Bài 3 (trang 93 SGK Toán 2 Tập 2)

Số?



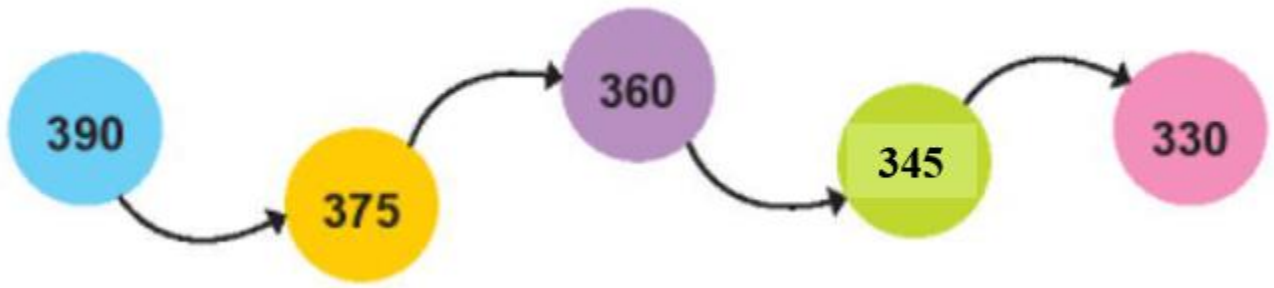
Em có phép tính: $390 - 375 = 15$, $375 - 360 = 15$

Nên số ở hai hình tròn liền kề nhau có hiệu bằng 15.

Để điền được số vào hình tròn xanh lá em thực hiện phép tính: $360 - ? = 15$ hay $? - 330 = 15$.

Phép tính: $360 - ? = 15$. Để tính được số ở vị trí còn thiếu, em lấy $360 - 15$ bằng 345. Nên $360 - 345 = 15$

Vậy em điền số 345 vào hình tròn xanh lá. Em điền được như sau:



Bài 4 (trang 94 SGK Toán 2 Tập 2)

Mùa xoài năm nay, gia đình bà Ba thu hoạch được 965 kg xoài, trong đó có 375 kg xoài tượng, còn lại là xoài cát. Hỏi gia đình bà Ba thu hoạch được bao nhiêu ki-lô-gam xoài cát?



Trả lời:

Để tính số ki-lô-gam xoài cát gia đình bà Ba thu hoạch được, em lấy số xoài gia đình bà Ba thu hoạch được là 965 kg trừ đi số xoài tượng mà gia đình bà Ba thu hoạch được là 375 kg. Em có phép tính: $965 \text{ kg} - 375 \text{ kg} = 590 \text{ kg}$.

Vậy:

Số xoài cát là: $965 - 375 = 590 \text{ kg}$

Bài 5 (trang 94 SGK Toán 2 Tập 2)

Tìm chỗ sai trong các phép tính sau. Hãy làm lại cho đúng.

a)
$$\begin{array}{r} 471 \\ + 309 \\ \hline 770 \end{array}$$

b)
$$\begin{array}{r} 324 \\ + 58 \\ \hline 904 \end{array}$$

c)
$$\begin{array}{r} 583 \\ - 266 \\ \hline 849 \end{array}$$

Vui học

Trang 94 SGK Toán lớp 2 tập 2

Số?



Thử thách

Trang 94 SGK Toán lớp 2 tập 2

Chữ số?

a)
$$\begin{array}{r} 4 \quad ? \quad 6 \\ + \quad ? \quad 5 \quad 1 \\ \hline 8 \quad 0 \quad ? \end{array}$$

b)
$$\begin{array}{r} 9 \quad 7 \quad ? \\ - \quad ? \quad 3 \quad 2 \\ \hline 1 \quad ? \quad 8 \end{array}$$