


Nội dung bài viết

1. [Hướng dẫn giải bài tập trang 165, 166 SGK Toán 1: Đồng hồ, thời gian](#)

Hướng dẫn giải bài tập trang 165, 166 SGK Toán 1: Đồng hồ, thời gian

### Bài 1: (Hướng dẫn giải bài tập số 1 SGK)

Viết theo mẫu

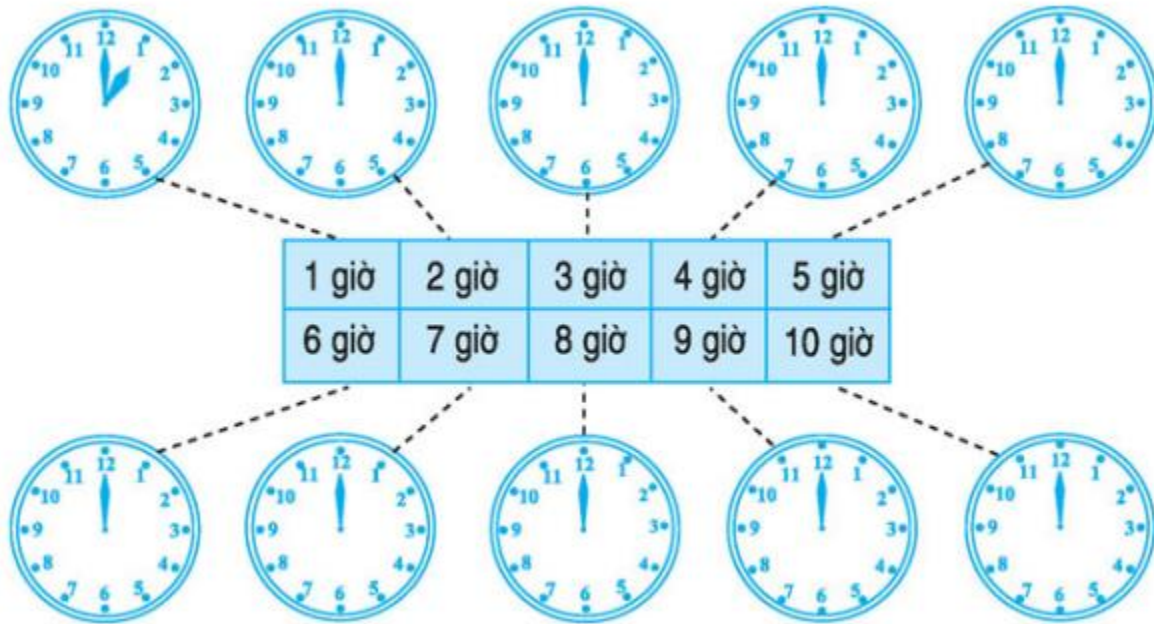


### Hướng dẫn giải:

Viết lần lượt dưới mỗi đồng hồ: 3 giờ, 9 giờ, 1 giờ, 10 giờ, 6 giờ

### Bài 2: (Hướng dẫn giải bài tập số 2 SGK)

Vẽ thêm kim ngắn



**Hướng dẫn giải:**

- 2 giờ: Vẽ thêm kim ngắn vào số 2
- 3 giờ: Vẽ thêm kim ngắn vào số 3
- 4 giờ: Vẽ thêm kim ngắn vào số 4
- 5 giờ: Vẽ thêm kim ngắn vào số 5
- 6 giờ: Vẽ thêm kim ngắn vào số 6
- 7 giờ: Vẽ thêm kim ngắn vào số 7
- 8 giờ: Vẽ thêm kim ngắn vào số 8
- 9 giờ: Vẽ thêm kim ngắn vào số 9
- 10 giờ: Vẽ thêm kim ngắn vào số 10

**Bài 3: (Hướng dẫn giải bài tập số 3 SGK)**

Nói tranh với đồng hồ thích hợp



Buổi sáng : học ở trường



Buổi trưa : ăn cơm



Buổi chiều : học nhóm



Buổi tối : nghỉ ở nhà

**Hướng dẫn giải:**

Buổi sáng: nối với đồng hồ chỉ 8 giờ


Buổi trưa: nối với đồng hồ chỉ 11 giờ

Buổi chiều: nối với đồng hồ chỉ 3 giờ

Buổi tối: nối với đồng hồ chỉ 10 giờ

**Bài 4: (Hướng dẫn giải bài tập số 4 SGK)**

Bạn An đi từ thành phố về quê. Vẽ thêm kim ngắn thích hợp vào mỗi đồng hồ

**Hướng dẫn giải:**

Bạn An đi từ thành phố về quê từ 8 giờ sáng đến 10 giờ sáng.