

Nội dung bài viết

1. [Giải Bài 1 trang 165 SGK Toán lớp 2 Tập 2](#)
2. [Giải Bài 2 trang 165 SGK Toán lớp 2 Tập 2](#)
3. [Giải Bài 3 trang 165 SGK Toán lớp 2 Tập 2](#)
4. [Giải Bài 4 trang 165 SGK Toán lớp 2 Tập 2](#)
5. [Giải Bài 5 trang 165 SGK Toán lớp 2 Tập 2](#)

Mời các em học sinh và quý thầy cô tham khảo **hướng dẫn Giải Toán lớp 2 SGK Tập 2 trang 165: Luyện tập chung chính xác** được đội ngũ chuyên gia biên soạn đầy đủ và ngắn gọn dưới đây.

Giải Bài 1 trang 165 SGK Toán lớp 2 Tập 2

Viết số và chữ thích hợp vào ô trống (theo mẫu):

Đọc số	Viết số	Trăm	Chục	Đơn vị
Một trăm hai mươi ba	123	1	2	3
Bốn trăm mười sáu				
		5	0	2
	299			
		9	4	0

Phương pháp giải:

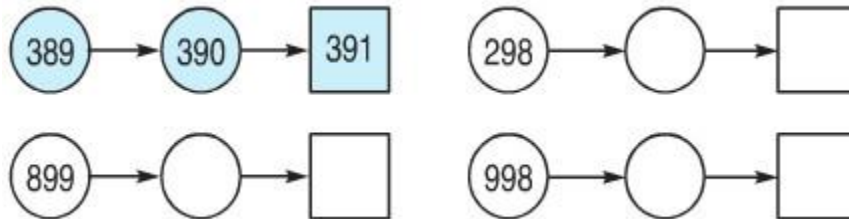
Hoàn thiện đọc; viết và phân tích số có ba chữ số trong bảng.

Lời giải chi tiết:

Đọc số	Viết số	Trăm	Chục	Đơn vị
Một trăm hai mươi ba	123	1	2	3
Bốn trăm mười sáu	416	4	1	6
Năm trăm linh hai	502	5	0	2
Hai trăm chín mươi chín	299	2	9	9
Chín trăm bốn mươi	940	9	4	0

Giải Bài 2 trang 165 SGK Toán lớp 2 Tập 2

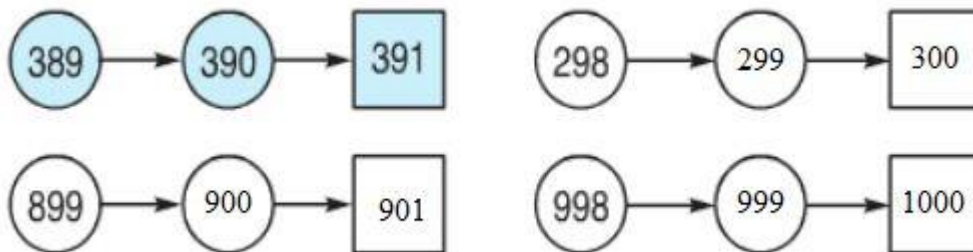
Số ?



Phương pháp giải:

Đếm xuôi các số rồi điền số còn thiếu vào chỗ trống.

Lời giải chi tiết:



Giải Bài 3 trang 165 SGK Toán lớp 2 Tập 2

Điền dấu >; <; = vào chỗ chấm:

875...785

321298

697...699

900 + 90 + 8...1000

599...701

732...700 + 30 + 2

Phương pháp giải:

- Tính giá trị các vế có phép tính.
- So sánh các cặp chữ số cùng hàng theo thứ tự từ trái sang phải.

Lời giải chi tiết:

875 > 785

321 > 298

697 < 699

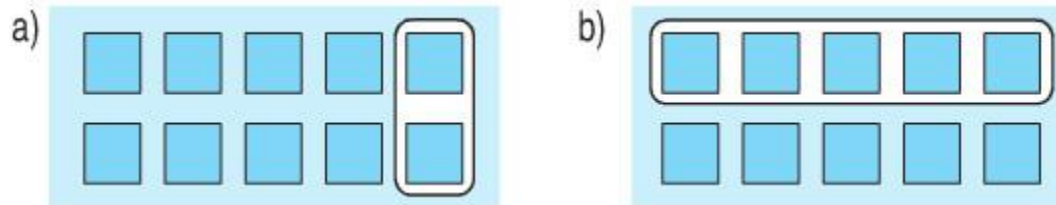
900 + 90 + 8 < 1000

599 < 701

732 = 700 + 30 + 2

Giải Bài 4 trang 165 SGK Toán lớp 2 Tập 2

Hình nào đã khoanh vào 1515 số hình vuông ?



Phương pháp giải:

- Đếm số hình vuông rồi chia số đó cho 5.
- Chọn hình đã khoanh số hình vuông bằng với kết quả phép chia vừa tìm được.

Lời giải chi tiết:

Mỗi hình đang có 10 hình vuông.

Ta có : $10 : 5 = 2$

Vậy hình a được khoanh vào 1515 số hình vuông.

Giải Bài 5 trang 165 SGK Toán lớp 2 Tập 2

Giá tiền một chiếc bút chì là 700 đồng, giá tiền một chiếc bút bi nhiều hơn giá tiền một chiếc bút chì 300 đồng. Hỏi giá tiền một chiếc bút bi là bao nhiêu đồng?

Lời giải chi tiết:

Giá tiền một chiếc bút bi là:

$$700 + 300 = 1000 \text{ (đồng)}$$

Đáp số: 1000 đồng.

►► **CLICK NGAY** vào nút **TẢI VỀ** dưới đây để tải về **Giải Toán lớp 2 SGK Tập 2 trang 165: Luyện tập chung chính xác file PDF** hoàn toàn miễn phí.