

Nội dung bài viết

1. [Giải Bài 1 trang 157 SGK Toán lớp 2 Tập 2](#)
2. [Giải Bài 2 trang 157 SGK Toán lớp 2 Tập 2](#)
3. [Giải Bài 3 trang 157 SGK Toán lớp 2 Tập 2](#)
4. [Giải Bài 4 trang 157 SGK Toán lớp 2 Tập 2](#)
5. [Giải Bài 5 trang 157 SGK Toán lớp 2 Tập 2](#)

Mời các em học sinh và quý thầy cô tham khảo **hướng dẫn Giải Toán lớp 2 SGK Tập 2 trang 157: Luyện tập phép cộng không nhớ trong phạm vi 1000** chính xác được đội ngũ chuyên gia biên soạn đầy đủ và ngắn gọn dưới đây.

Giải Bài 1 trang 157 SGK Toán lớp 2 Tập 2

Tính:

$$\begin{array}{r} 225 \\ + 634 \\ \hline \end{array} \quad \begin{array}{r} 362 \\ + 425 \\ \hline \end{array} \quad \begin{array}{r} 683 \\ + 204 \\ \hline \end{array} \quad \begin{array}{r} 502 \\ + 256 \\ \hline \end{array} \quad \begin{array}{r} 261 \\ + 27 \\ \hline \end{array}$$

Phương pháp giải:

Cộng các số cùng hàng theo thứ tự từ phải sang trái.

Lời giải chi tiết:

$$\begin{array}{r} 225 \\ + 634 \\ \hline 859 \end{array} \quad \begin{array}{r} 362 \\ + 425 \\ \hline 787 \end{array} \quad \begin{array}{r} 683 \\ + 204 \\ \hline 887 \end{array} \quad \begin{array}{r} 502 \\ + 256 \\ \hline 758 \end{array} \quad \begin{array}{r} 261 \\ + 27 \\ \hline 288 \end{array}$$

Giải Bài 2 trang 157 SGK Toán lớp 2 Tập 2

Đặt tính rồi tính:

a) $245 + 312$; $665 + 214$; $217 + 752$

b) $68 + 27$; $72 + 19$; $61 + 29$

Phương pháp giải:

- Đặt tính : Viết các chữ số cùng hàng thẳng cột với nhau.
- Tính : Cộng các số theo thứ tự từ phải sang trái.

Lời giải chi tiết:

$$a) \begin{array}{r} 245 \\ + 312 \\ \hline 557 \end{array}$$

$$\begin{array}{r} 665 \\ + 214 \\ \hline 879 \end{array}$$

$$\begin{array}{r} 217 \\ + 752 \\ \hline 969 \end{array}$$

$$b) \begin{array}{r} 68 \\ + 27 \\ \hline 95 \end{array}$$

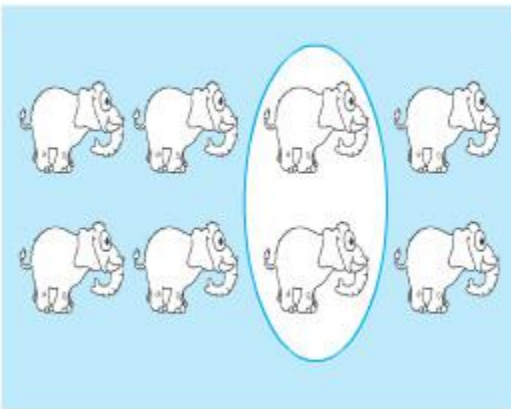
$$\begin{array}{r} 72 \\ + 19 \\ \hline 91 \end{array}$$

$$\begin{array}{r} 61 \\ + 29 \\ \hline 90 \end{array}$$

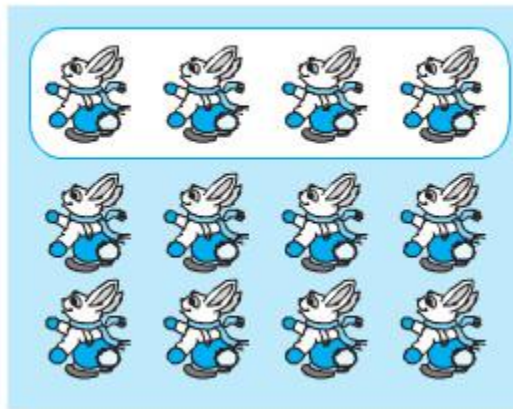
Giải Bài 3 trang 157 SGK Toán lớp 2 Tập 2

Hình nào đã khoanh vào $\frac{1}{4}$ số con vật ?

a)



b)



Phương pháp giải:

- Đếm số con vật có trong mỗi hình rồi chia 4.
- Chọn hình có số con vật đã khoanh bằng kết quả phép chia vừa tìm được.

Lời giải chi tiết:

Hình a có 8 con voi và $8 : 4 = 2$.

Hình a có đúng 2 con voi được khoan.

Hình b có 12 con thỏ và $12 : 4 = 3$.

Hình b có 4 con thỏ được khoan.

Vậy hình a được khoan vào $1/4$ số con voi.

Giải Bài 4 trang 157 SGK Toán lớp 2 Tập 2

Con gấu nặng 210 kg, con sư tử nặng hơn con gấu 18kg. Hỏi con sư tử nặng bao nhiêu ki-lô-gam?

Lời giải chi tiết:

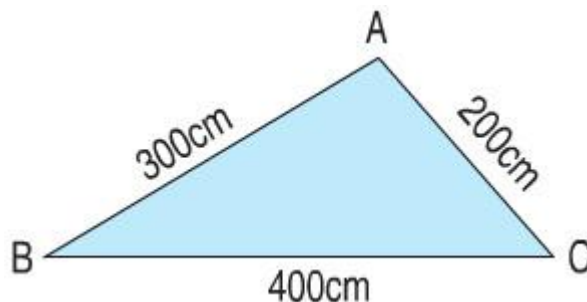
Con sư tử nặng:

$$210 + 18 = 228 \text{ (kg)}$$

Đáp số: 228kg.

Giải Bài 5 trang 157 SGK Toán lớp 2 Tập 2

Tính chu vi hình tam giác ABC:



Phương pháp giải:

Chu vi hình tam giác ABC bằng tổng độ dài ba cạnh AB; BC và AC.

Lời giải chi tiết:

Chu vi hình tam giác ABC là:

$$300 + 400 + 200 = 900 \text{ (cm)}$$

Đáp số: 900 cm.

▶▶ **CLICK NGAY** vào nút **TẢI VỀ** dưới đây để tải về **Giải Toán lớp 2 SGK Tập 2 trang 157: Luyện tập phép cộng không nhớ trong phạm vi 1000 chính xác** file PDF hoàn toàn miễn phí.