


Nội dung bài viết

1. [Giải Bài 1 trang 114 SGK Toán lớp 2 Tập 2](#)
2. [Giải Bài 2 trang 114 SGK Toán lớp 2 Tập 2](#)
3. [Giải Bài 3 trang 114 SGK Toán lớp 2 Tập 2](#)


Mời các em học sinh và quý thầy cô tham khảo **hướng dẫn Giải Toán lớp 2 SGK Tập 2 trang 114: Một phần ba chính xác** được đội ngũ chuyên gia biên soạn đầy đủ và ngắn gọn dưới đây.

*Gải Bài 1 trang 114 SGK Toán lớp 2 Tập 2*

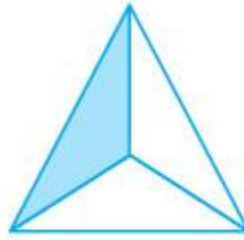
**Đã tô màu  $\frac{1}{3}$  hình nào ?**



A



B



C



D

**Phương pháp giải:**

Chọn hình được chia thành 3 phần bằng nhau và đã tô màu một phần.

**Lời giải chi tiết:**

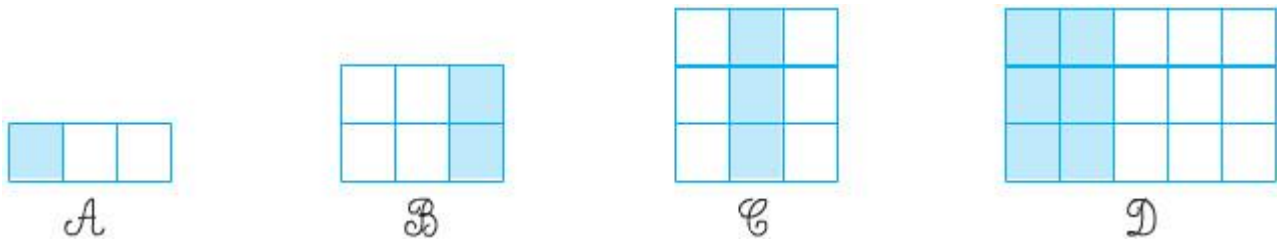
Đã tô màu vào  $\frac{1}{3}$  hình A (hình vuông).

Đã tô màu vào  $\frac{1}{3}$  hình C (hình tam giác).

Đã tô màu vào  $\frac{1}{3}$  hình D (hình tròn).

*Gải Bài 2 trang 114 SGK Toán lớp 2 Tập 2*

**Hình nào có  $\frac{1}{3}$  số ô vuông được tô màu ?**



**Phương pháp giải:**

- Đếm số ô vuông trong các hình đã cho rồi chia cho 3.
- Chọn hình có số ô vuông đã tô màu bằng kết quả phép chia vừa tìm được.


**Lời giải chi tiết:**

Hình A, hình B, hình C có  $\frac{1}{3}$  số ô vuông được tô màu.


**Giải Bài 3 trang 114 SGK Toán lớp 2 Tập 2**

**Hình nào đã khoanh vào  $\frac{1}{3}$  số con gà ?**

a)



b)



**Phương pháp giải:**

- Đếm số con gà có trong hình rồi chia cho 3.
- Chọn hình có số gà đã khoanh bằng với kết quả phép chia vừa tìm được.

**Lời giải chi tiết:**

Hình b là hình đã khoanh vào  $\frac{1}{3}$  số con gà.

►► **CLICK NGAY** vào nút **TẢI VỀ** dưới đây để tải về **Giải Toán lớp 2 SGK Tập 2 trang 114: Một phần ba chính xác** file PDF hoàn toàn miễn phí.

