

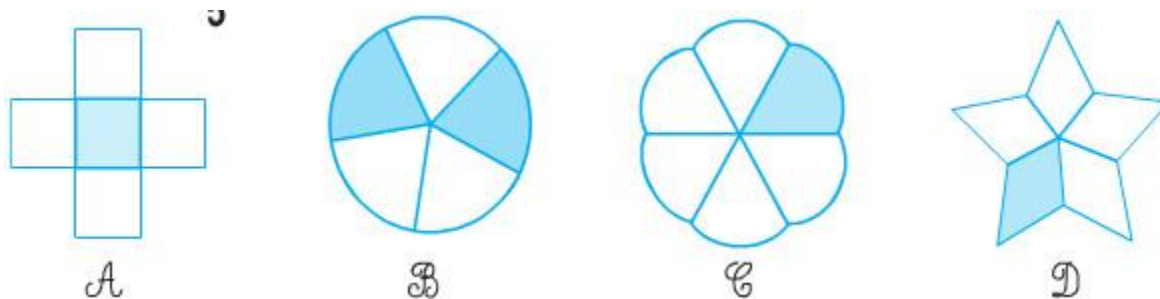
Nội dung bài viết

1. [Giải Bài 1 trang 122 SGK Toán lớp 2 Tập 2](#)
2. [Giải Bài 2 trang 122 SGK Toán lớp 2 Tập 2](#)
3. [Giải Bài 3 trang 122 SGK Toán lớp 2 Tập 2](#)

Mời các em học sinh và quý thầy cô tham khảo **hướng dẫn Giải Toán lớp 2 SGK Tập 2 trang 122: Một phần năm chính xác** được đội ngũ chuyên gia biên soạn đầy đủ và ngắn gọn dưới đây.

Giải Bài 1 trang 122 SGK Toán lớp 2 Tập 2

Đã tô màu $\frac{1}{5}$ hình nào ?



Phương pháp giải:

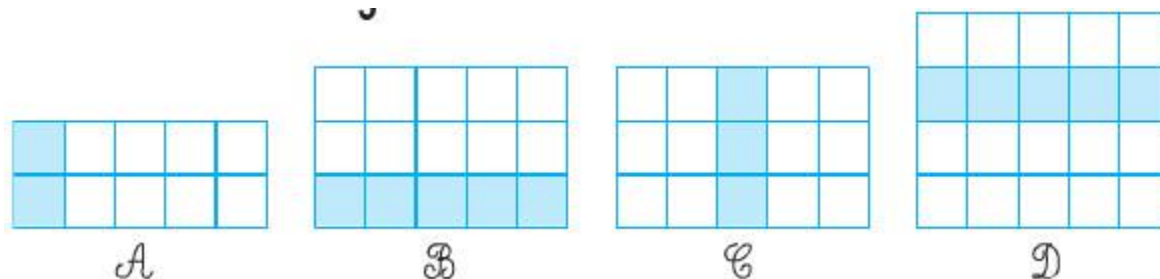
Chọn hình nào có 5 phần bằng nhau và có một phần đã tô màu.

Giải chi tiết:

Đã tô màu $\frac{1}{5}$ của hình A, hình D.

Giải Bài 2 trang 122 SGK Toán lớp 2 Tập 2

Hình nào đã tô màu $\frac{1}{5}$ số ô vuông ?



Phương pháp giải:

- Đếm số ô vuông có trong mỗi hình và tìm $\frac{1}{5}$ số ô vuông đó.

- Đếm số ô vuông đã tô, nếu bằng với giá trị vừa tính được thì hình đó có $\frac{1}{5}$ số ô vuông đã được tô màu.

Giải chi tiết:

Hình A có 1010 ô vuông.

Ta có: $10:5=2$ và hình A có đúng 2 ô vuông được tô màu,

Hình B có 15 ô vuông.

Ta có: $15:5=3$ nhưng hình B đang có 3 ô vuông được tô màu.

Hình C có 20 ô vuông.

Ta có: $20:5=4$ và hình C có đúng 4 ô vuông được tô màu.


Hình D có 40 ô vuông.

Ta có: $40:5=8$ mà hình đã tô màu 5 ô vuông.

Vậy hình A và hình C là hình đã tô màu $\frac{1}{5}$ số ô vuông.

Giải Bài 3 trang 122 SGK Toán lớp 2 Tập 2

Hình nào đã khoanh $\frac{1}{5}$ số con vịt ?



Phương pháp giải:

- Đếm số vịt trong mỗi hình rồi tìm $\frac{1}{5}$ của số đó.
- Chọn đáp án là hình khoanh đúng số vịt bằng số vừa tìm được.

Giải chi tiết:

Hai hình có 1010 con vịt.

Ta có: $10:5=210:5=2$ con vịt.

Vậy hình a đã khoanh $\frac{1}{5}$ số con vịt.

►► **CLICK NGAY** vào nút **TẢI VỀ** dưới đây để tải về **Giải Toán lớp 2 SGK Tập 2 trang 122: Một phần năm chính xác** file PDF hoàn toàn miễn phí.