

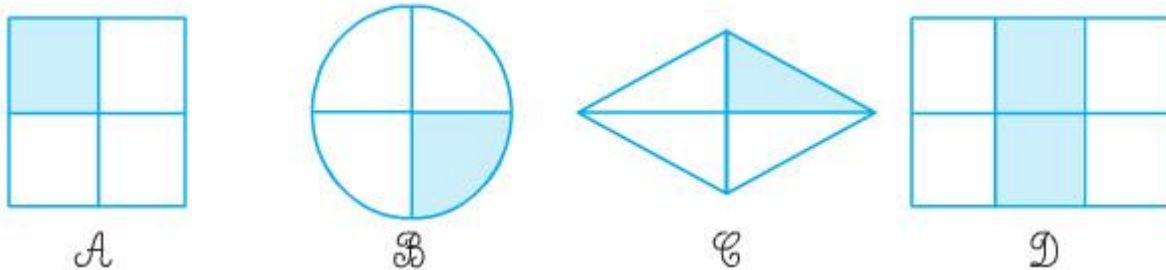
Nội dung bài viết

1. [Giải Bài 1 trang 119 SGK Toán lớp 2 Tập 2](#)
2. [Giải Bài 2 trang 119 SGK Toán lớp 2 Tập 2](#)
3. [Giải Bài 3 trang 119 SGK Toán lớp 2 Tập 2](#)

Mời các em học sinh và quý thầy cô tham khảo **hướng dẫn Giải Toán lớp 2 SGK Tập 2 trang 119: Một phần tư chính xác** được đội ngũ chuyên gia biên soạn đầy đủ và ngắn gọn dưới đây.

Giải Bài 1 trang 119 SGK Toán lớp 2 Tập 2

Đã tô màu $\frac{1}{4}$ hình nào ?



Phương pháp giải:

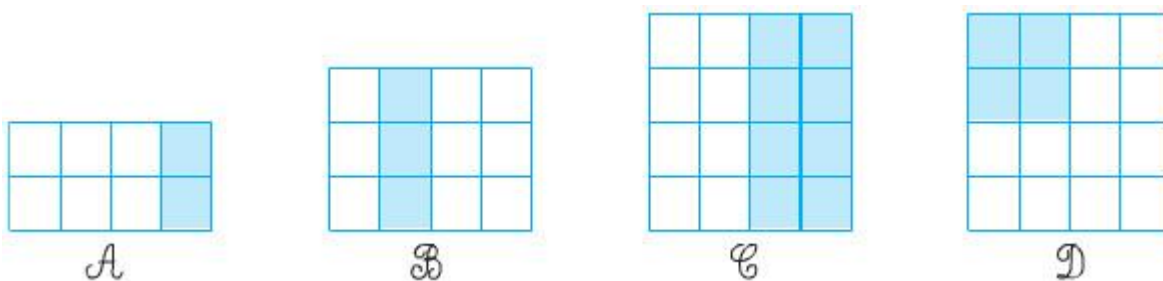
Tìm hình nào được chia thành bốn phần bằng nhau và có một phần đã tô màu.

Giải chi tiết:

Đã tô màu $\frac{1}{4}$ hình A, hình B, hình C.

Giải Bài 2 trang 119 SGK Toán lớp 2 Tập 2

Hình nào có $\frac{1}{4}$ số ô vuông đã được tô màu ?



Phương pháp giải:

- Bước 1: Đếm số ô vuông có trong hình.
- Bước 2: Tìm $\frac{1}{4}$ số ô vuông trong mỗi hình bằng cách lấy số vừa đếm được chia cho 4.
- Bước 3: Đếm số ô vuông đã tô màu, nếu bằng với số vừa tìm được ở bước hai thì hình đó đã có $\frac{1}{4}$ số ô vuông được tô màu.

Giải chi tiết:

Hình A: Có 88 ô vuông.

Ta có: $88:4=22$ mà hình có 22 ô vuông đã tô màu.

Vậy hình A đã có $\frac{1}{4}$ số ô vuông được tô màu.

Hình B: Có 1212 ô vuông.

Có: $1212:4=303$ và trong hình đang có 33 ô vuông được tô màu.

Vậy hình B đã có $\frac{1}{4}$ số ô vuông được tô màu.

Hình C có 1616 ô vuông.

Ta có: $1616:4=404$ và trong hình đang có 8 ô vuông được tô màu.

Vậy hình C không có $\frac{1}{4}$ số ô vuông được tô màu.

Hình D có 1616 ô vuông.

Ta có: $1616:4=404$ và trong hình đang có 4 ô vuông được tô màu.


Vậy hình D có $\frac{1}{4}$ số ô vuông đã được tô màu.

Kết luận: Hình A; B; D là các hình đã tô màu $\frac{1}{4}$ số ô vuông


Giải Bài 3 trang 119 SGK Toán lớp 2 Tập 2

Hình nào đã khoanh vào $\frac{1}{4}$ số con thỏ:

a)



b)

**Phương pháp giải:**

- Đếm số thỏ có trong hình rồi tìm $\frac{1}{4}$ của số đó.

- Đếm số thỏ đã khoanh, nếu bằng với giá trị vừa tìm được ở bước trên thì hình đó đã khoanh vào $\frac{1}{4}$ số con thỏ.

Giải chi tiết:

Trong hai hình đều có 88 con thỏ.

Ta có: $8:4=28:4=2$

Mà hình A có 22 con thỏ được khoanh; hình B có 44 con thỏ được khoanh.

Vậy hình A đã khoanh vào $\frac{1}{4}$ số con thỏ.

►► **CLICK NGAY** vào nút **TẢI VỀ** dưới đây để tải về **Giải Toán lớp 2 SGK Tập 2 trang 119: Một phần tư chính xác** file PDF hoàn toàn miễn phí.