

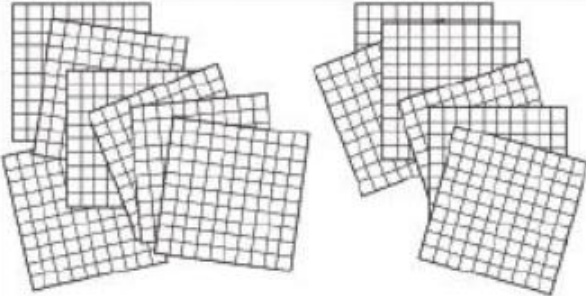
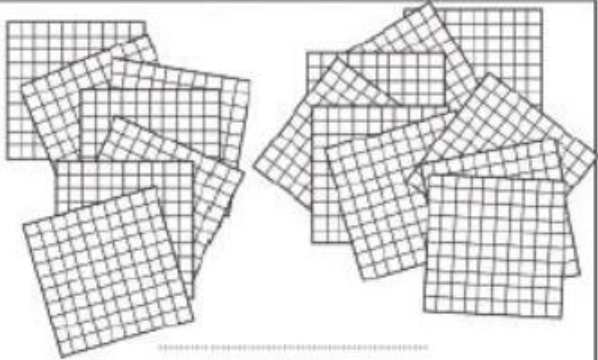
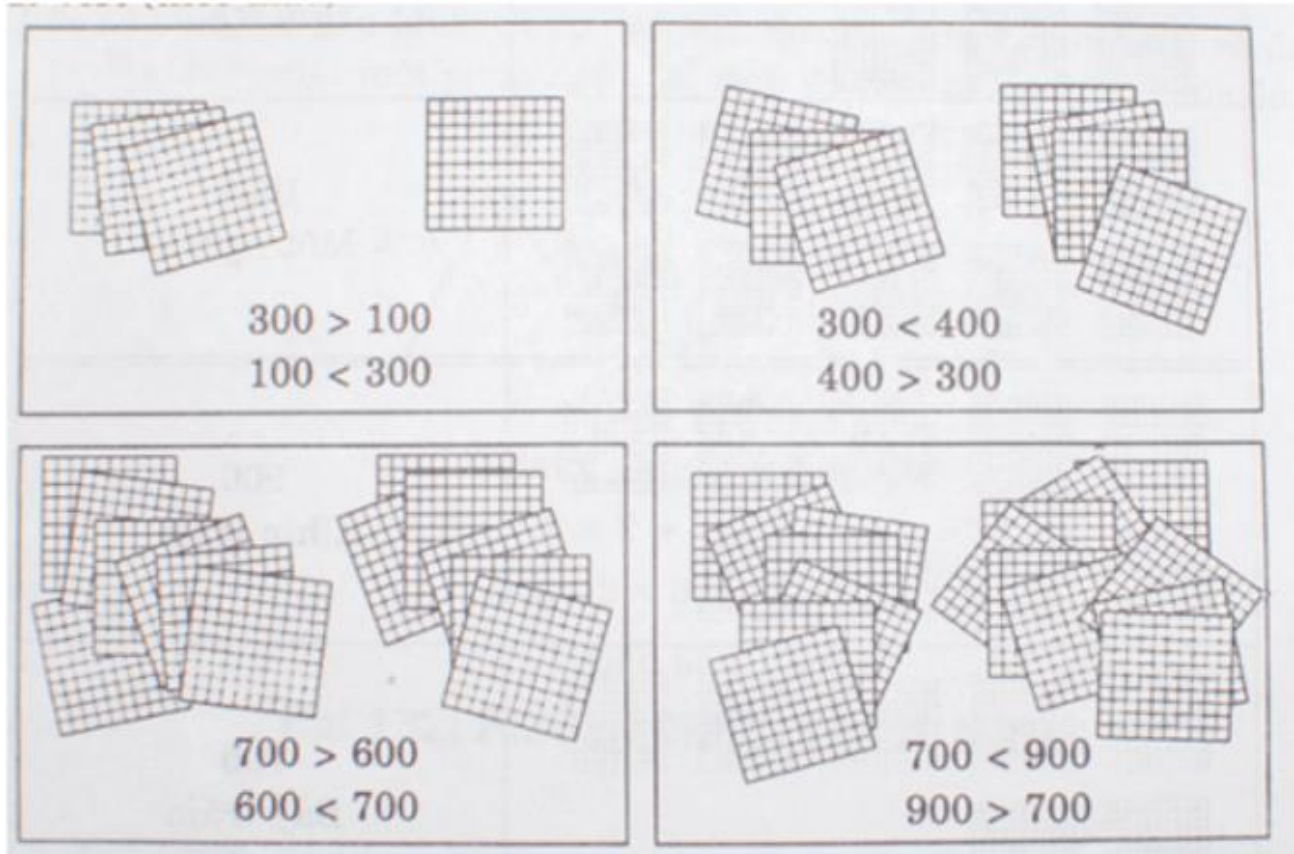


Bài 133: SO SÁNH CÁC SỐ TRÒN TRĂM*Giải Bài 133 trang 57 VBT Toán lớp 2 Tập 2***Giải câu 1. Viết (theo mẫu) :**

 $300 > 100$ $100 < 300$	
	

Lời giải:



Giải câu 2. Điền >, <, =

400.....600

500.....700

600.....400

700.....500

500.....800

400.....400

1000.....900

900.....1000

300.....500

600.....500

200.....200

500.....200

Lời giải:

$400 < 600$

$500 < 700$

$600 > 400$

$700 > 500$

$500 < 800$

$400 = 400$

$1000 > 900$

$900 < 1000$

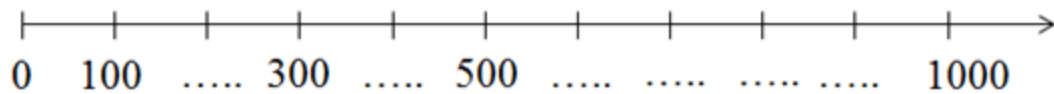
$300 < 500$

$600 > 500$

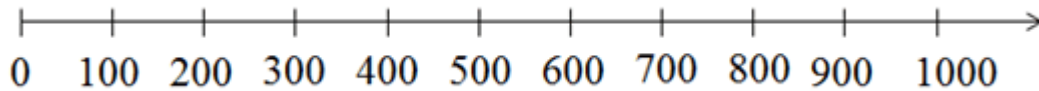
$200 = 200$

$500 > 200$

Giải câu 3. Số ?



Lời giải:



Giải câu 4. Khoanh tròn vào số lớn nhất :

a) 800; 500; 900; 700; 400.

b) 300; 500; 600; 800; 1000.

Lời giải:

a) 800; 500; **(900)**; 700; 400.

b) 300; 500; 600; 800; **(1000)**