




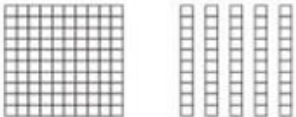





**Bài 134: CÁC SỐ TRÒN CHỤC TỪ 110 ĐẾN 200**

*Giải Bài 134 trang 58 VBT Toán lớp 2 Tập 2*

**Giải câu 1. Viết (theo mẫu) :**

	<p>130 một trăm ba mươi</p>
	<p>170 .....</p>
	<p>..... .....</p>
	<p>..... .....</p>
	<p>..... .....</p>
	<p>..... .....</p>
	<p>..... .....</p>
	<p>..... .....</p>
	<p>..... .....</p>

**Lời giải:**

	130 Một trăm ba mươi
	170 Một trăm bảy mươi
	160 Một trăm sáu mươi
	180 Một trăm tám mươi
	110 Một trăm mười
	150 Một trăm năm mươi
	190 Một trăm chín mươi
	120 Một trăm hai mươi
	200 Hai trăm

**Giải câu 2. Viết (theo mẫu) :**

Viết số	Đọc số
<b>130</b>	<b>một trăm ba mươi</b>
120	
150	
170	
140	



Viết số	Đọc số
180	
110	
160	
190	
200	

**Lời giải:**

Viết số	Đọc số
130	một trăm ba mươi
120	một trăm hai mươi
150	một trăm năm mươi
170	một trăm bảy mươi
140	một trăm bốn mươi


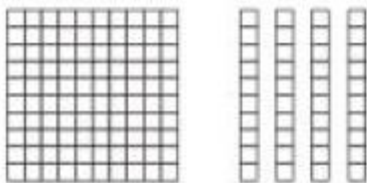
Viết số	Đọc số
180	một trăm tám mươi
110	một trăm mười
160	một trăm sáu mươi
190	một trăm chín mươi
200	hai trăm

**Giải câu 3. Viết (theo mẫu)**



$$130 > 110$$

$$110 < 130$$



.....


.....



.....

.....

Lời giải:



Giải câu 4. Điền >, <, =

- |             |             |             |
|-------------|-------------|-------------|
| 150.....170 | 180.....190 | 160.....130 |
| 160.....140 | 150.....150 | 180.....200 |
| 120.....170 | 190.....130 | 110.....140 |

Lời giải:

$150 < 170$

$180 < 190$

$160 > 130$

$160 > 140$

$150 = 150$

$180 < 200$

$120 < 170$

$190 > 130$

$110 < 140$

**Giải câu 5. Số ?**

a) 100 ; 110 ; ... ; 130 ; ... ; 150 ; ... ; ... ; ... ; 190 ; ... .

b) 200 ; 190 ; 180 ; ... ; 160 ; ... ; 140 ; ... ; 120 ; ... ; ... .

**Lời giải:**

a) 100 ; 110 ; 120 ; 130 ; 140 ; 150 ; 160 ; 170 ; 180 ; 190 ; 200 .

b) 200 ; 190 ; 180 ; 170 ; 160 ; 150 ; 140 ; 130 ; 120 ; 110 ; 100 .