











Bài 135: CÁC SỐ TỪ 101 ĐẾN 110

Giải Bài 135 trang 60 VBT Toán lớp 2 Tập 2

Giải câu 1. Viết (theo mẫu) :

	<p>103 một trăm linh ba</p>
	<p>104</p>
	<p>.....</p>
	<p>.....</p>
	<p>.....</p>
	<p>.....</p>
	<p>.....</p>
	<p>.....</p>
	<p>.....</p>
	<p>.....</p>

a)

b)

Viết số	Đọc số
105	một trăm linh năm
102	
104	
	một trăm linh chín
107	
	một trăm linh tám
110	
106	
	một trăm linh một
	một trăm linh ba

Lời giải:

a)

a)

	103 một trăm linh ba
	104 một trăm linh bốn
	101 một trăm linh một
	102 một trăm linh hai
	105 một trăm linh năm
	109 một trăm linh chín
	108 một trăm linh tám
	110 một trăm mười
	107 một trăm linh bảy
	106 một trăm linh sáu

b)

Viết số	Đọc số
105	một trăm linh năm
102	một trăm linh hai
104	một trăm linh bốn
109	một trăm linh chín
107	một trăm linh bảy
108	một trăm linh tám
110	một trăm mười
106	một trăm linh sáu
101	một trăm linh một
103	một trăm linh ba

Giải câu 2. Điền >, <, =

102.....103

102.....102

104.....103

109.....110

107.....106

107.....108

101.....102

100.....100

Lời giải:

$$102 < 103$$

$$102 = 102$$

$$104 > 103$$

$$109 < 110$$

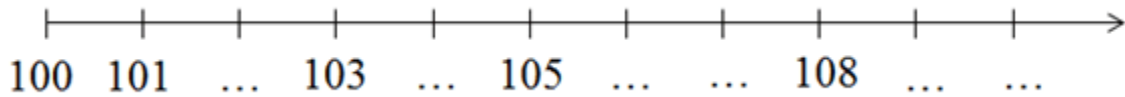
$$107 > 106$$

$$107 < 108$$

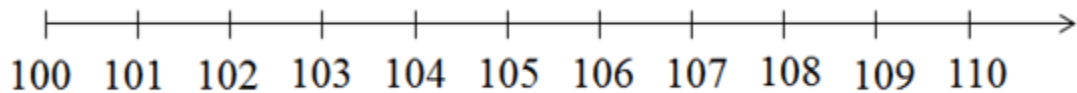
$$101 < 102$$

$$100 = 100$$

Giải câu 3. Số



Lời giải:



Giải câu 4.

a)Viết các số 108 ; 109 ; 105 ; 103 theo thứ tự từ bé đến lớn :

.....

b)Viết các số 106 ; 101 ; 104 ; 102 theo thứ tự từ lớn đến bé :

.....

Lời giải:

a) Viết các số 108 ; 109 ; 105 ; 103 theo thứ tự từ bé đến lớn :

103105 ; 108 ; 109.

b) Viết các số 106 ; 101 ; 104 ; 102 theo thứ tự từ lớn đến bé :

106 ; 104 ; 102 ; 101.