

Nội dung bài viết

1. [Hướng dẫn Giải Toán lớp 2 SGK Tập 2 trang 105, 106: Luyện tập chung chính xác](#)

Mời các em học sinh và quý thầy cô tham khảo **hướng dẫn Giải Toán lớp 2 SGK Tập 2 trang 105, 106: Luyện tập chung chính xác** được đội ngũ chuyên gia biên soạn đầy đủ và ngắn gọn dưới đây.

Hướng dẫn Giải Toán lớp 2 SGK Tập 2 trang 105, 106: Luyện tập chung chính xác

Bài 1:

Tính nhẩm:

$$2 \times 6 = 2 \times 8 = 5 \times 9 = 3 \times 5 =$$

$$3 \times 6 = 3 \times 8 = 2 \times 9 = 4 \times 5 =$$

$$4 \times 6 = 4 \times 8 = 4 \times 9 = 2 \times 5 =$$

$$5 \times 6 = 5 \times 8 = 3 \times 9 = 5 \times 5 =$$

Phương pháp giải:

Nhẩm giá trị của các phép nhân trong phạm vi đã học rồi điền kết quả vào chỗ trống.

Lời giải chi tiết:

$$2 \times 6 = 12 \quad 2 \times 8 = 16 \quad 5 \times 9 = 45 \quad 3 \times 5 = 15$$

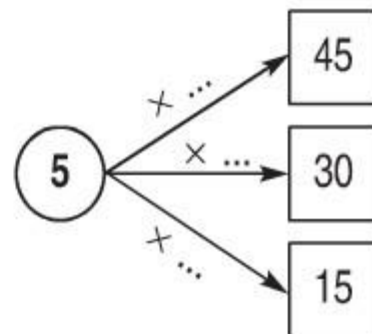
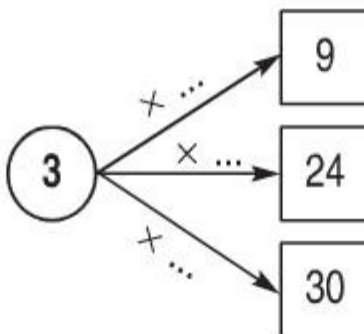
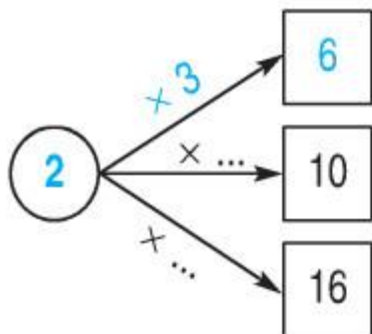
$$3 \times 6 = 18 \quad 3 \times 8 = 24 \quad 2 \times 9 = 18 \quad 4 \times 5 = 20$$

$$4 \times 6 = 24 \quad 4 \times 8 = 32 \quad 4 \times 9 = 36 \quad 2 \times 5 = 10$$

$$5 \times 6 = 30 \quad 5 \times 8 = 40 \quad 3 \times 9 = 27 \quad 5 \times 5 = 25$$

Bài 2:

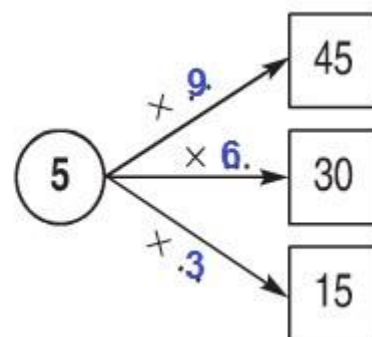
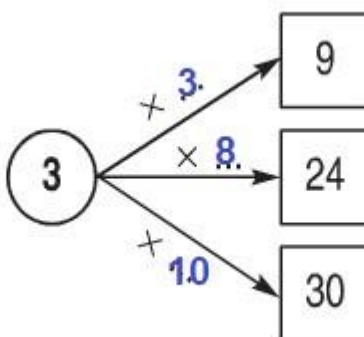
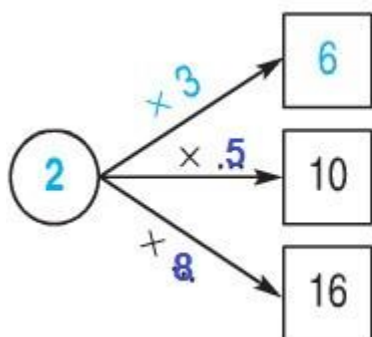
Viết số thích hợp vào chỗ trống theo mẫu



Phương pháp giải:

Nhẩm lại các phép nhân trong phạm vi đã học để tìm thừa số còn thiếu.

Lời giải chi tiết:



Bài 3:

- a) $5 \times 5 + 6 =$ b) $4 \times 8 - 17 =$
- c) $2 \times 9 - 18 =$ d) $3 \times 7 + 29 =$

Phương pháp giải:

- Tìm giá trị của các phép nhân.
- Lấy số vừa tìm được cộng hoặc trừ với các số còn lại.

Lời giải chi tiết:

- a) $5 \times 5 + 6 = 25 + 6 = 31$ b) $4 \times 8 - 17 = 32 - 17 = 15$
- c) $2 \times 9 - 18 = 18 - 18 = 0$ d) $3 \times 7 + 29 = 21 + 29 = 50$

Bài 4:

Mỗi đôi đũa có 2 chiếc đũa. Hỏi 7 đôi đũa có bao nhiêu chiếc đũa?

Phương pháp giải:

Muốn tìm số chiếc đũa ta lấy số chiếc của một đôi nhân với số đôi.

Lời giải chi tiết:

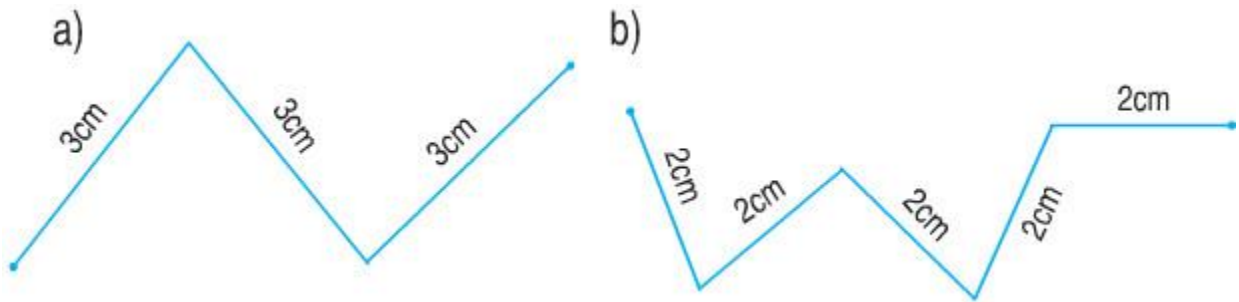
7 đôi đũa có số chiếc đũa là:

$$2 \times 7 = 14 \text{ (chiếc đũa)}$$

Đáp số: 14 chiếc đũa.

Bài 5:

Tính độ dài mỗi đường gấp khúc sau:

**Phương pháp giải:**

Tính tổng độ dài các đoạn thẳng đã cho.

Lời giải chi tiết:

a) Độ dài đường gấp khúc là:

$$3 + 3 + 3 = 9$$

Đáp số: 9cm.

b) Độ dài đường gấp khúc là:

$$2 + 2 + 2 + 2 + 2 = 10 \text{ (cm)}$$

Đáp số: 10cm.

►► **CLICK NGAY** vào nút **TẢI VỀ** dưới đây để tải về **Giải Toán lớp 2 SGK Tập 2 trang 105, 106: Luyện tập chung chính xác** file PDF hoàn toàn miễn phí.

