

Nội dung bài viết

1. [Giải bài: Ôn tập hình học và đo lường Vở bài tập Toán 2 Tập 1 - Chân trời sáng tạo](#)
 - 1.1. [Giải bài 1 trang 132 VBT Toán 2](#)
 - 1.2. [Giải bài 2 trang 132 VBT Toán 2](#)
 - 1.3. [Giải bài 3 trang 132 VBT Toán 2](#)
 - 1.4. [Giải bài 4 trang 132 VBT Toán 2](#)
 - 1.5. [Giải bài 5 trang 132 VBT Toán 2](#)
 - 1.6. [Giải bài 6 trang 132 VBT Toán 2](#)
 - 1.7. [Giải bài 7 trang 132 VBT Toán 2](#)
 - 1.8. [Giải bài 8 trang 132 VBT Toán 2](#)

Giải bài: Ôn tập hình học và đo lường Vở bài tập Toán 2 Tập 1 - Chân trời sáng tạo

Giải bài 1 trang 132 VBT Toán 2

Đúng ghi đ, sai ghi s

1 dm = 10 cm 20 cm = 2 dm

5 dm < 25 cm 30 cm > 1 dm

Lời giải

1 dm = 10 cm đ 20 cm = 2 dm đ

5 dm < 25 cm s 30 cm > 1 dm đ

Giải bài 2 trang 132 VBT Toán 2

cm hay dm?

- a) Bàn học của em dài 45
- b) Cửa lớp cao khoảng 20
- c) Gang tay của em dài khoảng 15
- d) Chiều dài bảng lớp đo được 30

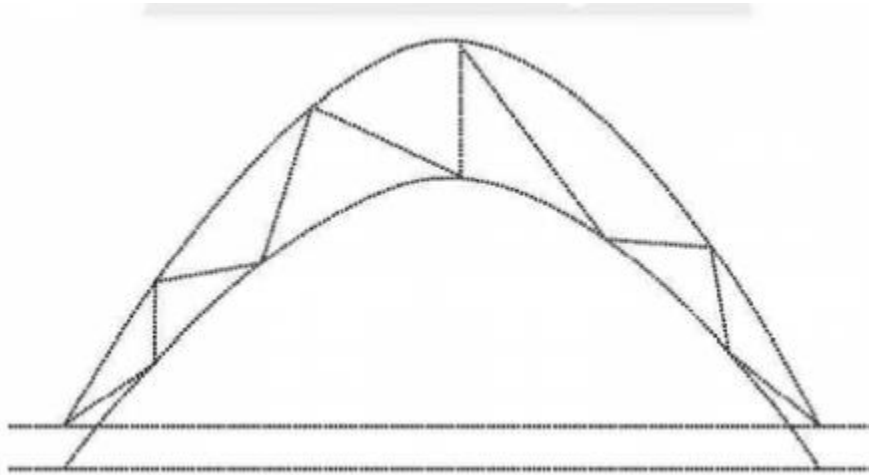
Lời giải

- a) Bàn học của em dài 45 cm
- b) Cửa lớp cao khoảng 20 dm
- c) Gang tay của em dài khoảng 15 cm
- d) Chiều dài bảng lớp đo được 30 dm

Giải bài 3 trang 132 VBT Toán 2

Quan sát hình vẽ

Tô màu đỏ cho đường thẳng, màu xanh lá cho đường cong và màu xanh dương cho đường gấp khúc.



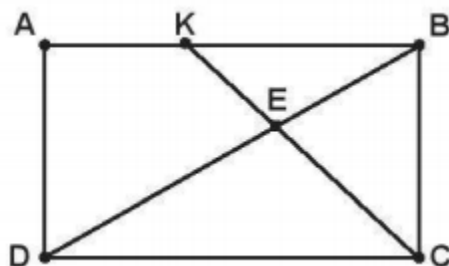
Lời giải

Học sinh tự tô màu

Giải bài 4 trang 132 VBT Toán 2

Quan sát hình vẽ

Ba điểm nào thẳng hàng?



Lời giải

Ba điểm thẳng hàng là:

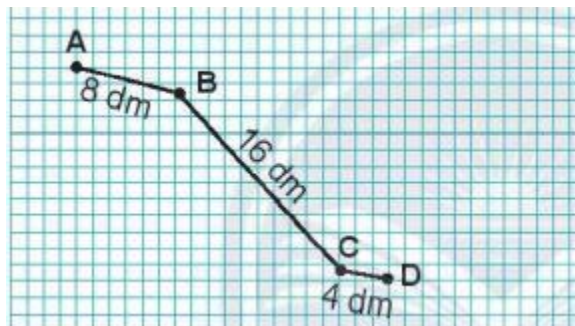
A, K, B

D, E, B

K, E, C

Giải bài 5 trang 132 VBT Toán 2

Tính độ dài đường gấp khúc ABCD

**Lời giải**

Độ dài đường gấp khúc ABCD là:

$$8 + 16 + 4 = 28 \text{ (dm)}$$

Giải bài 6 trang 132 VBT Toán 2

Số?

Tháng 4						2022
Thứ Hai	Thứ Ba	Thứ Tư	Thứ Năm	Thứ Sáu	Thứ Bảy	Chủ nhật
				1	2	3
4	5	6	7	8	9	10
11	12	13	14	15	16	17
18	19	20	21	22	23	24
25	26	27	28	29	30	

- Tháng 4 có ngày, có ngày Chủ nhật

Đó là những ngày:

- Thứ Sáu đầu tiên của tháng 4 là ngày

Lời giải

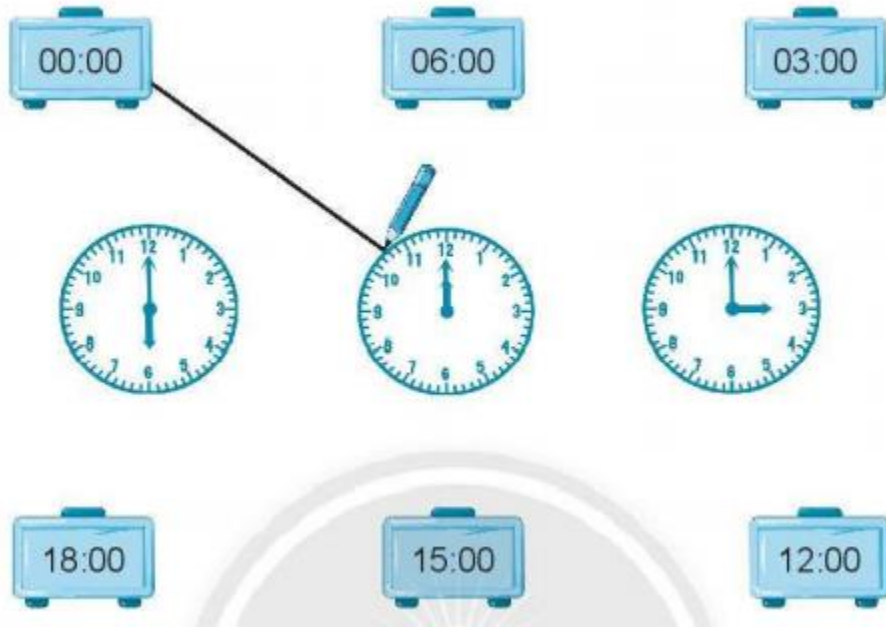
- Tháng 4 có 30 ngày, có 4 ngày Chủ nhật.

Đó là những ngày: 3; 10; 17; 24.

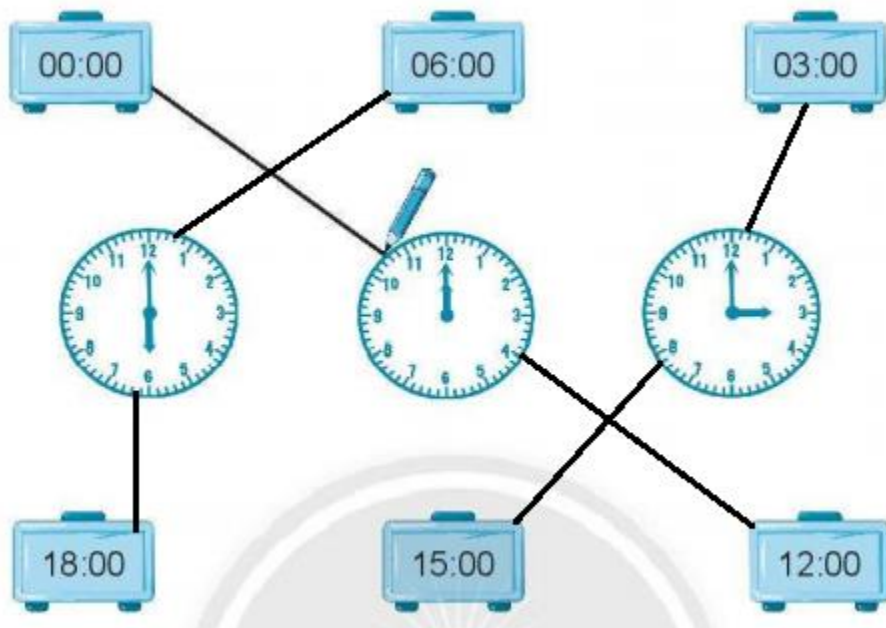
- Thứ Sáu đầu tiên của tháng 4 là ngày 1.

Giải bài 7 trang 132 VBT Toán 2

Nói (theo mẫu)



Lời giải



Giải bài 8 trang 132 VBT Toán 2

Thùng gỗ đựng được nhiều hơn xô 25 l nước. Hỏi thùng gỗ đựng được bao nhiêu lít nước?

**Lời giải**

Số lít nước thùng gỗ đựng được là:

$$25 + 8 = 33 \text{ (lít)}$$

Đáp số: 33 lít nước