

**Bài 152: LUYỆN TẬP CHUNG**

*Giải Bài 152 trang 81 VBT Toán lớp 2 Tập 2*

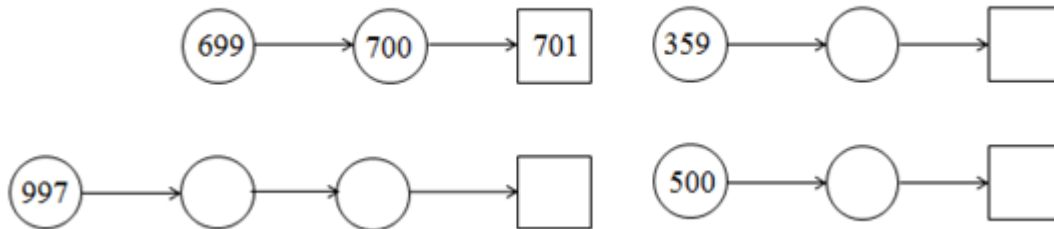
**Giải câu 1. Viết (theo mẫu) :**

Đọc số	Viết số	Trăm	Trục	Đơn vị
Năm trăm mười bảy	517	5	1	7
Hai trăm tám mươi lăm				
	934			
		2	0	8
		7	2	0

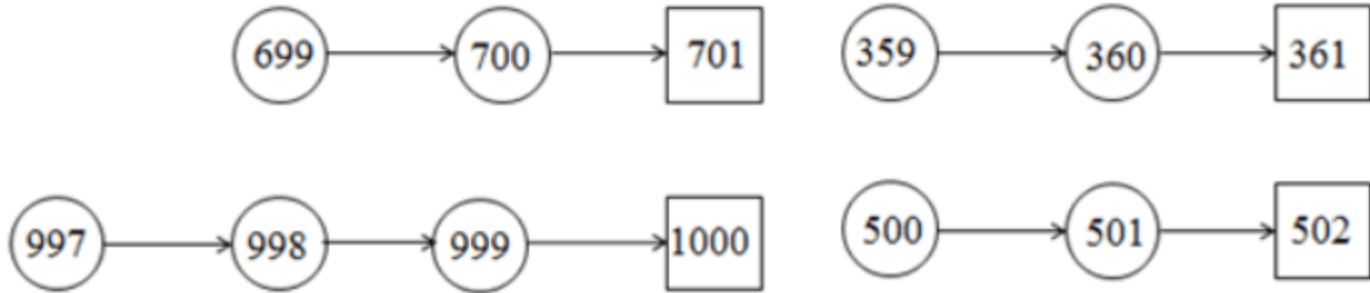
**Lời giải:**

Đọc số	Viết số	Trăm	Trục	Đơn vị
Năm trăm mười bảy	517	5	1	7
Hai trăm tám mươi lăm	285	2	8	5
Chín trăm ba mươi tư	934	9	3	4
Hai trăm linh tám	208	2	0	8
Bảy trăm hai mươi	720	7	2	0

**giải câu 2. Số ?**



**Lời giải:**



Giải câu 3 3. 

>
<
=

 ?

624.....542  
398.....399  
830.....829

400 + 50 + 7.....457  
700 + 35.....753  
1000.....999

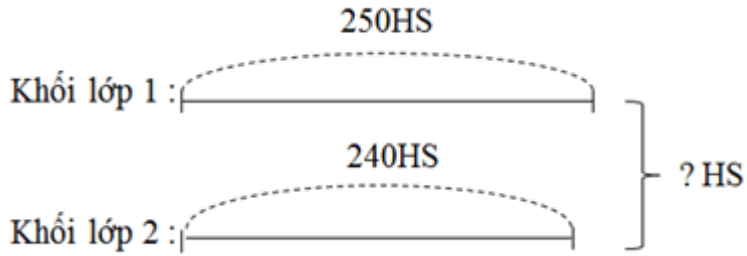
Lời giải:

624 > 542  
398 < 399  
830 > 829

400 + 50 + 7 = 457  
700 + 35 < 753  
1000 > 999

Giải câu 4. Khối lớp 1 có 250 học sinh, khối lớp 2 có 240 học sinh. Hỏi cả hai khối lớp có bao nhiêu học sinh ?

Tóm tắt


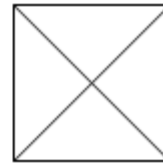
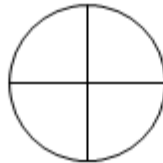
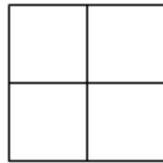
**Lời giải:**

Cả hai khối lớp có số học sinh là :

$$250 + 240 = 490 \text{ (học sinh)}$$

Đáp số : 490 học sinh

**Giải câu 5. Tô màu 1/4 mỗi hình sau :**

**Lời giải:**

