

BÀI 158: ÔN TẬP VỀ PHÉP CỘNG VÀ PHÉP TRỪ (tiếp theo)*Giải Bài 158 trang 90 VBT Toán lớp 2 Tập 2***Giải câu 1. Tính nhẩm:**

$$\begin{array}{lll} 7 + 8 = \dots & 400 + 300 = \dots & 500 + 400 = \dots \\ 8 + 7 = \dots & 300 + 400 = \dots & 400 + 500 = \dots \\ 15 - 7 = \dots & 700 - 400 = \dots & 900 - 500 = \dots \\ 15 - 8 = \dots & 700 - 300 = \dots & 900 - 400 = \dots \end{array}$$

Lời giải:

$$\begin{array}{lll} 7 + 8 = 15 & 400 + 300 = 700 & 500 + 400 = 900 \\ 8 + 7 = 15 & 300 + 400 = 700 & 400 + 500 = 900 \\ 15 - 7 = 8 & 700 - 400 = 300 & 900 - 500 = 400 \\ 15 - 8 = 7 & 700 - 300 = 400 & 900 - 400 = 500 \end{array}$$

Giải câu 2. Đặt tính rồi tính:

$$\begin{array}{r} 58 + 29 \\ \dots\dots\dots \\ \dots\dots\dots \\ \dots\dots\dots \end{array} \qquad \begin{array}{r} 185 - 65 \\ \dots\dots\dots \\ \dots\dots\dots \\ \dots\dots\dots \end{array}$$

$$\begin{array}{r} 27 + 65 \\ \dots\dots\dots \\ \dots\dots\dots \\ \dots\dots\dots \end{array} \qquad \begin{array}{r} 92 - 87 \\ \dots\dots\dots \\ \dots\dots\dots \\ \dots\dots\dots \end{array}$$

$$246 + 513$$

$$88 - 357$$

.....

.....

.....

$$432 + 56$$

$$564 - 44$$

.....

.....

.....

Lời giải:

$\begin{array}{r} 58 \\ + 29 \\ \hline 87 \end{array}$	$\begin{array}{r} 185 \\ - 65 \\ \hline 120 \end{array}$	$\begin{array}{r} 27 \\ + 65 \\ \hline 92 \end{array}$	$\begin{array}{r} 92 \\ - 87 \\ \hline 5 \end{array}$
$\begin{array}{r} 246 \\ + 513 \\ \hline 759 \end{array}$	$\begin{array}{r} 888 \\ - 357 \\ \hline 531 \end{array}$	$\begin{array}{r} 432 \\ + 56 \\ \hline 488 \end{array}$	$\begin{array}{r} 564 \\ - 44 \\ \hline 520 \end{array}$

Giải câu 3. Tìm x:

a) $x - 45 = 32$

.....

b) $x + 24 = 86$

.....

c) $70 - x = 30$

.....

Lời giải:

$$x - 45 = 32$$

$$\text{a) } x = 32 + 45$$

$$x = 77$$

$$x + 24 = 86$$

$$x = 86 - 24$$

$$x = 62$$

b)

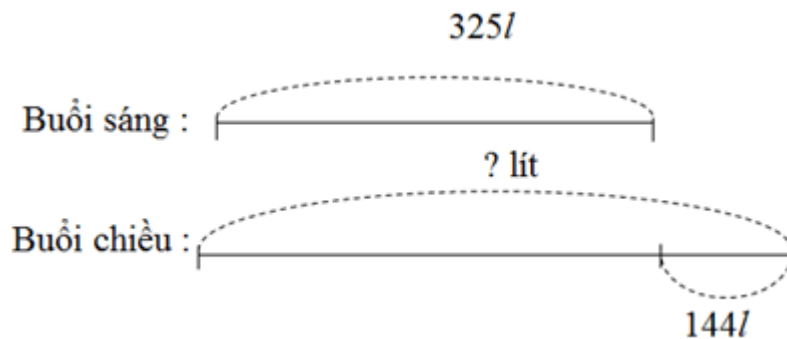
$$70 - x = 30$$

$$\text{c) } x = 70 - 30$$

$$x = 40$$

Giải câu 4. Một cửa hàng buổi sáng bán được 325l dầu, buổi chiều bán được nhiều hơn buổi sáng 144l dầu. Hỏi buổi chiều cửa hàng đó bán được bao nhiêu lít dầu?

Tóm tắt



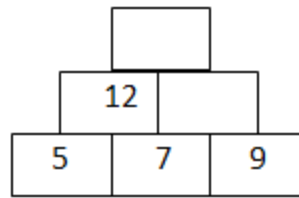
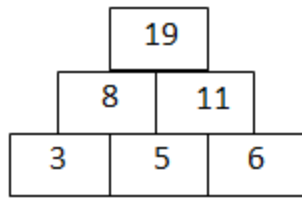
Lời giải:

Số lít dầu bán trong buổi chiều là:

$$325 + 144 = 469 \text{ (lít)}$$

Đáp số: 469 lít

Giải câu 5. Lập tháp số (theo mẫu)



Lời giải:

