
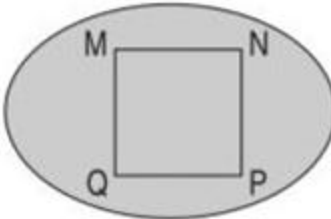

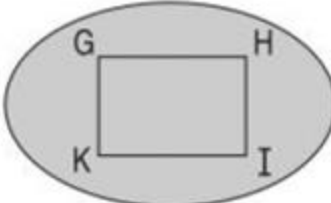
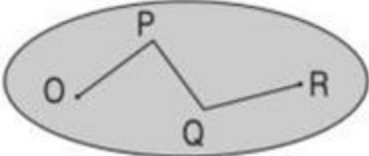
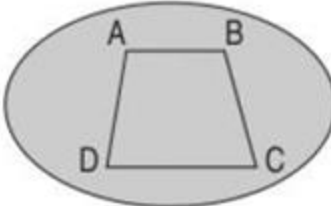
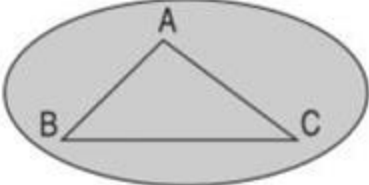



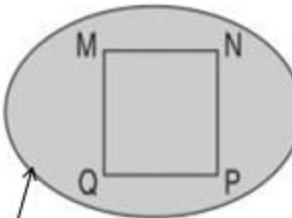

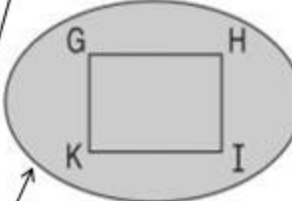
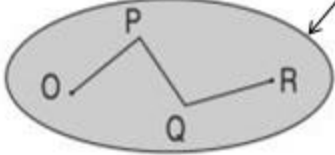
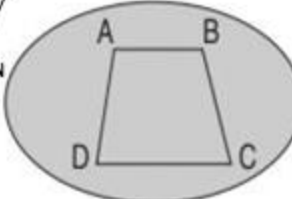
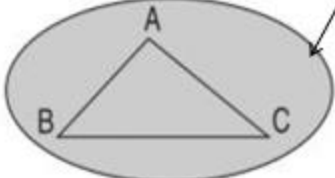
Bài 163: ÔN TẬP HÌNH HỌC

Giải Bài 163 trang 96 VBT Toán lớp 2 Tập 2

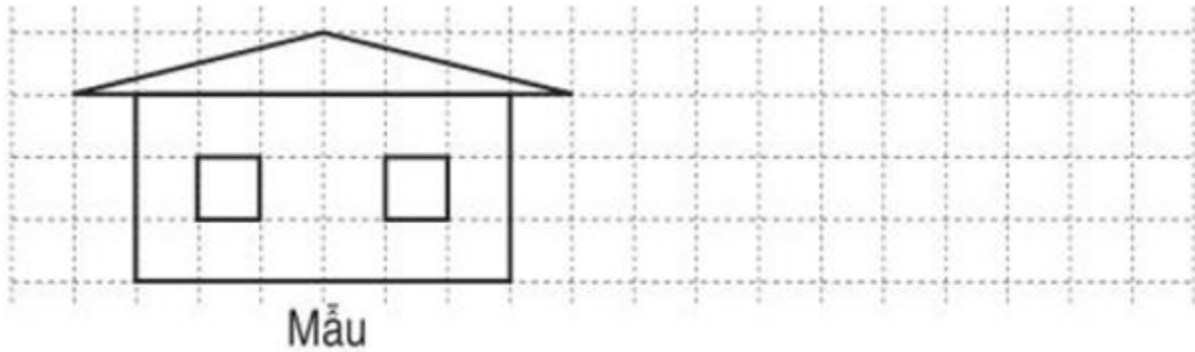
Giải câu 1. Nối mỗi hình với tên gọi của nó :

	<table border="1"> <tr><td>Đoạn thẳng AB</td></tr> <tr><td>Đường thẳng AB</td></tr> <tr><td>Đường gấp khúc OPQR</td></tr> <tr><td>Hình tam giác ABC</td></tr> <tr><td>Hình tứ giác ABCD</td></tr> <tr><td>Hình vuông MNPQ</td></tr> <tr><td>Hình chữ nhật GHIK</td></tr> </table>	Đoạn thẳng AB	Đường thẳng AB	Đường gấp khúc OPQR	Hình tam giác ABC	Hình tứ giác ABCD	Hình vuông MNPQ	Hình chữ nhật GHIK	
Đoạn thẳng AB									
Đường thẳng AB									
Đường gấp khúc OPQR									
Hình tam giác ABC									
Hình tứ giác ABCD									
Hình vuông MNPQ									
Hình chữ nhật GHIK									
									
									
									

Lời giải:

	<table border="1"> <tr><td>Đoạn thẳng AB</td></tr> <tr><td>Đường thẳng AB</td></tr> <tr><td>Đường gấp khúc OPQR</td></tr> <tr><td>Hình tam giác ABC</td></tr> <tr><td>Hình tứ giác ABCD</td></tr> <tr><td>Hình vuông MNPQ</td></tr> <tr><td>Hình chữ nhật GHIK</td></tr> </table>	Đoạn thẳng AB	Đường thẳng AB	Đường gấp khúc OPQR	Hình tam giác ABC	Hình tứ giác ABCD	Hình vuông MNPQ	Hình chữ nhật GHIK	
Đoạn thẳng AB									
Đường thẳng AB									
Đường gấp khúc OPQR									
Hình tam giác ABC									
Hình tứ giác ABCD									
Hình vuông MNPQ									
Hình chữ nhật GHIK									
									
									
									

Giải câu 2. Vẽ hình (theo mẫu) :

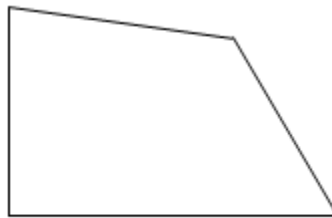


Lời giải:

(Học sinh tự vẽ).

Giải câu 3. Kẻ thêm một đoạn thẳng vào hình sau để được :

a) Hai hình tam giác.

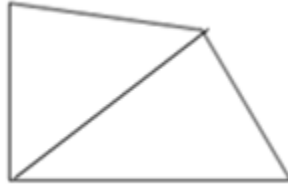


b) Một hình tam giác và một hình tứ giác.

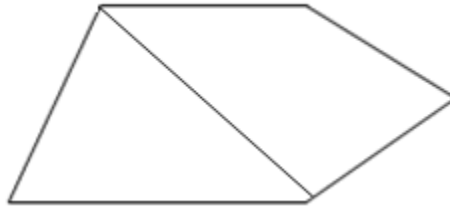


Lời giải:

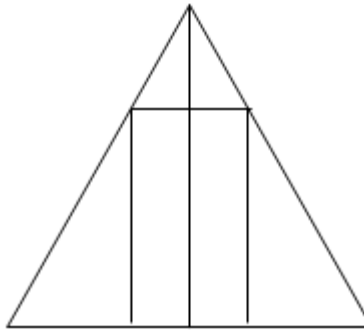
a) Hai hình tam giác.



b) Một hình tam giác và một hình tứ giác.



Giải câu 4. Số ? Trong hình bên :



a) Có hình tam giác.

b) Có hình chữ nhật.

Lời giải:

a) Có 8 hình tam giác.

b) Có 3 hình chữ nhật.