

**BÀI 166: LUYỆN TẬP CHUNG***Giải Bài 166 trang 101 VBT Toán lớp 2 Tập 2***Giải câu 1. Tính nhẩm:**

$2 \times 8 = \dots$

$16 : 2 = \dots$

$21 : 3 = \dots$

$4 \times 5 = \dots$

$3 \times 8 = \dots$

$24 : 3 = \dots$

$5 \times 6 = \dots$

$5 \times 4 = \dots$

$4 \times 8 = \dots$

$40 : 4 = \dots$

$28 : 4 = \dots$

$20 : 4 = \dots$

$5 \times 8 = \dots$

$40 : 5 = \dots$

$3 \times 6 = \dots$

$20 : 5 = \dots$

**Lời giải:**

$2 \times 8 = 16$

$16 : 2 = 8$

$21 : 3 = 7$

$4 \times 5 = 20$

$3 \times 8 = 24$

$24 : 3 = 8$

$5 \times 6 = 30$

$5 \times 4 = 20$

$4 \times 8 = 32$

$40 : 4 = 10$

$28 : 4 = 7$

$20 : 4 = 5$

$5 \times 8 = 40$

$40 : 5 = 8$

$3 \times 6 = 18$

$20 : 5 = 4$

**Giải câu 2. Đặt tính rồi tính:**

$56 + 38$

$73 - 39$

.....

.....

.....

.....

.....

.....

$247 + 432$

$658 - 214$

.....

.....

.....

.....

.....

**Lời giải:**

$$\begin{array}{r}
 56 \\
 + 38 \\
 \hline
 94
 \end{array}
 \qquad
 \begin{array}{r}
 73 \\
 - 39 \\
 \hline
 34
 \end{array}
 \qquad
 \begin{array}{r}
 247 \\
 + 432 \\
 \hline
 679
 \end{array}
 \qquad
 \begin{array}{r}
 658 \\
 - 214 \\
 \hline
 444
 \end{array}$$

**Giải câu 3. Tính chu vi hình tam giác, biết độ dài các cạnh lần lượt là: 6cm, 8cm, 10cm.**

**Lời giải:**

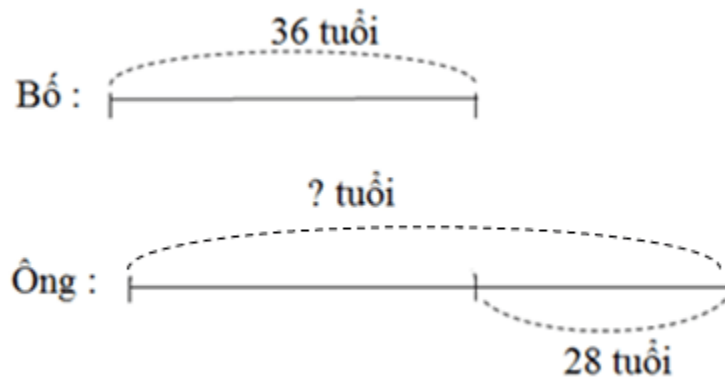
Chu vi hình tam giác là:

$$6 + 8 + 10 = 24 \text{ (cm)}$$

Đáp số: 24 cm

**Giải câu 4. Năm nay bố 36 tuổi, ông nhiều hơn bố 28 tuổi. Hỏi năm nay ông bao nhiêu tuổi?**

**Tóm tắt**



**Lời giải:**

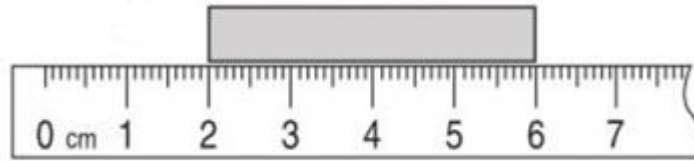
Số tuổi của ông là:

$$36 + 28 = 64 \text{ (tuổi)}$$

Đáp số: 64 tuổi

**Giải câu 5. Khoanh tròn vào chữ đặt trước câu trả lời đúng:**

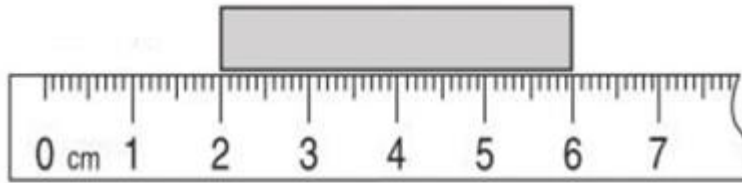
Độ dài của băng giấy là:



- A. 60mm      B. 40mm      C. 20mm      D. 4mm

**Lời giải:**

Độ dài của băng giấy là:



- A. 60mm      **B. 40mm**      C. 20mm      D. 4mm