

Nội dung bài viết

1. [Giải bài: Em làm được những gì? Vở bài tập Toán 2 Tập 1 - Chân trời sáng tạo](#)

- 1.1. [Giải bài 1 trang 119 VBT Toán 2](#)
- 1.2. [Giải bài 2 trang 119 VBT Toán 2](#)
- 1.3. [Giải bài 3 trang 119 VBT Toán 2](#)
- 1.4. [Giải bài 4 trang 119 VBT Toán 2](#)
- 1.5. [Giải bài 5 trang 119 VBT Toán 2](#)

Giải bài: Em làm được những gì? Vở bài tập Toán 2 Tập 1 - Chân trời sáng tạo

Giải bài 1 trang 119 VBT Toán 2

Đặt tính rồi tính

$$28 + 65 \quad 47 + 9 \quad 82 - 53 \quad 91 - 4$$

Lời giải

$\begin{array}{r} 28 \\ + \\ 65 \\ \hline 93 \end{array}$	$\begin{array}{r} 47 \\ + \\ 9 \\ \hline 56 \end{array}$	$\begin{array}{r} 82 \\ - \\ 53 \\ \hline 29 \end{array}$	$\begin{array}{r} 91 \\ - \\ 4 \\ \hline 87 \end{array}$
---	--	---	--

Giải bài 2 trang 119 VBT Toán 2

Số viết ở mỗi hộp chỉ số lượng bóng của từng hộp. Cả hai hộp có bao nhiêu quả bóng?



Lời giải

Số quả bóng ở cả hai hộp là:

$$39 + 22 = 61 \text{ (quả)}$$

Đáp số: 61 quả

Giải bài 3 trang 119 VBT Toán 2

Quan sát hình ảnh, viết vào chỗ chấm.


Pháo hoa chúc mừng năm mới sẽ bắt đầu bắn lúc giờ buổi, thứ ngày tháng



Lời giải

Pháo hoa chúc mừng năm mới sẽ bắt đầu bắn lúc 0 giờ buổi đêm, thứ Sáu ngày 31 tháng 12.

Giải bài 4 trang 119 VBT Toán 2



Từ nhà Sên đến nhà Nấm có hai cách đi: theo đường màu đen hoặc theo đường màu xanh.

Viết vào chỗ chấm

a) Quan sát hình, ước lượng: Đường màu ngắn hơn đường màu

b) Đo và tính:

Đường màu xanh dài cm

Đường màu đen dài cm

Đường màu xanh ngắn hơn đường màu đen cm

Lời giải

a) Đường màu xanh ngắn hơn đường màu đen.


b) Học sinh đo và ghi vào chỗ chấm

Giải bài 5 trang 119 VBT Toán 2

Tìm hiểu về số bạn nữ, số bạn nam trong tổ em

a) Số? Tổ em có bạn nữ và bạn nam

b) Tô màu thể hiện số bạn trong tổ: Mỗi bạn tô một ô vuông (Số ô vuông được tô bằng số bạn trong tổ, các ô còn lại không tô)

Nữ							
Nam							








c) Dùng từ nhiều hơn hay bằng để viết về số bạn nam, nữ.

Lời giải

Học sinh tham khảo bài làm sau:

a) Tổ em có 4 bạn nữ và 3 bạn nam

b)

Nữ							
Nam							

c)

Số bạn nữ **nhiều hơn** số bạn nam