

Nội dung bài viết

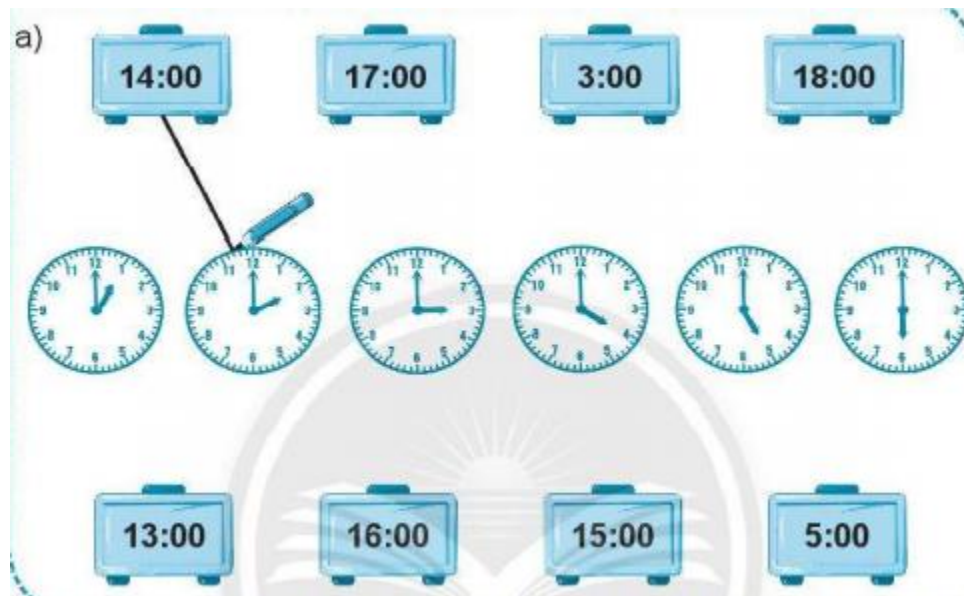
1. [Giải bài: Ngày, giờ Vở bài tập Toán 2 Tập 1 - Chân trời sáng tạo](#)

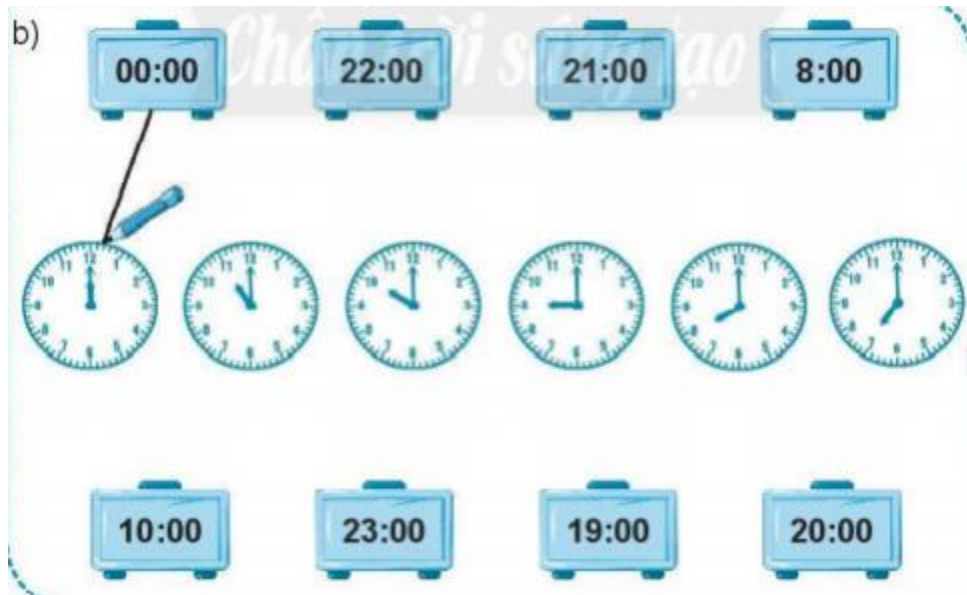
- 1.1. [Giải bài 1 trang 111 VBT Toán 2](#)
- 1.2. [Giải bài 2 trang 111 VBT Toán 2](#)
- 1.3. [Giải bài 3 trang 111 VBT Toán 2](#)
- 1.4. [Giải bài 4 trang 111 VBT Toán 2](#)
- 1.5. [Giải bài 5 trang 111 VBT Toán 2](#)
- 1.6. [Giải bài 6 trang 111 VBT Toán 2](#)

Giải bài: Ngày, giờ Vở bài tập Toán 2 Tập 1 - Chân trời sáng tạo

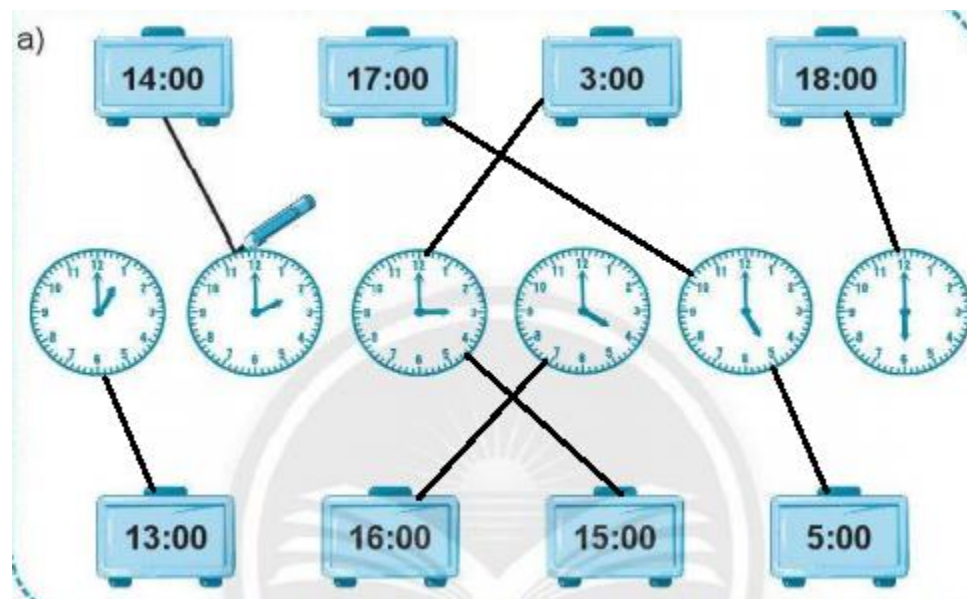
Giải bài 1 trang 111 VBT Toán 2

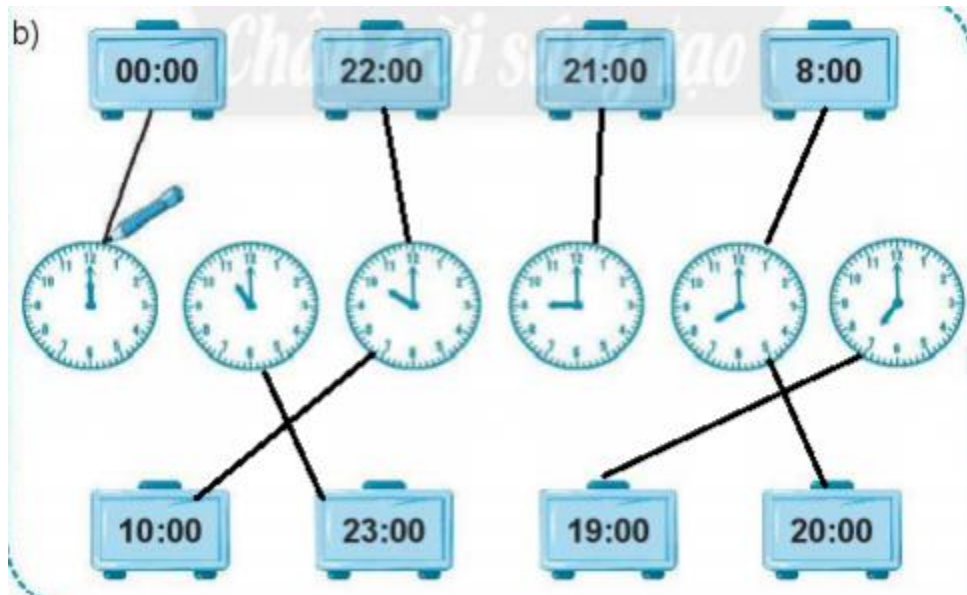
Nối theo mẫu





Lời giải





Giải bài 2 trang 111 VBT Toán 2

Đúng ghi đ, sai ghi s

- a) Một ngày có 24 giờ
 b) 24 giờ trong một ngày được tính từ 0 giờ đến 12 giờ
 c) Buổi sáng: từ 1 giờ đến 10 giờ
 d) Buổi trưa: từ 11 giờ đến 15 giờ
 e) Buổi chiều: từ 13 giờ đến 18 giờ
 g) Buổi tối: từ 19 giờ đến 21 giờ
 h) Buổi đêm: từ 24h đến 0h

Lời giải

- a) Một ngày có 24 giờ **đ**
- b) 24 giờ trong một ngày được tính từ 0 giờ đến 12 giờ **s**
- c) Buổi sáng: từ 1 giờ đến 10 giờ **s**
- d) Buổi trưa: từ 11 giờ đến 15 giờ **s**
- e) Buổi chiều: từ 13 giờ đến 18 giờ **đ**

g) Buổi tối: từ 19 giờ đến 21 giờ

đ

h) Buổi đêm: từ 24h đến 0h

s

Giải bài 3 trang 111 VBT Toán 2

Vẽ thêm kim giờ cho phù hợp



Buổi sáng,
Nam thức dậy lúc **6** giờ.

Nam ăn cơm lúc **11** giờ trưa.



Nam tan học
lúc **16** giờ.



7 giờ tối, Nam chuẩn bị
sách vở cho ngày mai.



Nam ngủ
lúc **10** giờ đêm.

Lời giải



Giải bài 4 trang 111 VBT Toán 2

Làm theo mẫu

Mẫu:



Lời giải

Mẫu:



5 giờ chiều hay 17 giờ.



1 giờ chiều hay
..13.. giờ.



12 giờ đêm hay
..0.. giờ.



9 giờ tối hay
..21.. giờ.

Giải bài 5 trang 111 VBT Toán 2

Số? (theo mẫu)

Mẫu:



16 giờ, chúng em đi bơi.



..... giờ, gia đình em ăn cơm tối.



..... giờ, em đi ngủ.

Lời giải



....**19**. giờ, gia đình em ăn cơm tối.



....**21**. giờ, em đi ngủ.

Giải bài 6 trang 111 VBT Toán 2

Khám phá

Tô màu đồng hồ (theo mẫu)

Mẫu:



Lời giải

a) Tô màu đồng hồ thứ nhất

b) Tô màu đồng hồ thứ hai