

Nội dung bài viết

1. [Giải bài: Em làm được những gì? Vở bài tập Toán 2 Tập 1 - Chân trời sáng tạo](#)

- 1.1. [Giải bài 1 trang 100 VBT Toán 2](#)
- 1.2. [Giải bài 2 trang 100 VBT Toán 2](#)
- 1.3. [Giải bài 3 trang 100 VBT Toán 2](#)
- 1.4. [Giải bài 4 trang 100 VBT Toán 2](#)
- 1.5. [Giải bài 5 trang 100 VBT Toán 2](#)
- 1.6. [Giải bài 6 trang 100 VBT Toán 2](#)

Giải bài: Em làm được những gì? Vở bài tập Toán 2 Tập 1 - Chân trời sáng tạo

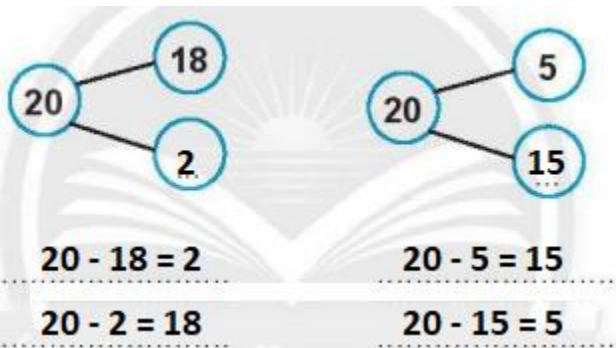
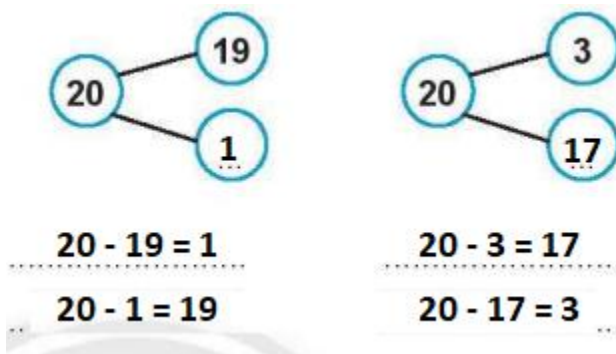
Giải bài 1 trang 100 VBT Toán 2

Làm theo mẫu

Mẫu:

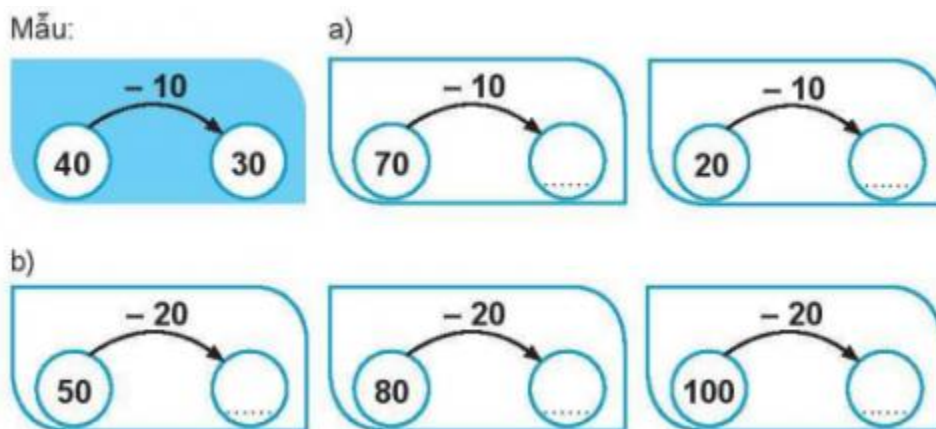
$20 - 4 = 16$
 $20 - 16 = 4$

Lời giải

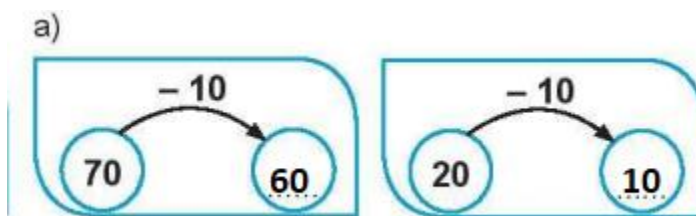


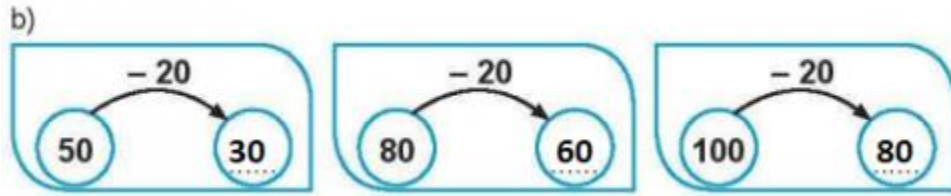
Giải bài 2 trang 100 VBT Toán 2

Số? (theo mẫu)



Lời giải





Giải bài 3 trang 100 VBT Toán 2

Đặt tính rồi tính

$73 - 28$

$60 - 34$

$85 - 7$

$30 - 3$

Lời giải

$\begin{array}{r} 73 \\ - 28 \\ \hline 45 \end{array}$	$\begin{array}{r} 60 \\ - 34 \\ \hline 26 \end{array}$	$\begin{array}{r} 85 \\ - 7 \\ \hline 78 \end{array}$	$\begin{array}{r} 30 \\ - 3 \\ \hline 27 \end{array}$
--	--	---	---

Giải bài 4 trang 100 VBT Toán 2

Nam có 52 con tem, Nam tặng Minh 18 con tem. Hỏi Nam còn lại bao nhiêu con tem?

Lời giải

Tóm tắt

Nam: 52 con tem

Tặng Minh: 18 con tem

Còn lại: ... con tem?

Bài giải

Số con tem Nam còn lại là:

$$52 - 18 = 34 \text{ (con tem)}$$

Đáp số: 34 con tem

Giải bài 5 trang 100 VBT Toán 2

a) Đánh dấu (X) vào xô có chứa nhiều nước hơn

b) Viết vào chỗ chấm

Xô màu đựng nhiều hơn xô màu là l nước



Lời giải


a) Xô màu xanh nhiều nước hơn

b) Xô màu **xanh** đựng nhiều hơn xô màu **đen** là 15 l nước

Giải bài 6 trang 100 VBT Toán 2

Thử thách

Vẽ hình vào ô trống



Lời giải

Học sinh tự vẽ hình