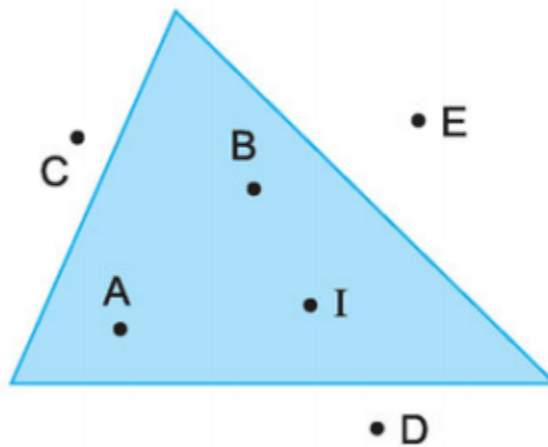


Nội dung bài viết

1. [Hướng dẫn giải bài tập trang 133, 134 SGK Toán 1: Điểm ở trong, điểm ở ngoài một hình](#)

Hướng dẫn giải bài tập trang 133, 134 SGK Toán 1: Điểm ở trong, điểm ở ngoài một hình

Bài 1: (Hướng dẫn giải bài tập số 1 SGK)



Đúng ghi đ, sai ghi s:

Điểm A ở trong hình tam giác.

Điểm C ở ngoài hình tam giác.

Điểm E ở ngoài hình tam giác.

Điểm C ở ngoài hình tam giác.

Điểm I ở ngoài hình tam giác.

Điểm D ở ngoài hình tam giác.

Hướng dẫn giải:

Điểm A ở trong hình tam giác. đ

Điểm C ở ngoài hình tam giác. đ

Điểm E ở ngoài hình tam giác. đ

Điểm C ở ngoài hình tam giác. đ



Điểm I ở ngoài hình tam giác. s

Điểm D ở ngoài hình tam giác. đ

Bài 2: (Hướng dẫn giải bài tập số 2 SGK)

a) Vẽ hai điểm trong hình vuông và 4 điểm ngoài hình vuông

b) Vẽ ba điểm trong hình tròn và 2 điểm ngoài hình tròn

**Hướng dẫn giải:**

Học sinh tự vẽ điểm theo yêu cầu

Bài 3: (Hướng dẫn giải bài tập số 3 SGK)

Tính:

$$20 + 10 + 10 = 60 - 10 - 20 =$$

$$30 + 10 + 20 = 60 - 20 - 10 =$$

$$30 + 20 + 10 = 70 + 10 - 20 =$$

Hướng dẫn giải:

$$20 + 10 + 10 = 40 \quad 60 - 10 - 20 = 30$$

$$30 + 10 + 20 = 60 \quad 60 - 20 - 10 = 30$$

$$30 + 20 + 10 = 60 \quad 70 + 10 - 20 = 60$$

Bài 4: (Hướng dẫn giải bài tập số 4 SGK)

Hoa có 10 nhãn vở, mẹ mua cho Hoa thêm 20 nhãn vở nữa. Hỏi Hoa có tất cả bao nhiêu nhãn vở?

Hướng dẫn giải:

Số nhãn vở mà Hoa có là:

$$10 + 20 = 30 \text{ (nhãn vở)}$$

Đáp số: 30 nhãn vở.