

Nội dung bài viết

1. [Giải bài: Phép trừ có nhớ trong phạm vi 100 Vở bài tập Toán 2 Tập 1 - Chân trời sáng tạo](#)
 1. [Giải bài 1 trang 97 VBT Toán 2](#)
 2. [Giải bài 2 trang 97 VBT Toán 2](#)
 3. [Giải bài 3 trang 97 VBT Toán 2](#)
 4. [Giải bài 4 trang 97 VBT Toán 2](#)
 5. [Giải bài 5 trang 97 VBT Toán 2](#)
 6. [Giải bài 6 trang 97 VBT Toán 2](#)
 7. [Giải bài 7 trang 97 VBT Toán 2](#)
 8. [Giải bài 8 trang 97 VBT Toán 2](#)
 9. [Giải bài 9 trang 97 VBT Toán 2](#)
 10. [Giải bài 10 trang 97 VBT Toán 2](#)

Giải bài: Phép trừ có nhớ trong phạm vi 100 Vở bài tập Toán 2 Tập 1 - Chân trời sáng tạo

Giải bài 1 trang 97 VBT Toán 2

Đặt tính rồi tính

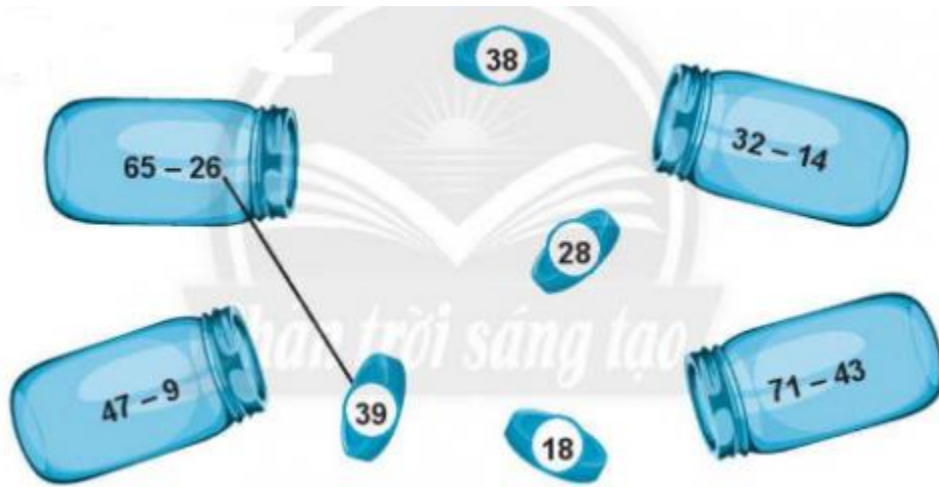
62 - 15 87 - 48 22 - 7 34 - 6

Lời giải

62	87	22	34
-	-	-	-
15	48	7	6
<hr/>	<hr/>	<hr/>	<hr/>
47	39	15	28

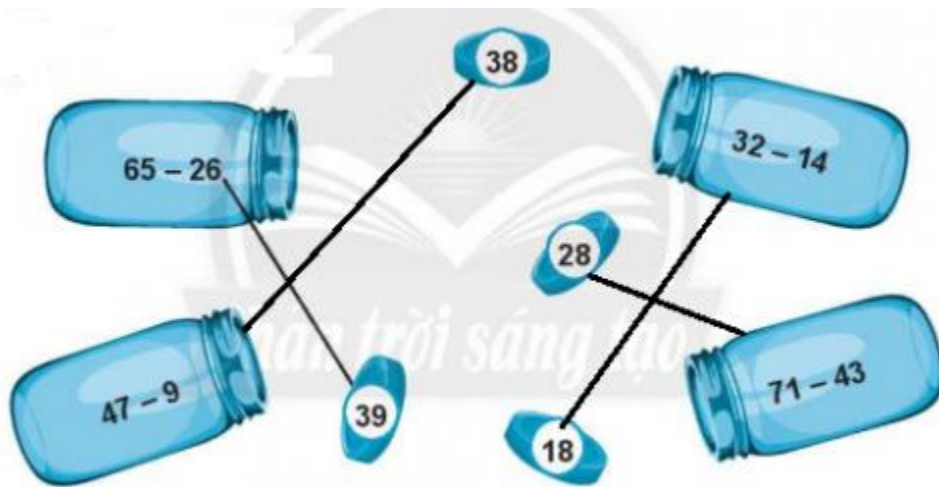
Giải bài 2 trang 97 VBT Toán 2

Nói (theo mẫu)




Lời giải

Ta nối như sau:




Giải bài 3 trang 97 VBT Toán 2

Số? (theo mẫu)



Lời giải

**Giải bài 4 trang 97 VBT Toán 2**

Tính nhẩm

$60 - 10 + 30 = \dots\dots\dots$ $20 - 7 - 3 = \dots\dots\dots$

$100 - 20 - 40 = \dots\dots\dots$ $15 + 5 - 8 = \dots\dots\dots$

Lời giải

$60 - 10 + 30 = 80$ $20 - 7 - 3 = 10$

$100 - 20 - 40 = 60$ $15 + 5 - 8 = 12$

Giải bài 5 trang 97 VBT Toán 2

Điền >, <, =

$60 \dots 93 - 26$ $59 \dots 72 - 19$

$33 \dots 61 - 28$ $68 \dots 68 - 0$

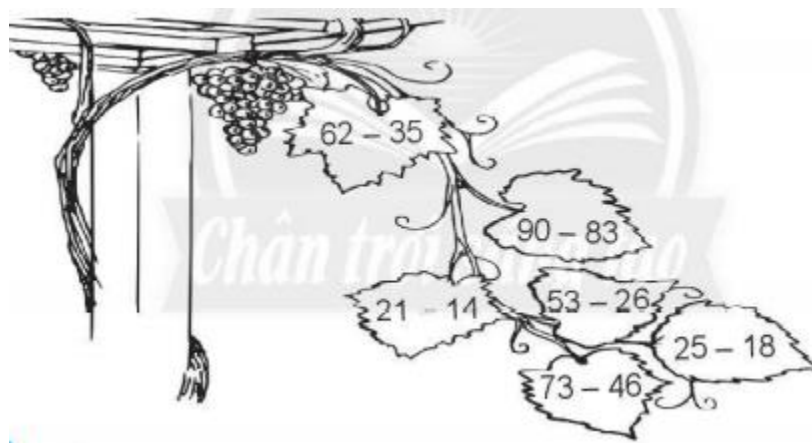
Lời giải

$60 < 93 - 26$ $59 > 72 - 19$

$33 = 61 - 28$ $68 = 68 - 0$

Giải bài 6 trang 97 VBT Toán 2

Tô màu giống nhau cho những chiếc lá có hiệu bằng nhau



Lời giải

$$62 - 35 = 53 - 26 = 73 - 46 = 27$$

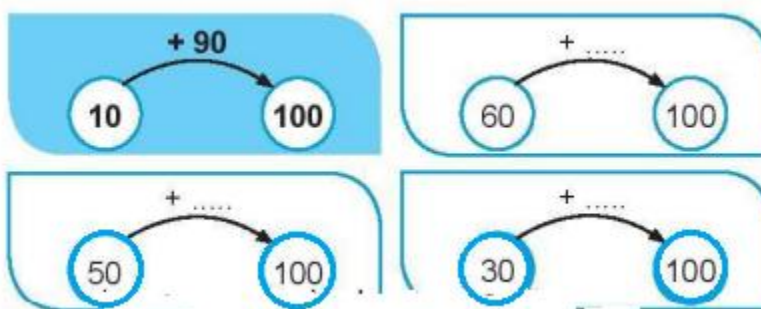
$$90 - 83 = 21 - 14 = 25 - 18 = 7$$

Học sinh tự tô màu

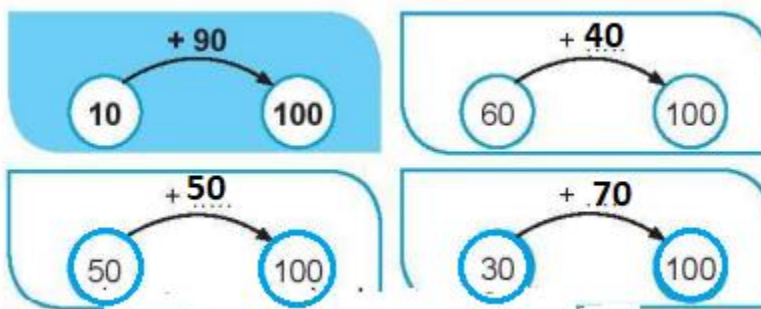
Giải bài 7 trang 97 VBT Toán 2

Số?

Mẫu:



Lời giải



Giải bài 8 trang 97 VBT Toán 2

Tính:

a) $25 - 5 - 12 = \dots\dots\dots$

b) $52 - 2 - 17 = \dots\dots\dots$

c) $73 - 3 - 44 = \dots\dots\dots$

d) $48 - 8 - 26 = \dots\dots\dots$

Lời giải

a) $25 - 5 - 12 = 8$

b) $52 - 2 - 17 = 33$

c) $73 - 3 - 44 = 26$

d) $48 - 8 - 26 = 14$

Giải bài 9 trang 97 VBT Toán 2

Trong hồ có 25 con cá, một số con trốn trong đám rong, còn lại 16 con đang bơi. Hỏi có bao nhiêu con cá trốn trong đám rong?

Lời giải

Tóm tắt:

Có: 25 con cá

Đang bơi: 16 con

Trốn trong rong: ... con?

Bài giải

Số con cá trốn trong đám rong là:


$$25 - 16 = 9 \text{ (con)}$$

Đáp số: 9 con cá

Giải bài 10 trang 97 VBT Toán 2

Thử thách

Số?



Quân cờ của Nam nằm ở vạch 29. Nam tung ba quân xúc xắc rồi di chuyển quân cờ theo tổng số các chấm tròn. Muốn di chuyển quân cờ đến vạch 41, thì trên mặt trên của quân xúc xắc cuối cùng phải có chấm tròn.

**Lời giải**

Ta có: $41 - 29 = 12$

Mà hai con xúc xắc đầu có số chấm là 5 và 4. Do đó số chấm trên mặt con xúc xắc cuối cùng là:

$$12 - 5 - 4 = 3 \text{ (chấm tròn)}$$

Đáp số: 3 chấm tròn