

Nội dung bài viết

1. [Giải bài: Em làm được những gì Vở bài tập Toán 2 Tập 1 - Chân trời sáng tạo](#)
  1. [Giải bài 1 trang 91 VBT Toán 2](#)
  2. [Giải bài 2 trang 91 VBT Toán 2](#)
  3. [Giải bài 3 trang 91 VBT Toán 2](#)
  4. [Giải bài 4 trang 91 VBT Toán 2](#)
  5. [Giải bài 5 trang 91 VBT Toán 2](#)
  6. [Giải bài 6 trang 91 VBT Toán 2](#)

*Giải bài: Em làm được những gì Vở bài tập Toán 2 Tập 1 - Chân trời sáng tạo*

Giải bài 1 trang 91 VBT Toán 2

Đặt tính rồi tính

$23 + 37 \quad 14 + 48 \quad 76 + 9$

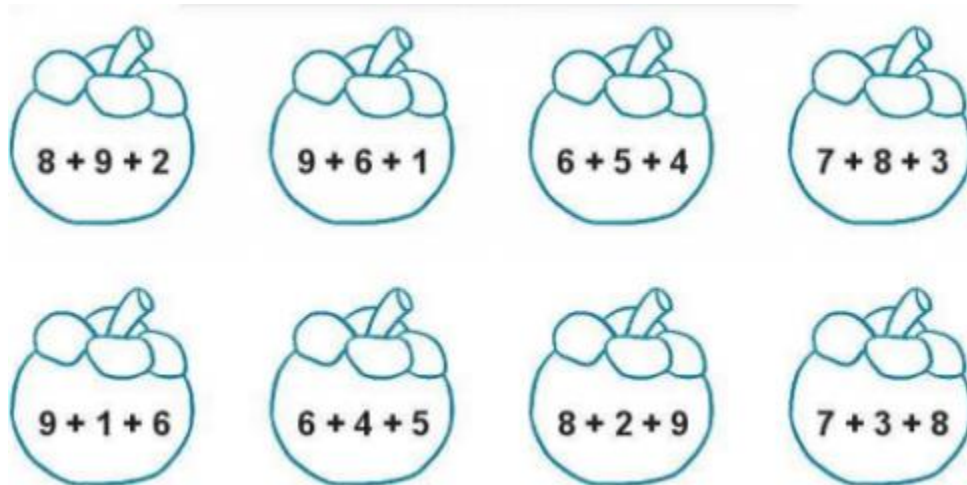
$68 + 22 \quad 36 + 56 \quad 48 + 7$

**Lời giải**

$\begin{array}{r} 23 \\ + \\ \hline 37 \\ \hline 60 \end{array}$	$\begin{array}{r} 14 \\ + \\ \hline 48 \\ \hline 62 \end{array}$	$\begin{array}{r} 76 \\ + \\ \hline 9 \\ \hline 85 \end{array}$
$\begin{array}{r} 68 \\ + \\ \hline 22 \\ \hline 90 \end{array}$	$\begin{array}{r} 36 \\ + \\ \hline 56 \\ \hline 92 \end{array}$	$\begin{array}{r} 48 \\ + \\ \hline 7 \\ \hline 55 \end{array}$

Giải bài 2 trang 91 VBT Toán 2

Tô màu giống nhau cho những quả có tổng bằng nhau



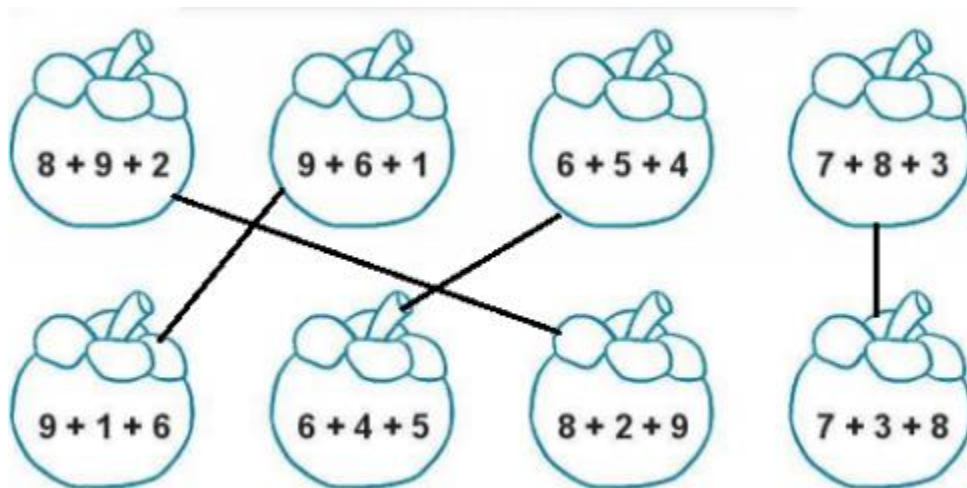
**Lời giải**

Ta có:

$8 + 9 + 2 = 19$        $9 + 6 + 1 = 16$        $6 + 5 + 4 = 15$        $7 + 8 + 3 = 18$

$9 + 1 + 6 = 16$        $6 + 5 + 4 = 15$        $8 + 2 + 9 = 19$        $7 + 3 + 8 = 18$

Ta nối như sau:



Giải bài 3 trang 91 VBT Toán 2

Điền dấu >, <, =

$26 \text{ cm} + 18 \text{ cm} \dots\dots\dots 40 \text{ cm}$

$43 \text{ dm} + 9 \text{ dm} \dots\dots\dots 50 \text{ dm}$

$331 + 591 \dots\dots\dots 1001$

$60 \text{ cm} + 40 \text{ cm} \dots\dots\dots 10 \text{ dm}$


**Lời giải**


$26 \text{ cm} + 18 \text{ cm} > 40 \text{ cm} \quad 43 \text{ dm} + 9 \text{ dm} > 50 \text{ dm}$

$331 + 591 < 1001 \quad 60 \text{ cm} + 40 \text{ cm} = 10 \text{ dm}$

**Giải bài 4 trang 91 VBT Toán 2**

Nối các cặp số có tổng là số tròn chục (theo mẫu)

**Lời giải**



Giải bài 5 trang 91 VBT Toán 2

Một cửa hàng bán dầu ăn buổi sáng bán được 38 l dầu, buổi chiều bán được nhiều hơn buổi sáng 25 l dầu. Hỏi buổi chiều cửa hàng đó bán được bao nhiêu lít dầu?

**Lời giải**

Tóm tắt:

Sáng: 38 l dầu

Chiều nhiều hơn: 25 l dầu

Chiều: ... lít dầu?

Bài giải

Buổi chiều cửa hàng đó bán được số lít dầu là:

$$38 + 25 = 63 \text{ (lít)}$$

Đáp số: 63 lít dầu

Giải bài 6 trang 91 VBT Toán 2

Thử thách

Chúng tôi là những số tròn chục nhưng không có 20. Mỗi chúng tôi thêm 20 nữa thì đều được một số nhỏ hơn 100. Vậy chúng tôi có thể là những số nào?

**Lời giải**

Mỗi chúng tôi thêm 20 nữa đều được một số nhỏ hơn 100

Do đó ban đầu chúng tôi ban đầu bé hơn 80.

Mà chúng tôi là những số tròn chục nhưng không có 20 nên chúng tôi là: 70; 60; 50; 40; 30; 10