


Nội dung bài viết

1. [Giải bài: Phép cộng có nhớ trong phạm vi 100 Vở bài tập Toán 2 Tập 1 - Chân trời sáng tạo](#)
  1. [Giải bài 1 trang 87 VBT Toán 2](#)
  2. [Giải bài 2 trang 87 VBT Toán 2](#)
  3. [Giải bài 3 trang 87 VBT Toán 2](#)
  4. [Giải bài 4 trang 87 VBT Toán 2](#)
  5. [Giải bài 5 trang 87 VBT Toán 2](#)
  6. [Giải bài 6 trang 87 VBT Toán 2](#)
  7. [Giải bài 7 trang 87 VBT Toán 2](#)
  8. [Giải bài 8 trang 87 VBT Toán 2](#)
  9. [Giải bài 9 trang 87 VBT Toán 2](#)


*Giải bài: Phép cộng có nhớ trong phạm vi 100 Vở bài tập Toán 2 Tập 1 - Chân trời sáng tạo*

Giải bài 1 trang 87 VBT Toán 2

Tính rồi nói (theo mẫu)



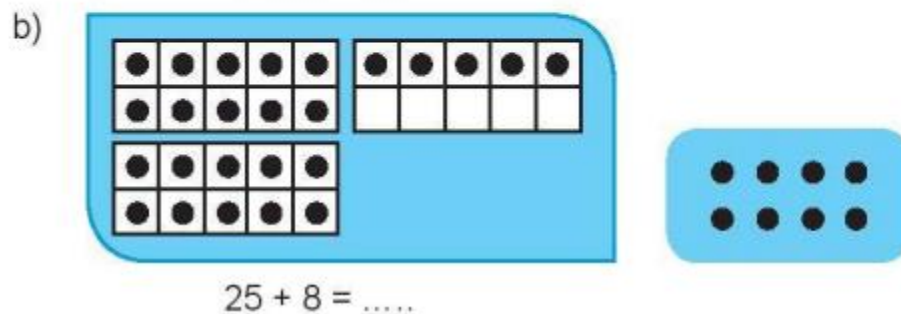
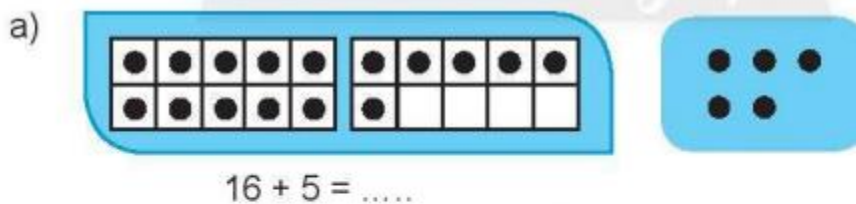
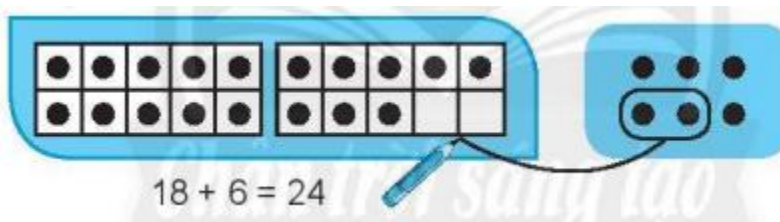
**Lời giải**



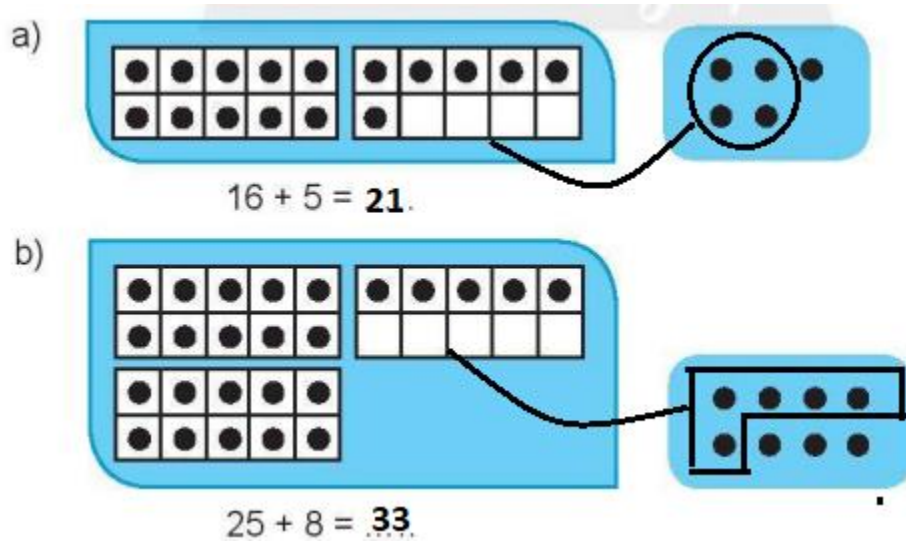
Giải bài 2 trang 87 VBT Toán 2

Làm theo mẫu

Mẫu: Gộp cho đủ chục rồi cộng với số còn lại



**Lời giải**



Giải bài 3 trang 87 VBT Toán 2

Tính

a)  $26 + 4 + 2 = \dots\dots$

b)  $25 + 5 + 3 = \dots\dots$

$26 + 6 = \dots\dots$

$25 + 8 = \dots\dots\dots$

c)  $56 + 4 + 32 = \dots\dots$

d)  $75 + 5 + 13 = \dots\dots$

$56 + 36 = \dots\dots$

$75 + 18 = \dots\dots\dots$

**Lời giải**

a)  $26 + 4 + 2 = 32$

b)  $25 + 5 + 3 = 33$

$26 + 6 = 32$

$25 + 8 = 33$

c)  $56 + 4 + 32 = 92$

d)  $75 + 5 + 13 = 93$

$56 + 36 = 92$

$75 + 18 = 93$

Giải bài 4 trang 87 VBT Toán 2

Đặt rồi tính

$28 + 37$

$45 + 16$

$52 + 29$

**Lời giải**

28	45	52
+	+	+
37	16	29
65	61	81

Giải bài 5 trang 87 VBT Toán 2

Điền >, <, = vào chỗ chấm

45 + 8 ..... 48

63 + 29 ..... 100

27 + 33 ..... 23 + 37

18 + 24 ..... 30

**Lời giải**

45 + 8 > 48

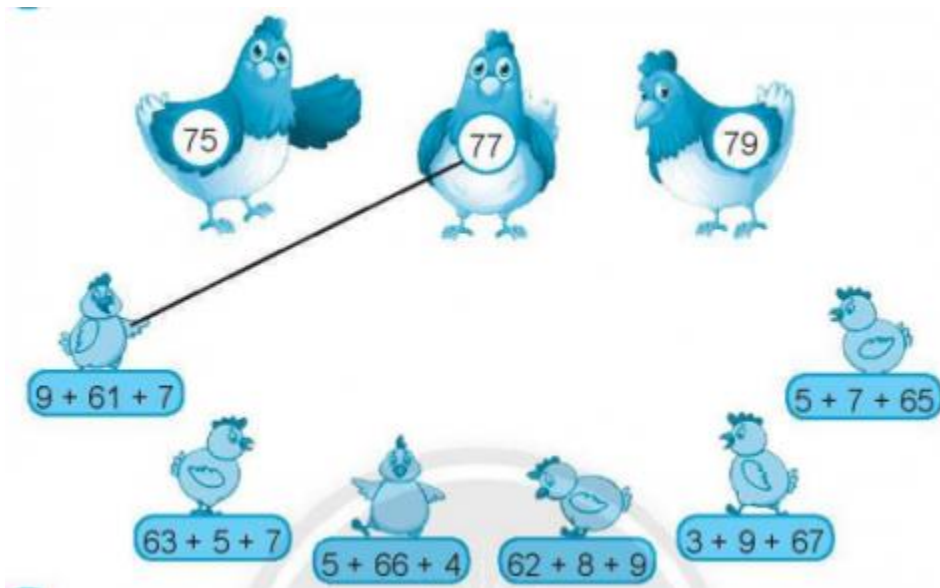
63 + 29 < 100

27 + 33 = 23 + 37

18 + 24 > 30

Giải bài 6 trang 87 VBT Toán 2

Tính để giúp gà con tìm mẹ



**Lời giải**

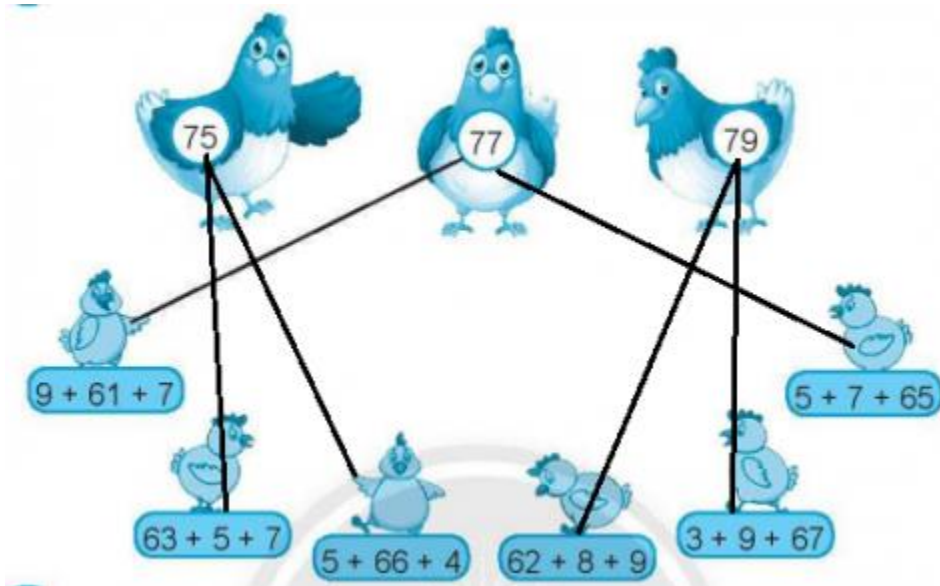
63 + 5 + 7 = 75

$$5 + 66 + 4 = 75$$

$$62 + 8 + 9 = 79$$

$$3 + 9 + 67 = 79$$


$$5 + 7 + 65 = 77$$




Giải bài 7 trang 87 VBT Toán 2

Số?

Mẫu:



**Lời giải**



Giải bài 8 trang 87 VBT Toán 2

Một câu lạc bộ thể thao có 34 bạn chơi cờ vua và 57 bạn chơi cờ tướng. Hỏi câu lạc bộ đó có tất cả bao nhiêu bạn tham gia chơi cờ vua và cờ tướng?

**Lời giải**

Tóm tắt:

Cờ vua: 34 bạn

Cờ tướng: 57 bạn

Tổng: ... bạn?

Bài giải

Số bạn tham gia chơi cờ vua và cờ tướng của câu lạc bộ đó là:

$$34 + 57 = 91 \text{ (bạn)}$$

Đáp số: 91 bạn

**Giải bài 9 trang 87 VBT Toán 2**

Vườn nhà ông Tám trồng 46 cây sầu riêng. Vườn nhà bà Ba trồng 64 cây sầu riêng. Hỏi ông Tám trồng ít hơn bà Ba bao nhiêu cây sầu riêng?

**Lời giải**

Tóm tắt:

Vườn nhà ông Tám: 46 cây sầu riêng

Vườn nhà bà Ba: 64 cây sầu riêng

Ông Tám trồng ít hơn bà Ba: ... cây sầu riêng?

Bài giải

Số cây sầu riêng ông Tám trồng ít hơn bà Ba là:

$$64 - 46 = 18 \text{ (cây)}$$

Đáp số: 18 cây