

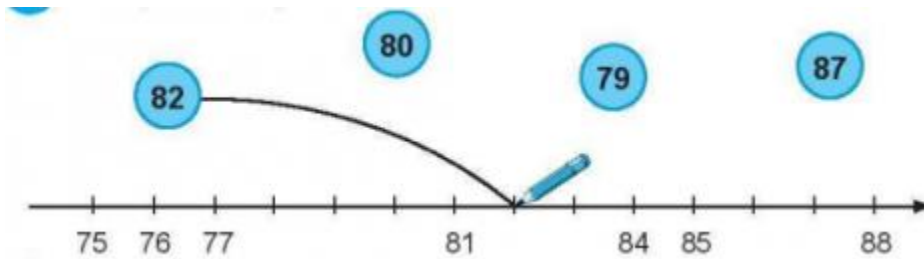
Nội dung bài viết

1. [Giải bài: Kiểm tra vở bài tập Toán 2 Tập 1 - Chân trời sáng tạo](#)
 1. [Giải bài 1 trang 79 VBT Toán 2](#)
 2. [Giải bài 2 trang 79 VBT Toán 2](#)
 3. [Giải bài 3 trang 79 VBT Toán 2](#)
 4. [Giải bài 4 trang 79 VBT Toán 2](#)
 5. [Giải bài 5 trang 79 VBT Toán 2](#)
 6. [Giải bài 6 trang 79 VBT Toán 2](#)
 7. [Giải bài 7 trang 79 VBT Toán 2](#)
 8. [Giải bài 8 trang 79 VBT Toán 2](#)
 9. [Giải bài 9 trang 79 VBT Toán 2](#)
 10. [Giải bài 10 trang 79 VBT Toán 2](#)

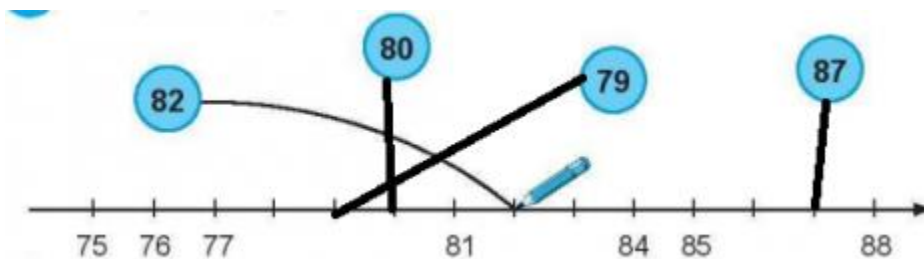
Giải bài: Kiểm tra vở bài tập Toán 2 Tập 1 - Chân trời sáng tạo

Giải bài 1 trang 79 VBT Toán 2

Nói (theo mẫu)

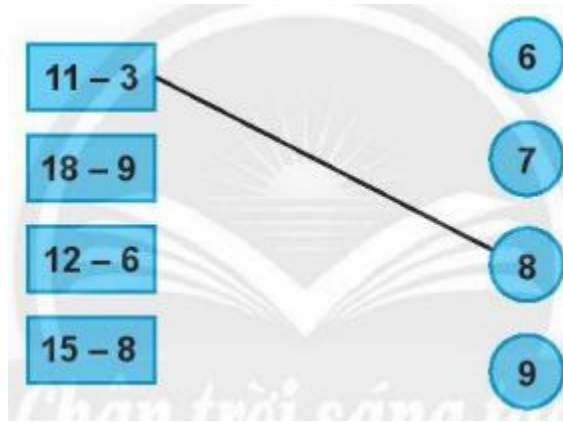


Lời giải



Giải bài 2 trang 79 VBT Toán 2

Nói (theo mẫu)



Lời giải

Ta nối như sau:



Giải bài 3 trang 79 VBT Toán 2

Đặt rồi tính.

$21 + 57$

$68 - 5$

Lời giải

Học sinh tự đặt tính:

$21 + 57 = 78$

$68 - 5 = 63$

Giải bài 4 trang 79 VBT Toán 2

Tính:

$7 + 4 = \dots$

$6 \text{ dm} + 5 \text{ dm} - 7 \text{ dm} = \dots\dots\dots$

$5 + 9 = \dots$

$12l - 3l + 9l = \dots$



Lời giải

$7 + 4 = 11 \quad 6 \text{ dm} + 5 \text{ dm} - 7 \text{ dm} = 4 \text{ dm.}$

$5 + 9 = 14 \quad 12l - 3l + 9l = 18l$



Giải bài 5 trang 79 VBT Toán 2

Khoanh vào hình để thể hiện tổng số hình tròn hai loại

**Lời giải**

Giải bài 6 trang 79 VBT Toán 2

Khoanh vào phần nhiều hơn của số hình tròn màu xanh so với số hình tròn màu đen

**Lời giải**

Giải bài 7 trang 79 VBT Toán 2

Đúng ghi đ, sai ghi s

Cho biết năm nay An 8 tuổi, chị Tư 14 tuổi.

- a) An ít hơn chị Tư 6 tuổi ...
- b) Chị Tư nhiều hơn An 6 tuổi ...
- c) An và chị Tư bằng tuổi nhau ...

Lời giải

Số tuổi chị Tư nhiều hơn An (hay An ít hơn chị Tư) là:

$$14 - 8 = 6 \text{ (tuổi)}$$

Do đó:

- a) An ít hơn chị Tư 6 tuổi đ
- b) Chị Tư nhiều hơn An 6 tuổi đ
- c) An và chị Tư bằng tuổi nhau s

Giải bài 8 trang 79 VBT Toán 2

Lan đọc được 12 cuốn truyện. Hùng đọc được ít hơn Lan 4 cuốn truyện. Hỏi Hùng đọc được bao nhiêu cuốn truyện?

Lời giải

Tóm tắt:

Lan: 12 cuốn truyện

Hùng ít hơn: 4 cuốn truyện

Hùng: ... cuốn truyện?

Bài giải

Số cuốn truyện Hùng đọc được là:

$$12 - 4 = 8 \text{ (cuốn)}$$

Đáp số: 8 cuốn truyện

Giải bài 9 trang 79 VBT Toán 2

Đúng ghi **đ**, sai ghi **s**

Cho biết bình A không có nước, bình B và bình C đầy nước. Nếu đổ hết nước từ hai bình B và C vào bình A thì:

a) Nước tràn ra ngoài bình A

b) Nước vừa đầy bình A

c) Bình A chưa đầy nước



Lời giải

Ta có tổng số nước bình B và bình C chứa là:

$$5 + 6 = 11 \text{ (lít)}$$

Bình A chứa được 12 lít nên khi đổ hết nước từ hai bình B và C vào bình A thì bình A chưa đầy nước.

Ta có:

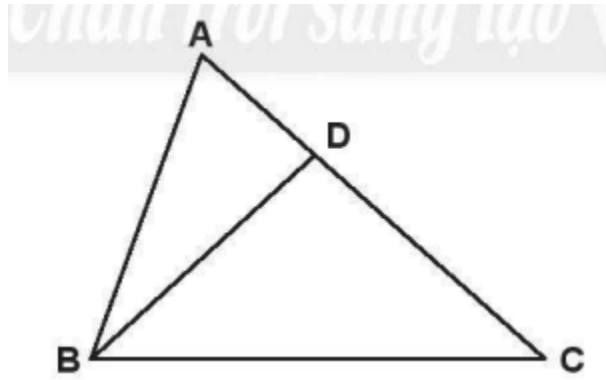
a) Nước tràn ra ngoài bình A **s**

b) Nước vừa đầy bình A **s**

c) Bình A chưa đầy nước **đ**

Giải bài 10 trang 79 VBT Toán 2

Đo rồi tính độ dài đường gấp khúc ADBC



... cm + ... cm + ... cm = ... cm

Lời giải

Học sinh đo độ dài các đoạn thẳng AD, DB, BC và tính độ dài đường gấp khúc ADBC