

Nội dung bài viết

1. [Hướng dẫn giải bài tập trang 119, 120 SGK Toán 1: Xăng-ti-mét. Đo độ dài](#)

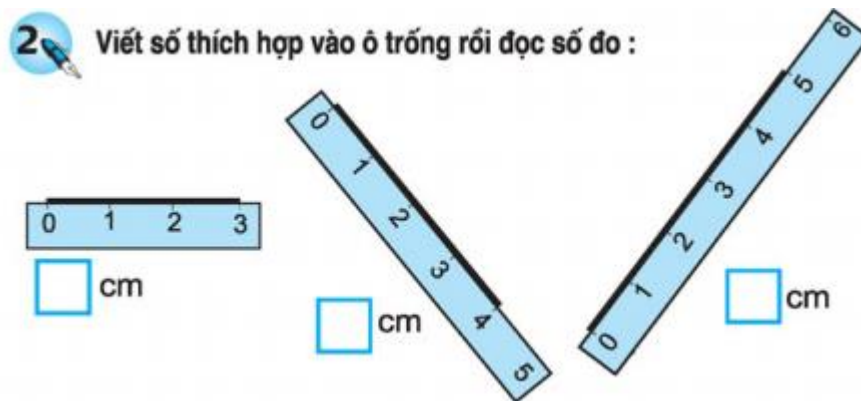
Hướng dẫn giải bài tập trang 119, 120 SGK Toán 1: Xăng-ti-mét. Đo độ dài



Thước có vạch chia từng xăng - ti - mét. Xăng - ti - mét viết tắt là cm.

Hướng dẫn giải bài Xăng - ti - mét. Đo độ dài – SGK Bài 2: (Hướng dẫn giải bài tập số 2 SGK)

Viết số thích hợp vào ô trống rồi đọc số đo:



Hướng dẫn giải:

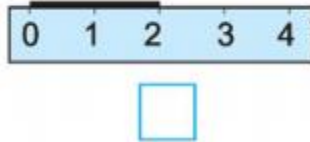
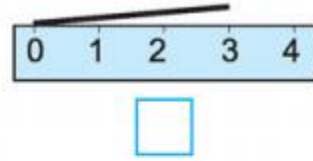
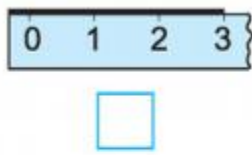
Hình 1: 3cm, đọc là ba xăng-ti-mét.

Hình 2: 5cm, đọc là năm xăng -ti-mét.

Hình 3: 6cm, đọc là sáu xăng-ti-mét.

Hướng dẫn giải bài Xăng - ti - mét. Đo độ dài – SGK Bài 3: (Hướng dẫn giải bài tập số 3 SGK)

Đặt thước đúng ghi đ, sai ghi s:

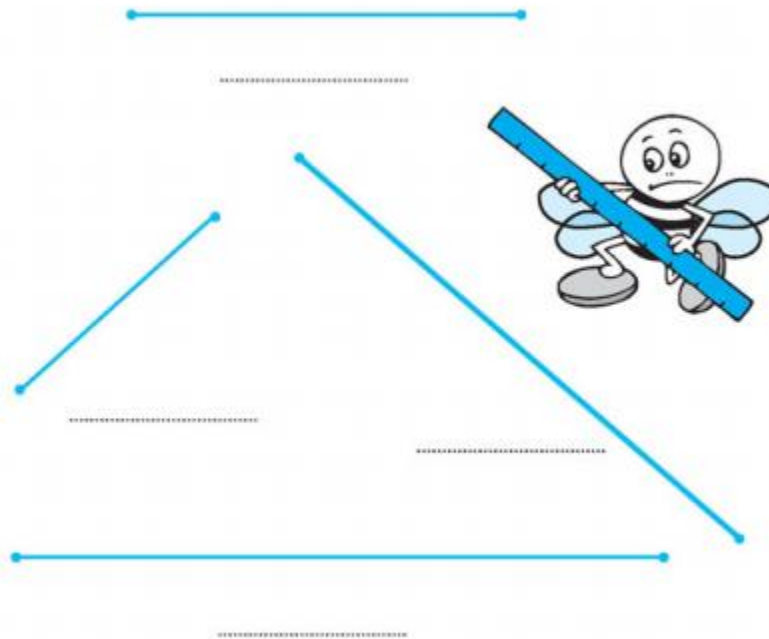


Hướng dẫn giải:

a. đ b. s c. đ

Hướng dẫn giải bài Xăng - ti - mét. Đo độ dài – SGK Bài 4: (Hướng dẫn giải bài tập số 4 SGK)

Đo độ dài mỗi đoạn thẳng rồi viết các số đo



Hướng dẫn giải:

Học sinh tự đo độ dài mỗi đoạn thẳng rồi đọc số đo.