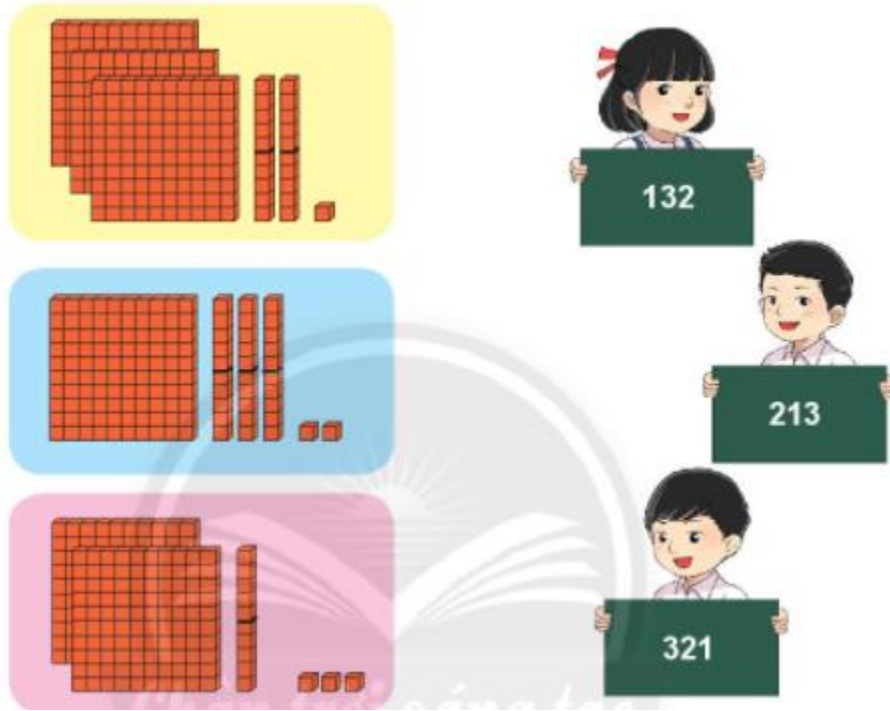


Giải bài tập Toán lớp 2: Em làm được những gì - Chân trời sáng tạo**Luyện tập****Bài 1 (trang 73 SGK Toán 2 Tập 2)**

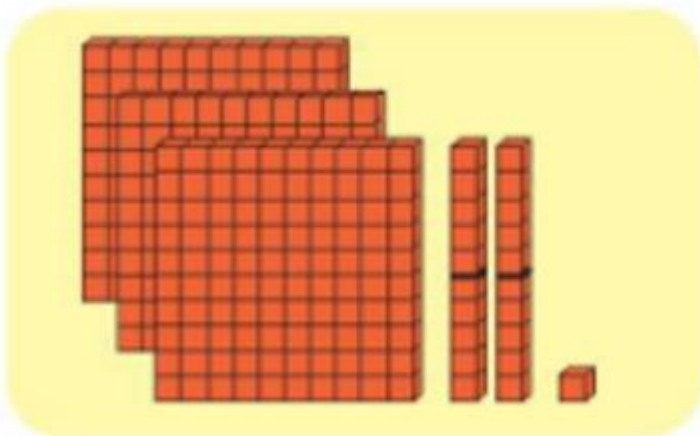
Tìm hình ảnh phù hợp với số.



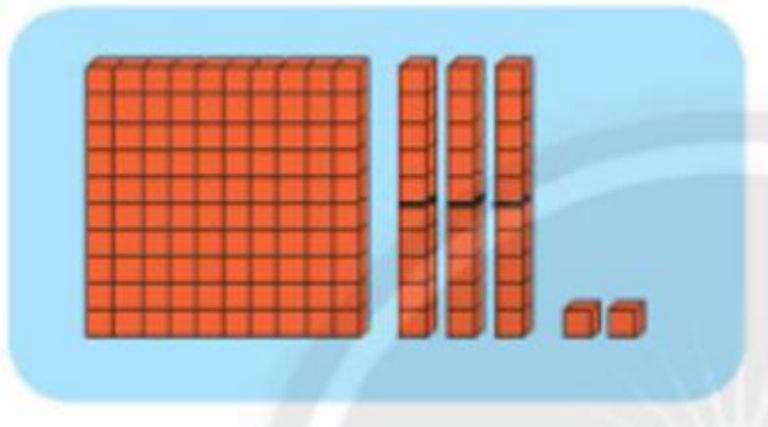
The image shows three base ten blocks representing different numbers. The top block (yellow background) represents 132: 1 hundred block, 3 tens rods, and 2 units cubes. The middle block (blue background) represents 213: 2 hundred blocks, 1 ten rod, and 3 units cubes. The bottom block (pink background) represents 321: 3 hundred blocks, 2 tens rods, and 1 unit cube. To the right, three children are holding signs with numbers: a girl with 132, a boy with 213, and a boy with 321.

Trả lời:

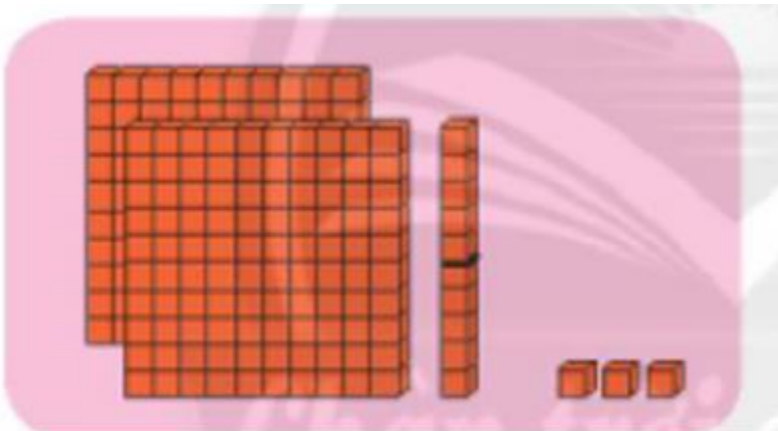
Em quan sát:



Em thấy có 3 thẻ 1 trăm, 2 thẻ 1 chục và 1 đơn vị, vậy ta được số 321

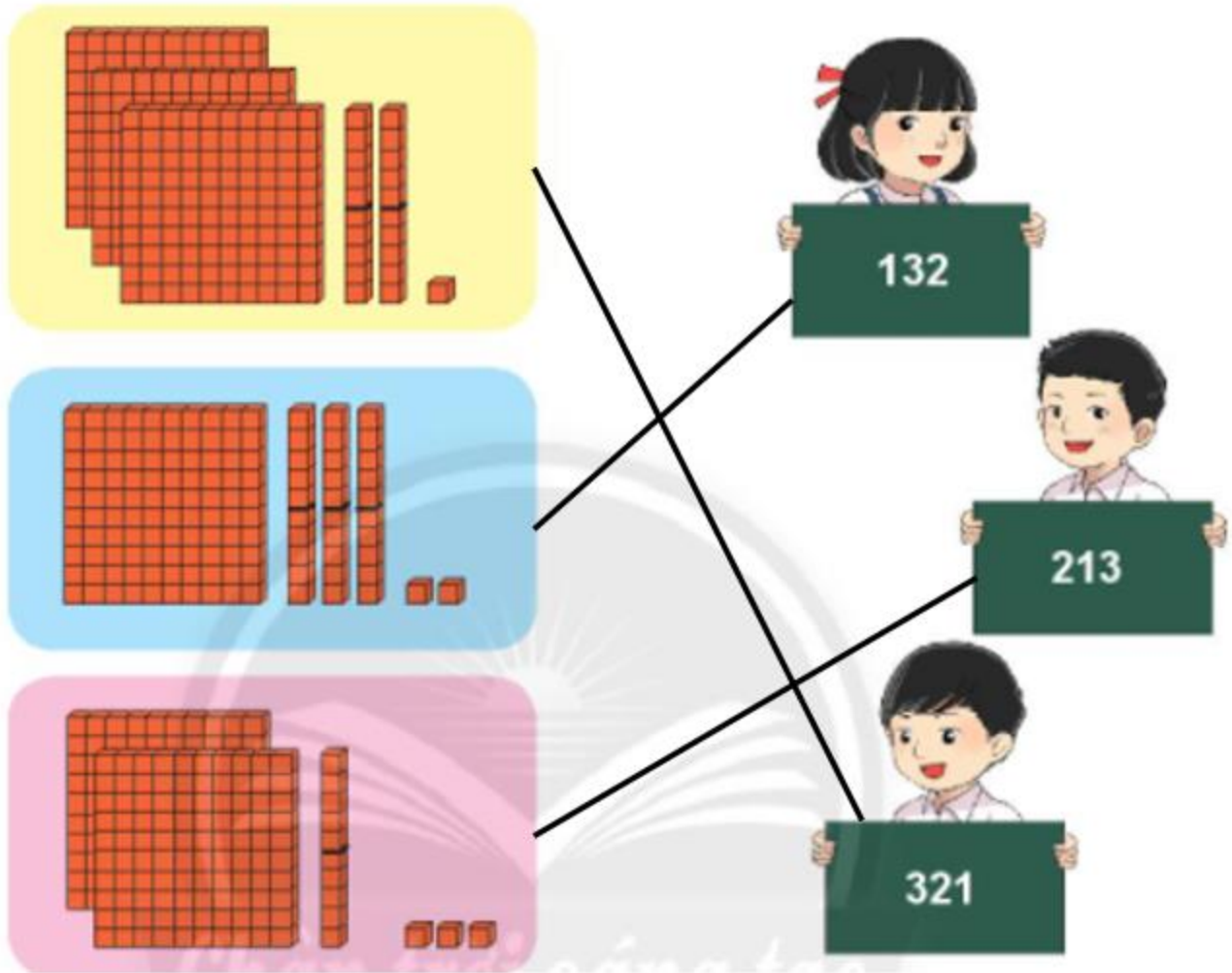


Em thấy có 1 thẻ 1 trăm, 3 thẻ 1 chục và 2 đơn vị, vậy ta được số 132



Em thấy có 2 thẻ 1 trăm, 1 thẻ 1 chục và 3 đơn vị, vậy ta được số 213

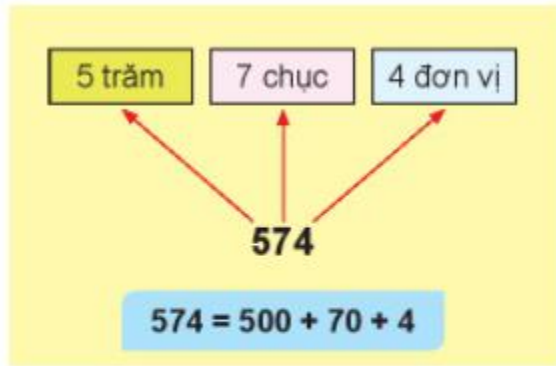
Em nói như sau:



Bài 2 (trang 73 SGK Toán 2 Tập 2)

Viết số thành tổng các trăm, chục, đơn vị.

Mẫu:



a) $286 = \dots + \dots + \dots$

b) $434 = \dots + \dots + \dots$

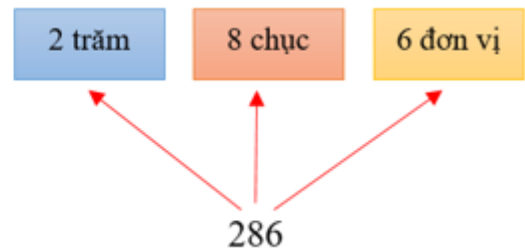
c) $790 = \dots + \dots$

d) $805 = \dots + \dots$

Trả lời:

Số: 286

Em có số 286 gồm: 2 trăm, 8 chục và 6 đơn vị



Nên em viết được như sau: $286 = 200 + 80 + 6$.

Em làm tương tự với các số tiếp theo và được kết quả như sau:

a) $286 = 200 + 80 + 6$

b) $434 = 400 + 30 + 4$

c) $790 = 700 + 90$

d) $805 = 800 + 5$

Bài 3 (trang 74 SGK Toán 2 Tập 2)

Đọc số, viết số.

Viết số	796	797	...?...	...?...	...?...
Đọc số	...?...	...?...	Bảy trăm chín mươi tám	Bảy trăm chín mươi chín	Tám trăm

Trả lời:

Em lần lượt đọc và viết các số trong bảng, em được kết quả như sau:

Viết số	796	797	798	799	800
Đọc số	Bảy trăm chín mươi sáu	Bảy trăm chín mươi bảy	Bảy trăm chín mươi tám	Bảy trăm chín mươi chín	Tám trăm

Bài 4 (trang 74 SGK Toán 2 Tập 2)

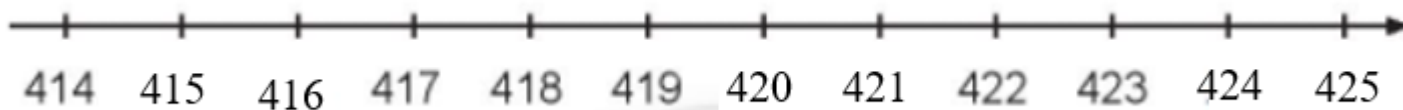
Số?



Trả lời:

Em thấy đây là dãy số liên tiếp nhau, nên em lần lượt điền các số còn thiếu vào chỗ trống.

Vậy em được kết quả như sau:



Bài 5 (trang 74 SGK Toán 2 Tập 2)

(>, =, <)?

570 600

254 200 + 50 + 4

879 890

254 200 + 5 + 4

413 423

254 500 + 20 + 4

Trả lời:

254 200 + 50 + 4

Em có: $200 + 50 + 4 = 254$, mà $254 = 254$. Vậy $254 = 200 + 50 + 4$

Em lần lượt so sánh các số tiếp theo và được kết quả như sau:

$570 < 600$

$254 = 200 + 50 + 4$

$879 < 890$

$254 > 200 + 5 + 4$

$413 < 423$

$254 < 500 + 20 + 4$

Bài 6 (trang 74 SGK Toán 2 Tập 2)

Một trang trại nuôi gà, lợn, vịt.

Số con gà là số liền sau của 200.

Số con vịt là số liền trước của 200.

Số con lợn là số gồm 2 trăm và 2 đơn vị.

Con vật nào có nhiều nhất?



Trả lời:

Em có:

Số liền sau của số 200 là số 201, mà số con gà là số liền sau của 200, nên số con gà là 201 con.

Số liền trước của số 200 là số 199, mà số con vịt là số liền trước của 200, nên số con vịt là 199 con.

Số gồm 2 trăm và 2 đơn vị là số 202, mà số con lợn là số gồm 2 trăm và 2 đơn vị, nên số con lợn là 202 con.

$199 < 201 < 202$ nên số con lợn có nhiều nhất.

Vậy em được kết quả như sau:

Số con gà là 201

Số con vịt là 199

Số con lợn là 202

Vậy con lợn có nhiều nhất

Bài 7 (trang 75 SGK Toán 2 Tập 2)

Bà Tư trồng mỗi luống 5 cây bắp cải. Hỏi 8 luống có bao nhiêu cây bắp cải?



Trả lời:

Để tính số cây bắp cải bà Tư trồng được, em lấy số luống là 8 luống nhân với số cây bắp cải trồng ở một luống là 5 cây. Em có phép tính: $8 \times 5 = 40$ (cây).


Vậy:

Số cây bắp cải trồng được là : $8 \times 5 = 40$ cây bắp cải.

Bài 8 (trang 75 SGK Toán 2 Tập 2)

Biểu đồ tranh sau đây biểu thị số học sinh một lớp 2 lựa chọn màu sắc các bạn yêu thích nhất.

Màu yêu thích nhất của chúng em



Mỗi 😊 thể hiện một học sinh.

- Có bao nhiêu học sinh thích mỗi màu sắc trên?
- Số học sinh thích màu xanh dương nhiều hơn số học sinh thích màu hồng là bao nhiêu?
- Màu nào có số học sinh thích nhiều nhất?

Trả lời:

Em quan sát biểu đồ tranh và đếm số 😊 để tính được số học sinh thích mỗi màu sắc trên.

- Có 32 học sinh thích màu sắc trên.

Để tính số học sinh thích màu xanh dương nhiều hơn số học sinh thích màu hồng là bao nhiêu, em lấy số học sinh thích màu xanh dương là 8 học sinh trừ đi số học sinh thích màu hồng là 5 học sinh. Em có phép tính: $8 - 5 = 3$ học sinh. Vậy:

- Số học sinh thích màu xanh dương nhiều hơn số học sinh thích màu hồng là 3 học sinh.

Em đếm số học sinh thích ở mỗi màu, em có: số học sinh thích màu đỏ là 12 học sinh, màu hồng là 5 học sinh, màu vàng là 7 học sinh, màu xanh dương là 8 học sinh.

Vậy:

- Màu đỏ có số học sinh thích nhiều nhất.

Bài 9 (trang 76 SGK Toán 2 Tập 2)

Đoạn đường từ trường học đến đâu là dài nhất, là ngắn nhất?



Trả lời:

Đoạn đường từ trường đến nhà sách dài 1 km, đến nhà văn hóa dài 900 m, đến công viên dài 750 m.

Đổi 1 km = 1000 m; $1000 > 900 > 750$ nên $1 \text{ km} > 900 \text{ m} > 750 \text{ m}$


Vậy:

Đoạn đường từ trường học đến nhà sách là dài nhất.

Đoạn đường từ trường học đến công viên là ngắn nhất.

Luyện tập 10: Trang 76 SGK Toán lớp 2 Tập 2

Tìm một vài đồ vật có dạng khối đã học.

**Trả lời:**

Em quan sát các đồ vật trong hình vẽ và tìm ra các đồ vật có dạng hình khối đã học là khối hình hộp hình chữ nhật, khối hình cầu, khối hình trụ. Em được kết quả như sau:

Khối hình hộp chữ nhật: Hộp sữa, tủ lạnh, ...

Khối hình cầu: Dưa hấu, quả cam....

Khối hình trụ : lọ muối, xoong ...