

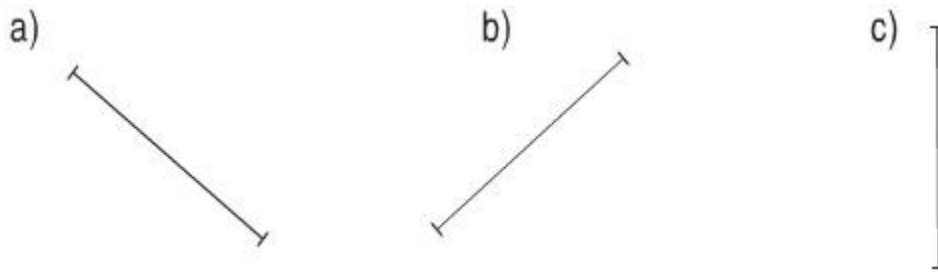
Nội dung bài viết

1. [Giải Bài 1 trang 73 SGK Toán lớp 2 Tập 1](#)
2. [Giải Bài 2 trang 73 SGK Toán lớp 2 Tập 1](#)

Mời các em học sinh và quý thầy cô tham khảo **hướng dẫn Giải Toán lớp 2 SGK Tập 1 trang 73: Đường thẳng chính xác** được đội ngũ chuyên gia biên soạn đầy đủ và ngắn gọn dưới đây.

***Giải Bài 1 trang 73 SGK Toán lớp 2 Tập 1***

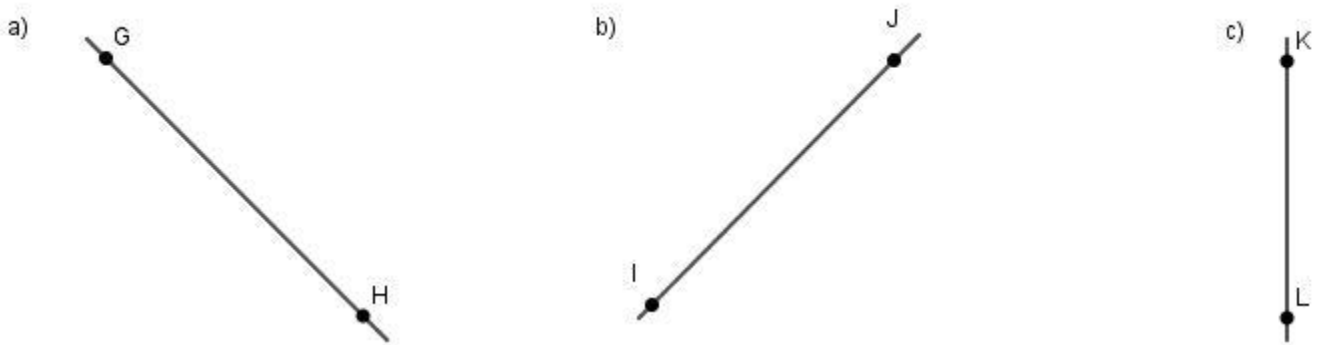
Vẽ các đoạn thẳng như hình dưới đây. Dùng thước thẳng và bút kéo dài các đoạn thẳng về hai phía để được đường thẳng, rồi ghi tên các đường thẳng đó:



**Phương pháp giải:**

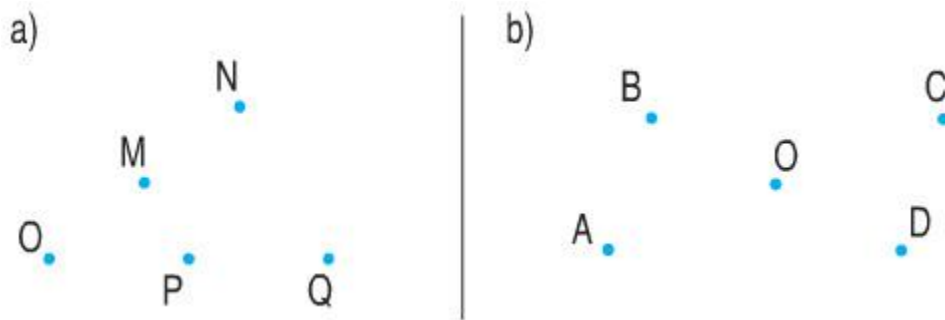
- Tay phải cầm bút, tay trái đặt một cạnh của thước trùng với đoạn thẳng đã cho.
- Kéo dài đoạn thẳng về hai phía, ta được đường thẳng cần vẽ.
- Đặt tên hai điểm trên mỗi đường thẳng bằng chữ cái in hoa.

**Lời giải chi tiết:**



**Giải Bài 2 trang 73 SGK Toán lớp 2 Tập 1**

Nêu tên ba điểm thẳng hàng ( dùng thước thẳng để kiểm tra ):

**Phương pháp giải:**

Đặt thước vào các điểm, nếu ba điểm cùng nằm trên cạnh của thước thì ba điểm đó thẳng hàng.

**Lời giải chi tiết:**

a) Ba điểm O, M, N thẳng hàng.

Ba điểm O, P, Q thẳng hàng.

b) Ba điểm B, O, D thẳng hàng

Ba điểm A, O, C thẳng hàng.

►► **CLICK NGAY** vào nút **TẢI VỀ** dưới đây để tải về **Giải Toán lớp 2 SGK Tập 1 trang 73: Đường thẳng chính xác** file PDF hoàn toàn miễn phí.