

Nội dung bài viết

1. [Hướng dẫn giải bài tập trang 115, 116 SGK Toán 1: Bài toán có lời văn](#)

**Hướng dẫn giải bài tập trang 115, 116 SGK Toán 1: Bài toán có lời văn**

**Giải Bài 1 trang 115 SGK Toán lớp 1**

Viết số thích hợp vào chỗ chấm để có bài toán:



*Bài toán* : Có ... bạn, có thêm ... bạn đang đi tới. Hỏi có tất cả bao nhiêu bạn ?


Bài toán: Có...bạn, có thêm...bạn đang đi tới. Hỏi có tất cả bao nhiêu bạn?

**Hướng dẫn giải Toán lớp 1 trang 115 bài 1**

Bài toán: Có 1 bạn, có thêm 3 bạn đang đi tới. Hỏi có tất cả bao nhiêu bạn?

**Giải Bài 2 trang 115 SGK Toán lớp 1**

Viết số thích hợp vào chỗ chấm để có bài toán:




Bài toán: Có...con thỏ, có thêm...con thỏ đang chạy tới. Hỏi có tất cả bao nhiêu con thỏ?

**Hướng dẫn giải Toán lớp 1 trang 115 bài 2**

Bài toán: Có 5 con thỏ, có thêm 4 con thỏ đang chạy tới. Hỏi có tất cả bao nhiêu con thỏ?

**Giải Bài 3 trang 115 SGK Toán lớp 1**

Viết tiếp câu hỏi để có bài toán:



Bài toán: Có 1 gà mẹ và 7 gà con.

Hỏi.....?


**Hướng dẫn giải Toán lớp 1 trang 115 bài 3**

Bài toán: Có 1 gà mẹ và 7 gà con.

Hỏi có tất cả bao nhiêu con gà?

**Giải Bài 4 trang 115 SGK Toán lớp 1**

Nhìn tranh vẽ, viết tiếp vào chỗ chấm để có bài toán:



Bài toán: Có...con chim đậu trên cành, có thêm....con chim bay đến.

Hỏi.....?

### **Hướng dẫn giải Toán lớp 1 trang 115 bài 4**

Bài toán: Có 2 con chim đậu trên cành, có thêm 4 con chim bay đến.

Hỏi có tất cả bao nhiêu con chim?