

Nội dung bài viết

1. [Giải bài: Bảng trừ Vở bài tập Toán 2 Tập 1 - Chân trời sáng tạo](#)
 1. [Giải bài 1 trang 64 VBT Toán 2](#)
 2. [Giải bài 2 trang 64 VBT Toán 2](#)
 3. [Giải bài 3 trang 64 VBT Toán 2](#)
 4. [Giải bài 4 trang 64 VBT Toán 2](#)
 5. [Giải bài 5 trang 64 VBT Toán 2](#)
 6. [Giải bài 6 trang 64 VBT Toán 2](#)
 7. [Giải bài 7 trang 64 VBT Toán 2](#)
 8. [Giải bài 8 trang 64 VBT Toán 2](#)
 9. [Giải bài 9 trang 64 VBT Toán 2](#)
 10. [Giải bài 10 trang 64 VBT Toán 2](#)

Giải bài: Bảng trừ Vở bài tập Toán 2 Tập 1 - Chân trời sáng tạo

Giải bài 1 trang 64 VBT Toán 2

Viết số vào chỗ chấm

a) $11 - 5 = 11 - 1 - \dots$

b) $15 - 6 = 15 - \dots - 1$

$12 - 7 = 12 - 2 - \dots$

$16 - \dots = 16 - 6 - 2$

$13 - 4 = 13 - \dots - 1$

$17 - \dots = 17 - 7 - 2$

$14 - 8 = 14 - \dots - 4$

$18 - \dots = 18 - 8 - 1$

Lời giải:

a) $11 - 5 = 11 - 1 - 4$

b) $15 - 6 = 15 - 5 - 1$

$12 - 7 = 12 - 2 - 5$

$16 - 8 = 16 - 6 - 2$

$13 - 4 = 13 - 3 - 1$

$17 - 9 = 17 - 7 - 2$

$14 - 8 = 14 - 4 - 4$

$18 - 9 = 18 - 8 - 1$

Giải bài 2 trang 64 VBT Toán 2

Viết số và phép tính để có bảng trừ hoàn chỉnh

Lời giải:

Ta hoàn thành bảng trừ như sau:

Giải bài 3 trang 64 VBT Toán 2

Tính nhẩm

12 - 4 = ... 17 - 9 = ... 11 - 3 = ...

15 - 6 = ... 13 - 5 = ... 14 - 7 = ...

16 - 7 = ... 18 - 9 = ... 12 - 8 = ...

Lời giải:

12 - 4 = 8 17 - 9 = 8 11 - 3 = 8

15 - 6 = 9 13 - 5 = 8 14 - 7 = 7

$16 - 7 = 9$

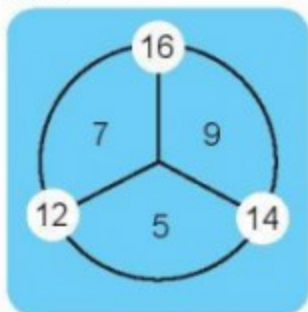
$18 - 9 = 9$

$12 - 8 = 4$

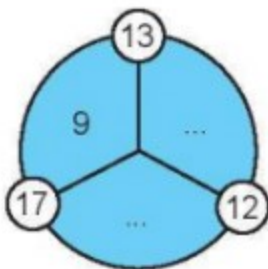
Giải bài 4 trang 64 VBT Toán 2

Số?

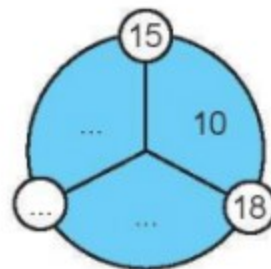
Mẫu:



a)

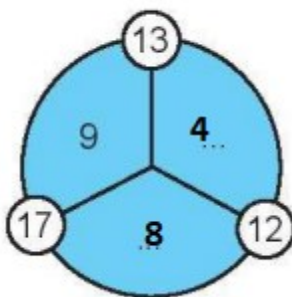


b)

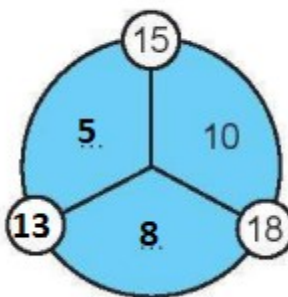


Lời giải:

a)

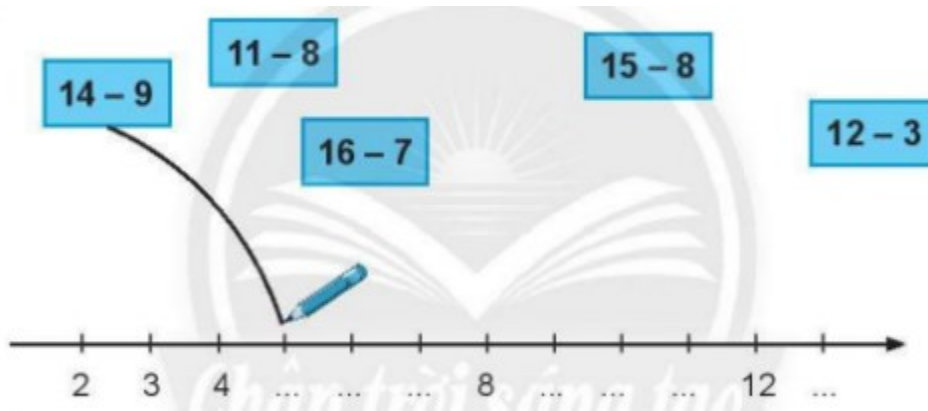


b)

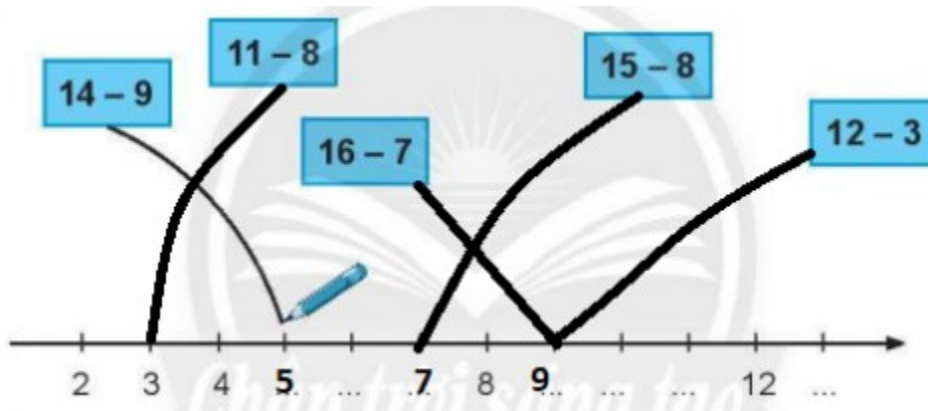


Giải bài 5 trang 64 VBT Toán 2

Nói (theo mẫu)




Lời giải:



Giải bài 6 trang 64 VBT Toán 2

Vẽ số chấm tròn thích hợp vào hai tấm bìa để trống.



Lời giải:

Học sinh tự vẽ: tấm thứ tư có 3 hàng, tấm thứ năm có 2 hàng

Giải bài 7 trang 64 VBT Toán 2

Số?

$8 + 6 = \dots$ $5 + 7 = \dots$ $9 + 8 = \dots$

$14 - 8 = \dots$ $12 - \dots = 7$ $17 - \dots = 9$

$14 - 6 = \dots$ $12 - \dots = 5$ $17 - \dots = 8$

Lời giải:

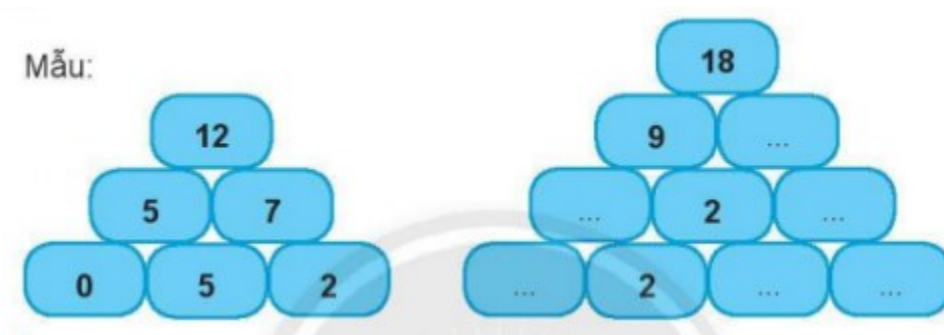
$8 + 6 = 14$ $5 + 7 = 12$ $9 + 8 = 17$

$14 - 8 = 6$ $12 - 5 = 7$ $17 - 8 = 9$

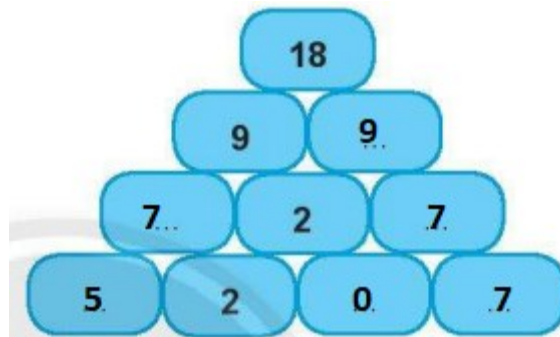
$14 - 6 = 8$ $12 - 7 = 5$ $17 - 9 = 8$

Giải bài 8 trang 64 VBT Toán 2

Số?



Lời giải:



Giải bài 9 trang 64 VBT Toán 2

Số? (Biết ba số theo hàng ngang hay cột dọc đều có tổng là 17)



Lời giải:



Giải bài 10 trang 64 VBT Toán 2

Xếp hình theo mẫu.



Lời giải:

Học sinh tự xếp theo mẫu