

Nội dung bài viết


1. [Hướng dẫn giải bài tập trang 105, 106 SGK Toán 1: Mười sáu, mười bảy, mười tám, mười chín](#)

Hướng dẫn giải bài tập trang 105, 106 SGK Toán 1: Mười sáu, mười bảy, mười tám, mười chín

Bài 1: (Hướng dẫn giải bài tập số 1 SGK)

Viết số:

- a) Mười một, mười hai, mười ba, mười bốn, mười lăm, mười sáu, mười bảy, mười tám, mười chín.

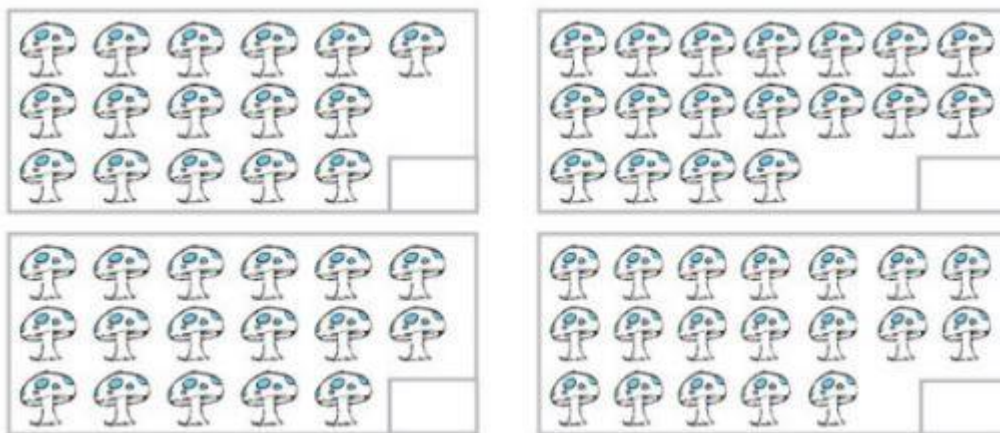


Hướng dẫn giải:

- a) 11, 12, 13, 14, 15, 16, 17, 18, 19.
- b) Viết lần lượt các số 11, 12, 13, 14, 15, 16, 17, 18 vào ô trống.

Bài 2: (Hướng dẫn giải bài tập số 2 SGK)

Điền số thích hợp vào ô trống:



Hướng dẫn giải:

Hình 1: Viết số 16 vào ô trống.

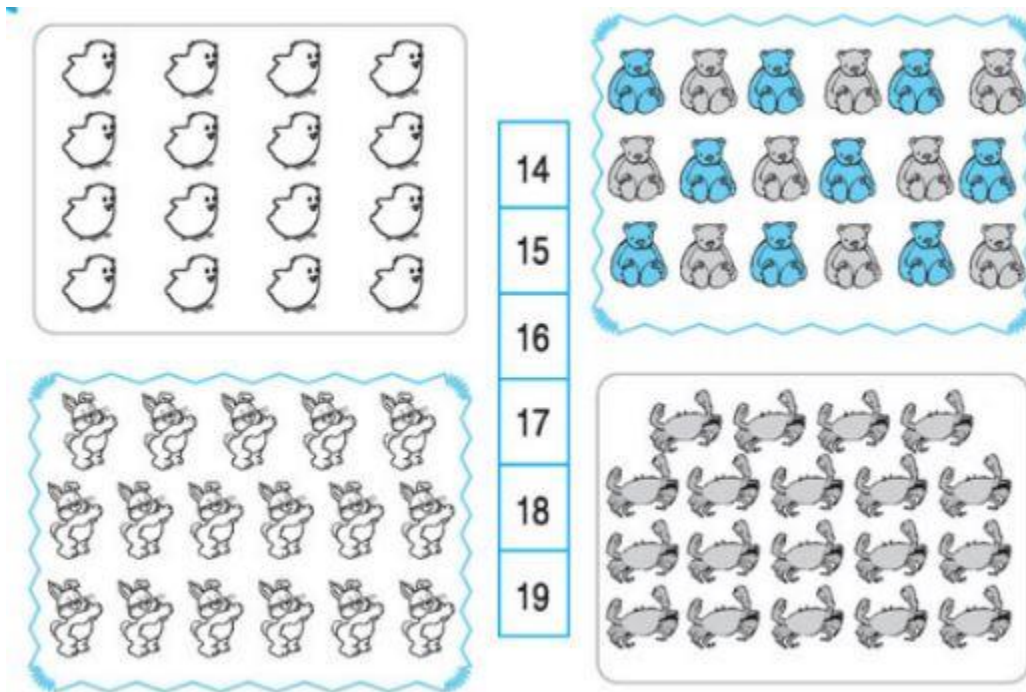
Hình 2: Viết số 18 vào ô trống.

Hình 3: Viết số 17 vào ô trống.

Hình 4: Viết số 19 vào ô trống.

Bài 3: (Hướng dẫn giải bài tập số 3 SGK)

Nối mỗi tranh với một số thích hợp:



Hướng dẫn giải:

Hình 1 nối với số 16.

Hình 2 nối với số 18.

Hình 3 nối với số 15.

Hình 4 nối với số 19.

Bài 4: (Hướng dẫn giải bài tập số 4 SGK)

Điền số và dưới mỗi vạch của tia số

**Hướng dẫn giải:**

Điền lần lượt các đáp án như sau: 10, 11, 12, 13, 14, 15, 16, 17, 18, 19